

جمهورية العراق
وزارة التربية
المديرية العامة للتعليم المهني

الرسم الصناعي

المساحة

الصف الثالث

المؤلفون

أ.م.د. ميثم مطشر شرقي

أ.م.د. حسين علوان مهدي

أ.د. محمد جعفر حمود

م.م. حارث صباح ناجي

سجى خميس بلاسم

المقدمة

يأتي هذا الكتاب مكملاً لما بدأ به من سلسلة الكتب المنهجية في موضوع (الرسم الصناعي) والمعدة لطلبة التعليم المهني بمراحلها الثلاث. حيث تشتمل المفردات في هذا الكتاب على الممازجة بين أمرين هما (الرسم الهندسي) بما فيه من مادة فنية ابداعية, وبين ما يحتاج اليه التخصص العلمي وما يضم في طياته من موضوع (المساحة الهندسية) كأمرٍ آخر, ليكون النتاج هذا الكتاب الذي بين يديك عزيزي الطالب.

يتضمن الكتاب خمسة فصول متسلسلة, روعي فيها جانب التبسيط ليكون الموضوع قريباً من فهم الطالب. حيث يشتمل كل فصل منها على عرض المادة العلمية بطريقة مبسطة وسلسة, ثم أعقبت بأمثلة تطبيقية, تليها تمارين تدريبية ليكون الطالب في تسلسل معرفي و تطبيقي للمادة العلمية. فقد تضمن الفصل الأول موضوع المخططات المساحية, وما تشتمل عليه من استخدام الرموز العامة مع التركيز على رسم هذه المخططات بأستخدام الزوايا والمسافات. حيث يتم التعامل مع رسومات مختلفة لقطع الأراضي والدور السكنية, ورسم الأبنية على الخرائط المساحية. كما يسلط الضوء على الخرائط الطبوغرافية. بينما احتوى الفصل الثاني على مفردات رسم خرائط المُلْكِيَّة والمعروفة بالخرائط الكادسترائية والمستخدمة في دوائر التسجيل العقاري. أما موضوع رسم المقاطع الطولية والعرضية في تخطيط الطرق, فقد بُحثت في الفصل الثالث من الكتاب من خلال نماذج مختلفة ولحالات متعددة من هذه المقاطع. في حين ركز الفصل الرابع على رسم الخرائط الكنتورية والتعريف بها, والأشارة الى بعض التطبيقات التي تدخل هذه الخرائط في أعمالها. وتماشياً مع التطور التكنولوجي الحاصل في موضوع الرسم, فقد احتوى الفصل الخامس من الكتاب على استخدام البرنامج التخصصي (Auto-Cad) في اعداد الرسومات. ان استخدام هذا البرنامج يعد نقلة نوعية في الانتقال من الرسم التقليدي اليدوي الى الرسم بمعونة الحاسبة. لذا يمكن توظيف مهامه لرسم بعض التطبيقات المساحية كرسم حدود قطعة أرض معينة أو خارطة كادسترائية اضافة إلى رسم المقاطع او الخارطة الكنتورية بالحاسوب بطريقة متقنة.

لقد قُدم الكتاب بأسلوب يساعد الطلبة على اكتساب المعلومة وتنمية مهاراتهم الابداعية, كما حرص المؤلفون أن تكون لدى الطلبة القدرة على التفاعل مع مفردات هذه المادة وتشجيع روح العمل الجماعي لديهم.

كلنا أمل أن يحقق الكتاب الغاية المرجوة من اعداده ليكون مصدراً و عوناً مفيداً لطلبتنا الأعزاء. كما نتمنى من الزملاء التدريسيين أن يرفدونا بملاحظاتهم السديدة من خلال عطائهم في تدريس هذه المادة العلمية, لتكون حافزاً في اثراء الكتاب ووصوله الى درجة الطموح والله ولي التوفيق.

المؤلفون

1445 - 2023

الفهرست

رقم الصفحة	المحتويات	الفصل
5	المخططات المساحية	الأول
9	رسم المخططات باستخدام الزوايا والمسافات	
18	رسم منشأ على خارطة مساحية	
23	رسم خارطة طبوغرافية	
28	رسم خرائط الملكية (الخرائط الكادستراية)	الثاني
31	رسم المضلعات باستخدام الإحداثيات	
35	رسم نموذج مبسط لخارطة كادستراية	
41	رسم نموذج مبسط لخرائط الأراضي في السجل العقاري	
45	المقاطع الطولية والعرضية	الثالث
47	رسم نموذج مقطع طولي	
60	رسم مقطع طولي ردم وحفر	
63	رسم المقاطع العرضية	
67	الخرائط الكنتورية	الرابع
72	طرائق رسم الخطوط الكنتورية (الحسابية والشبكية)	
83	رسم مقطع طولي من خارطة كنتورية	
86	تمثيل التضاريس على الخارطة الكنتورية	
91	الرسم بالحاسوب	الخامس
102	رسم حدود قطعة أرض باستخدام برنامج أوتوكاد	
105	نموذج خارطة كادستراية بسيطة باستخدام برنامج أوتوكاد	
117	رسم خارطة كنتورية بسيطة	

الفصل الأول

المخططات المساحية

Surveying Plans

اهداف الفصل :

1. أن يتعرف الطالب على كيفية رسم الرموز العامة المستخدمة في اعداد الخرائط المساحية مثل الرموز النقطية ، الخطية ، المساحية ، والرسوم.
2. أن يتعرف الطالب على كيفية رسم المخططات باستخدام الزوايا والمسافات.
3. أن يتعرف الطالب على كيفية رسم حدود قطعة أرض ، ورسم مخطط دار سكني والمعالم الرئيسة فيهما.
4. أن يتعرف الطالب على كيفية رسم منشأ على خارطة مساحية.
5. أن يتعرف الطالب على كيفية رسم خارطة طبوغرافية.

الفصل الأول

المخططات المساحية

Surveying Plans

General Symbols

1-1 الرموز العامة

تعد الرموز واحدة من الوسائل المهمة التي تستعمل في اعداد الخرائط من خلال ما تسخره في عرض ما نريد تصويره على الخارطة بطريقة فعالة. الخارطة دون رموز هي أداة غير مجدية في حين توفر الرموز معلومات مهمة عن المسافات والجغرافيا والمواقع فالخرائط محدودة للغاية فيما يمكن إن تمثله والرموز ضرورية لنقل المعلومات التي توفرها الخرائط . ونتيجة لاختلاف الظواهر المراد تمثيلها على الخرائط كان لا بد للرموز ايضاً إن تكون مختلفة ولكي تتوحد هذه اللغة في جميع ارجاء العالم وجدت اشكال لرسم اغلب هذه الرموز فيما اخذت الرموز المتبقية شكلاً يماثل شكل الظاهرة على الواقع. بشكل عام يمكن تصنيف أنواع الرموز المستخدمة في الخرائط الى نقطية وخطية ومساحية ، ورسوم.

- الرموز النقطية (Point Symbols) :

النقطة هي اول وأبسط عنصر من عناصر تصميم الخرائط ، وهي الأساس للتركيز على الأشياء المرئية. تتواجد النقاط في الفراغ او أي مساحة وتوفر مركزاً مرجعياً بالنسبة للأشكال الأخرى والمساحة المحيطة بها. وفي حين إننا غالباً ما نفكر في النقاط على إنها دائرية بطبيعتها، إلا إنها ليست كذلك بل لها اشكال مختلفة فقد تكون نقطة عادية او دوائر او مثلثات او مربعات او كرات. وهناك العديد من العوارض يمكن تمثيلها بشكل نقطة على الخرائط مثل القرى ، المدن ، اعمدة الكهرباء ، نقاط الضبط الأرضي ... وغيرها ، إنظر الجدول 1-1.


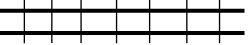



الجدول (1-1) امثلة للعوارض التي يمكن تمثيلها بشكل نقطة

الاسم	الرمز
المدن	○ ○
نقاط الضبط الأرضي	△ △
القرى	● ●
أعمدة الكهرباء	⊙ ⊙

- الرموز الخطية (Line Symbols) :

يُعرّف الخط بأنه نقطتين متصلتين في الفراغ ، وفي أحيان أخرى يُعرّف بأنه سلسلة من النقاط المتجاورة. يُستخدم هذا النوع من الرموز في تمثيل الظواهر الخطية مثل الطرق ، وخطوط سكك الحديد والانهار وخطوط أنابيب نقل النفط وشبكات المياه والصرف الصحي والحدود السياسية والادارية... وغيرها ، إنظر الجدول 1-2.






الجدول (1- 2) أمثلة للعوارض التي يمكن تمثيلها بشكل خط

الاسم	الرمز
طريق رئيسي	
سكة حديد	
مجرى مائي	
حدود سياسية	
أنابيب تحت الأرض	

- الرموز المساحية (Area Symbols):

المساحة هي منطقة معينة محددة بخطوط تسمى خطوط الحدود للشكل وتمايز وتتباين عن محيطها باللون او الشكل. تُستخدم الرموز المساحية عادةً للتعبير عن الظواهر الطبيعية والصناعية التي لها مساحة على الخرائط مثل البنايات ، البحيرات ، المناطق السكنية ، مواقف السيارات... وغيرها ، إنظر الجدول 1-3.






الجدول (1- 3) أمثلة للعوارض التي يمكن تمثيلها بشكل مساحة

الاسم	الرمز
بناية	
بحيرة	
منطقة سكنية	
مناطق رملية	
موقف سيارات	

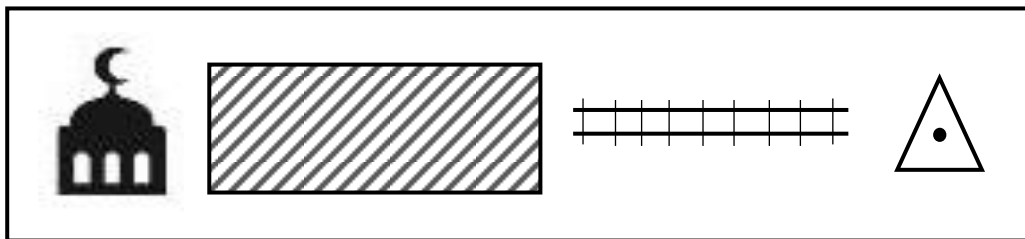
- الرسومات (Graphics) :

يمكن في بعض الأحيان استخدام الرسومات او الصور للتعبير عن العوارض الموجودة على الخارطة خصوصاً في الخرائط ذات المقاييس الصغيرة ، حيث يصبح من الصعوبة التمييز على الخارطة بين الظواهر ذات الأبعاد الصغيرة او المتوسطة لذلك فإن استخدام رموز على شكل رسومات او صور يجعل تمثيل هذه الظواهر أسهل ومن أمثلة ذلك المطارات والموانئ والمساجد ومحطات القطارات والمتاحف ، كما موضح في الجدول 1-4.

الجدول (1-4) أمثلة للعوارض التي يمكن تمثيلها بشكل رسومات

الاسم	الرمز
مطار	
محطة قطار	
ميناء	
جامع	
متحف	

مثال 1 - 1 : المطلوب رسم الرموز التالية بمقياس رسم 1:1.



تمرين 1 - 1 : ارسم الرموز التالية بمقياس رسم مناسب .

(القرى ، اعمدة الكهرباء ، حدود سياسية ، بحيرة ، متحف)

2-1 رسم المخططات باستخدام الزوايا والمسافات

(Sketching using Angles and Distances)

يُعد قياس الأطوال والزوايا أساس عمل المساحة، وهو الهيكل العام الذي يتم عليه بناء كل التفاصيل والمباني لذلك يجب توخي ومراعاة الدقة الكافية في رسم اطوال الاضلاع والزوايا للمخططات وكالاتي:

1. تهيئة ورقة الرسم من خلال ترك مسافة مناسبة لرسم اطار للورقة (2 - 3 سم) ، ومن ثم كتابة عنوان للخارطة وتحديد مقياس الرسم المناسب وثبتيته على الورقة مع وضع اتجاه الشمال على لوحة الرسم.

2. يتم رسم أحد اضلاع المضلع المطلوب على ورقة الرسم وحسب مقياس الرسم ويكون اتجاهه نسبةً لاتجاه الشمال ، على أن يُرسم بموقع مناسب داخل لوحة الرسم بحيث يتيح لبقية التفاصيل أن تُرسم بشكل كامل داخل حدود الورقة.

3. رسم بقية أضلاع المضلع نسبةً الى المسافات والزوايا المرصودة حقليا ، حيث يتم تثبيت المنقلة ، وهي اداة قياس الزوايا، على احد نهايتي الخط الذي تم رسمه بالخطوة رقم 2 ، ومن ثم تحديد الزاوية للضلع التالي وتأشير قيمة هذه الزاوية بنقطة.

4. يتم وضع المسطرة على هذه النقطة مع نهاية الخط الاول والتوصيل بينهما بخط طوله مساوي الى طول الضلع الثاني وحسب مقياس الرسم الذي تم اختياره.

5. تكرار نفس العملية للحصول على بقية أضلاع المضلع ورسمه بشكل كامل.

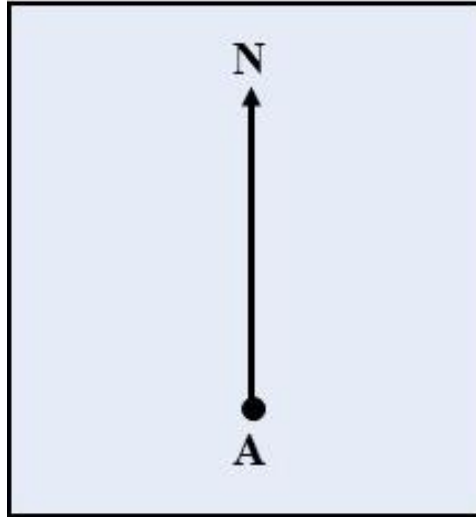
مثال 1- 2 : المطلوب رسم المضلع (ABCD) والموضحة تفاصيله في الجدول 1-5 على ورقة رسم بمقياس 1:1000

الجدول (1- 5) اطوال واتجاهات اضلاع المضلع (ABCD)

الاتجاه	الطول (متر)	الضلع
N 45° E	150	AB
S 30° E	80	BC
S 55° W	100	CD
N 72° W	67	DA

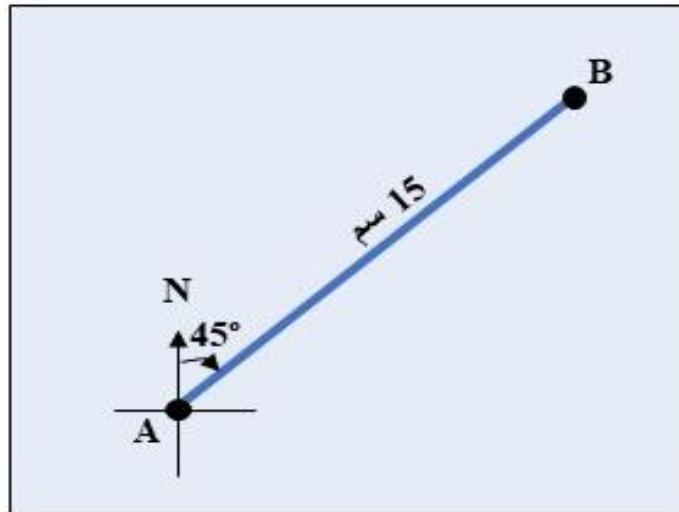
الحل:

1. نرسم النقطة A في منتصف لوحة الرسم ومنها نحدد اتجاه الشمال وكما موضح في الشكل 1-1.



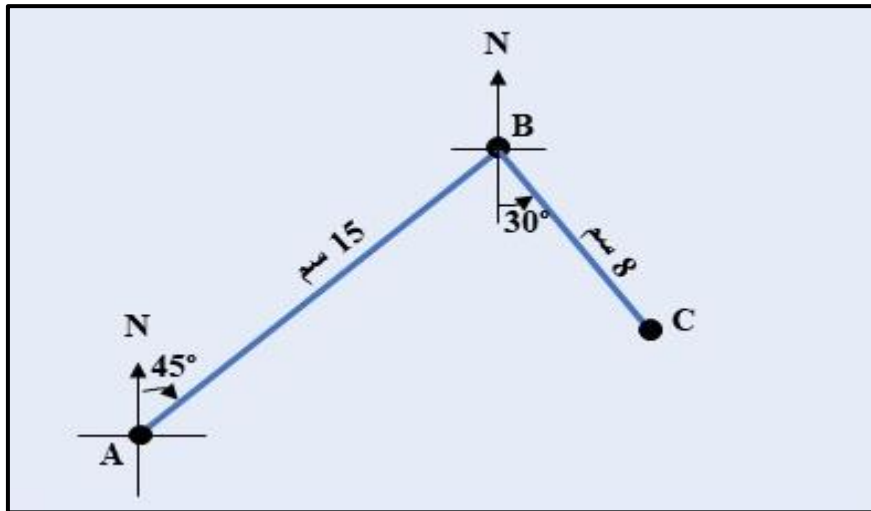
الشكل (1-1) تحديد اتجاه الشمال

2. يتم تثبيت مركز المنقلة على النقطة A والقياس من الشمال باتجاه الشرق زاوية مقدارها 45° وتأشيرها على الرسم بنقطة ومن ثم رسم الضلع AB من النقطة A باتجاه النقطة التي تم تحديدها بالمنقلة وبطول 15 سم والذي يمثل طول الضلع AB (150 متر) وحسب مقياس الرسم ، وكما موضح بالشكل 2-1.



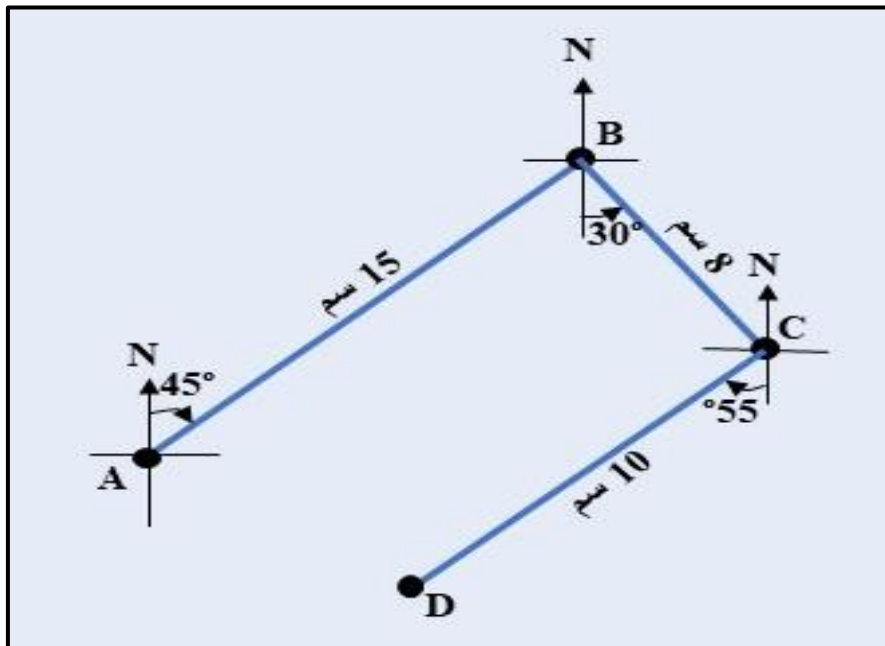
الشكل (2-1) رسم النقطة B وتحديد الضلع AB

3. لرسم الضلع BC ، يتم تثبيت مركز المنقلة على النقطة B والقياس من الجنوب باتجاه الشرق بزاوية مقدارها 30° وتحديد النقطة C بالاعتماد على الزاوية التي تم تحديدها وطول الضلع BC والذي سيكون 8 سم ، وكما موضح بالشكل 3-1.



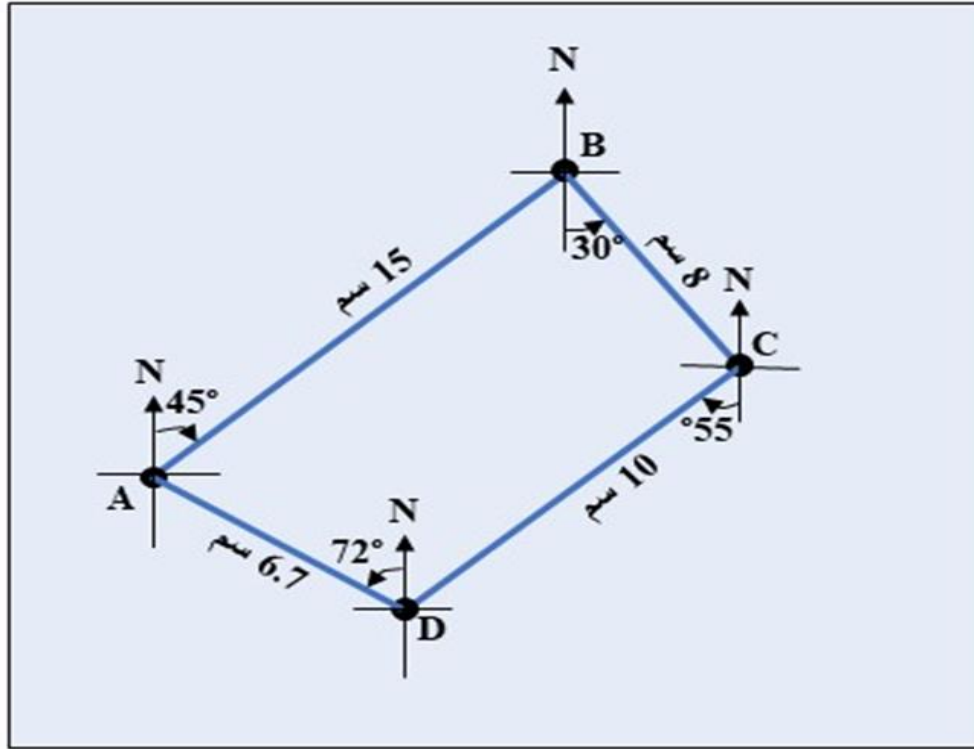
الشكل (1-3) تحديد النقطة C ورسم الضلع BC

4. لرسم الضلع CD ، يُثبت مركز منقلة القياس هذه المرة على النقطة C وتُقاس بزاوية مقدارها 55° من الجنوب باتجاه الغرب ، حيث يتم تحديد النقطة D من خلال قيمة الزاوية وطول الضلع CD والذي سيكون 10 سم ، وكما موضح في الشكل 4-1.



الشكل (1-4) تحديد النقطة D ورسم الضلع CD

5. لرسم الضلع DA ، يُثبت مركز منقلة القياس هذه المرة على النقطة D وتُقاس بزاوية مقدارها 72° من الشمال باتجاه الغرب ، بحيث يتم توصيل النقطة D بالنقطة A سيكون طول الضلع DA مساوي إلى 6.7 سم ، وكما موضح في الشكل 5-1.



الشكل (1-5) رسم الضلع DA

تمرين 2-1 : المطلوب رسم المضلع (ABCDE) بمقياس رسم 1:500 ، اذا علمت أن اتجاه الضلع AB كان N 75° E وقيم الارصادات للأضلاع والزوايا الداخلية للمضلع كما موضح في الجدول 6-1.

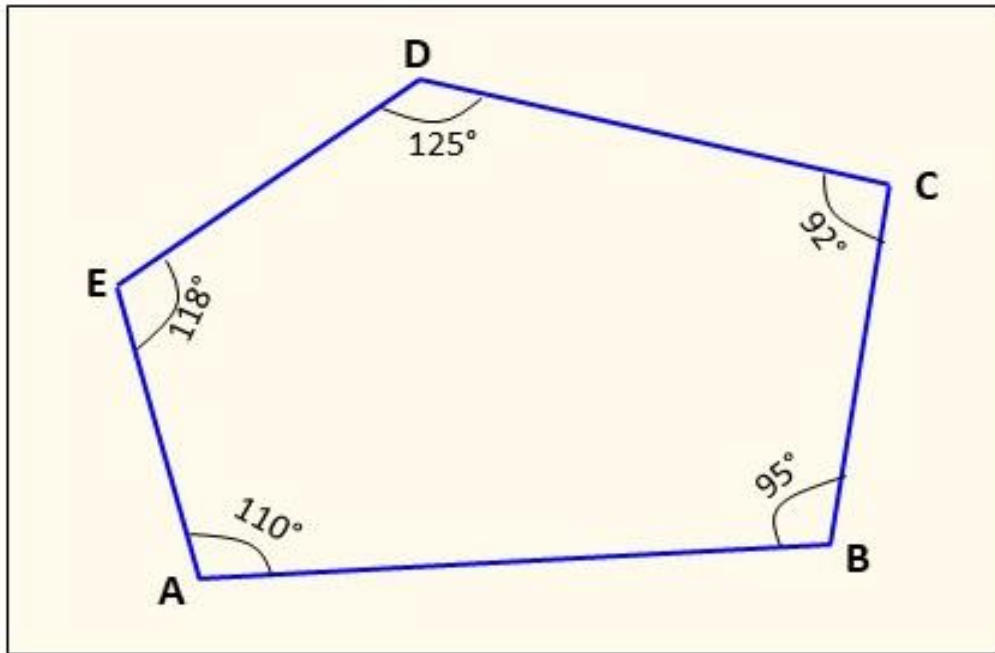
الجدول (1-6) القيم الخاصة بالمضلع (ABCDE)

الزوايا الداخلية	اسم الزاوية	الطول (متر)	الضلع
95°	ABC	60.0	AB
92°	BCD	49.0	BC
125°	CDE	51.0	CD
118°	DEA	36.0	DE
110°	EAB	30.1	EA

الحل:

1. يتم اتباع نفس الاسلوب في المثال 2-1 ، مع الاخذ بنظر الاعتبار أن المعطى في هذا التمرين قيم الزوايا الداخلية للمضلع وليست اتجاهات الأضلاع.

2. بعد الرسم سيكون الشكل النهائي للمضلع (ABCDE) كما موضح في الشكل 6-1.



الشكل (1-6) المضلع ABCDE

1-2-1 رسم حدود قطعة أرض**(Sketching the Boundaries of a Piece of Land)**

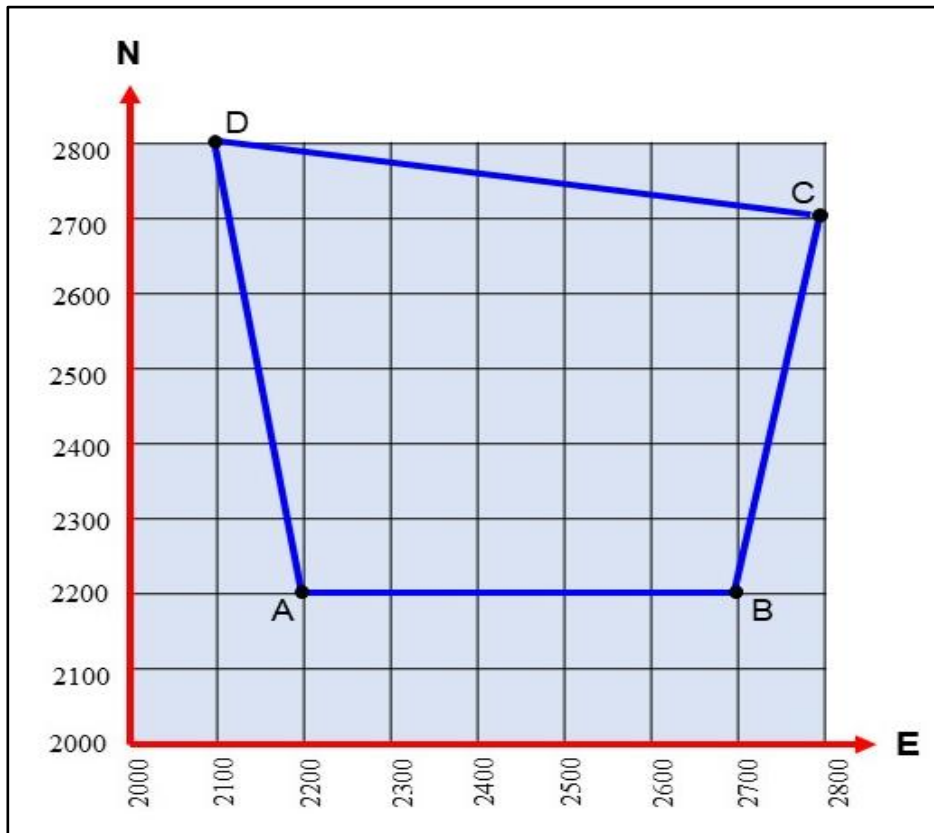
بعد جمع البيانات الحقلية الخاصة بقطعة أرض معينة والتي تكون عادة إحداثيات لأركان القطعة ، بالاعتماد على قياس الزوايا والمسافات ، والمعالم الرئيسة فيها ، يصبح من الممكن رسم هذه القطعة على ورقة بمقياس رسم مناسب.

مثال 3-1 : تم رصد إحداثيات الأركان الأربعة لقطعة الأرض ABCD وكما مبين في الجدول 7-1. المطلوب رسم شبكة الإحداثيات بمقياس 1:10000 ، ومن ثم رسم الحدود الخارجية لهذه القطعة.

الجدول (1-7) إحداثيات أركان القطعة (ABCD)

المحطة	E (m)	N (m)
A	2200	2200
B	2700	2200
C	2800	2700
D	2100	2800

- الحل:** 1. يتم رسم شبكة مربعات على الورقة ، على أن يراعي الطالب ترك مسافة 2 سم من كل جانب من جوانب الورقة كإطار. تعتمد أبعاد كل مربع من هذه المربعات على مقياس الرسم المطلوب ، ففي هذا المثال ستكون أبعاد المربع الواحد على الرسم 1سم × 1سم أي ما يعادل 100 م × 100 م بالحقيقة.
2. ترقيم نقاط التقسيمات على المحورين E و N ابتداءً من نقطة الاصل ، حيث تعتمد إحداثيات نقطة الاصل على أقرب احداثي للنقاط بالاتجاهين E و N ، ففي هذا المثال ممكن ان تكون إحداثيات نقطة الاصل (2000, 2000) كون اقل احداثي للنقاط بالاتجاه E هو 2100 للنقطة D ، واقرب احداثي للنقاط بالاتجاه N هو 2200 للنقطتين A و B.
3. لرسم أركان قطعة الأرض على شبكة المربعات ، يُقاس بعدها على محور (E) وتُحدد على المحور نقطة تمثل هذا البعد ، وبنفس الأسلوب يُقاس بعدها عن المحور (N) ويُحدد بعدها عن هذا المحور بنقطة. إن مواقع كل ركن من أركان القطعة سينتج من تقاطع العمودين اللذين سيمران بهاتين النقطتين.
4. توصيل النقاط (الأركان) مع بعضها بخطوط مستقيمة للحصول على رسم حدود قطعة الأرض المطلوبة ، كما في الشكل 1-7.



الشكل (1-7) رسم حدود القطعة (ABCD)

تمرين 3-1 : في أدناه جدول بالإحداثيات لقطعة الأرض (ABCDEF) والمطلوب رسم شبكة الإحداثيات بمقياس 1:50000 ، ومن ثم رسم الحدود الخارجية لهذه القطعة.

الجدول (8-1) إحداثيات قطعة الأرض

N(m)	E(m)	المحطة
4500	1500	A
5650	3300	B
6150	4900	C
4000	5800	D
2000	4000	E
1500	2000	F

الحل : يتم اتباع نفس الخطوات في المثال 3-1.

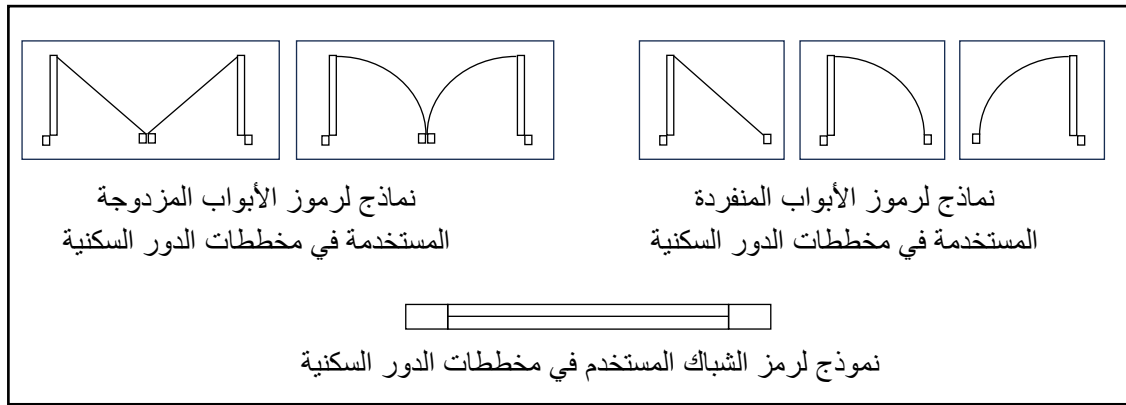
Drawing a Residence

2-2-1 رسم مخطط دار سكني

يعد رسم مخطط الدار السكنية واحداً من المخططات التي يقوم بإعدادها ورسمها المتخصصون من المهندسين والرسامين سواء أكانت بصيغة الرسم اليدوي أم باستخدام الحاسوب من خلال بعض البرامج التخصصية كبرنامج (Auto Cad) الذي ستعطي بعض تفاصيله في الفصل الخامس.

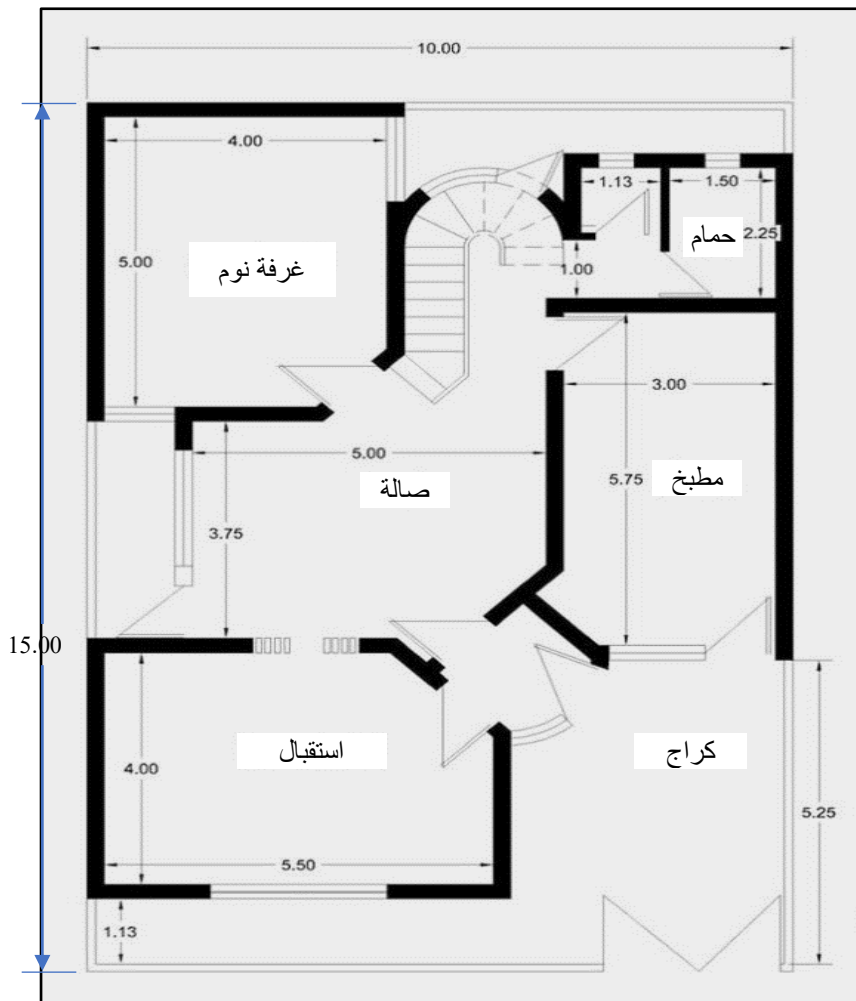
وعادةً ما يكون التعامل مع مساحات محدودة من الأراضي بأبعاد معينة لأنشاء دور سكنية وهذا الأمر يتطلب إعداد خارطة أو مخطط لتلك الدار بمقياس رسم كبير نوعاً ما (على سبيل المثال 1/100 أو غيره) وفي أغلب الأحيان يشتمل مخطط الدار على رسم (مخطط الطابق الأرضي) في حالة الدار بطابق واحد أو يضاف إليه مخططات الطوابق الأخرى في حالة كون الدار لأكثر من طابق. كما قد يضم مخطط الدار (رسم الواجهة) لإعطاء صورة توضيحية أو تصور عن تلك الدار إضافة إلى بعض التفاصيل.

حيث يشتمل مخطط الطابق الأرضي على توزيع المساحات من الغرف بأنواعها والخدمات الأخرى كالمطبخ والصحيات. وبذلك يمثل مخطط الطابق الأرضي منظراً علوياً (Top View) لتوزيع المساحات ضمن المنطقة المحددة للدار. إذن يتضح إن رسم مخطط الدار يحتاج إلى تحديد مساحة الأرض أولاً وعدد الطوابق ثانياً، إضافة إلى التعامل مع رموز أساسية ومفهومة للمتخصصين في هذا المجال معززة بالأبعاد (كرموز الأبواب والنوافذ وطبيعة الجدران إضافة إلى سمكها وبعض تفاصيلها كما في الشكل 8-1).



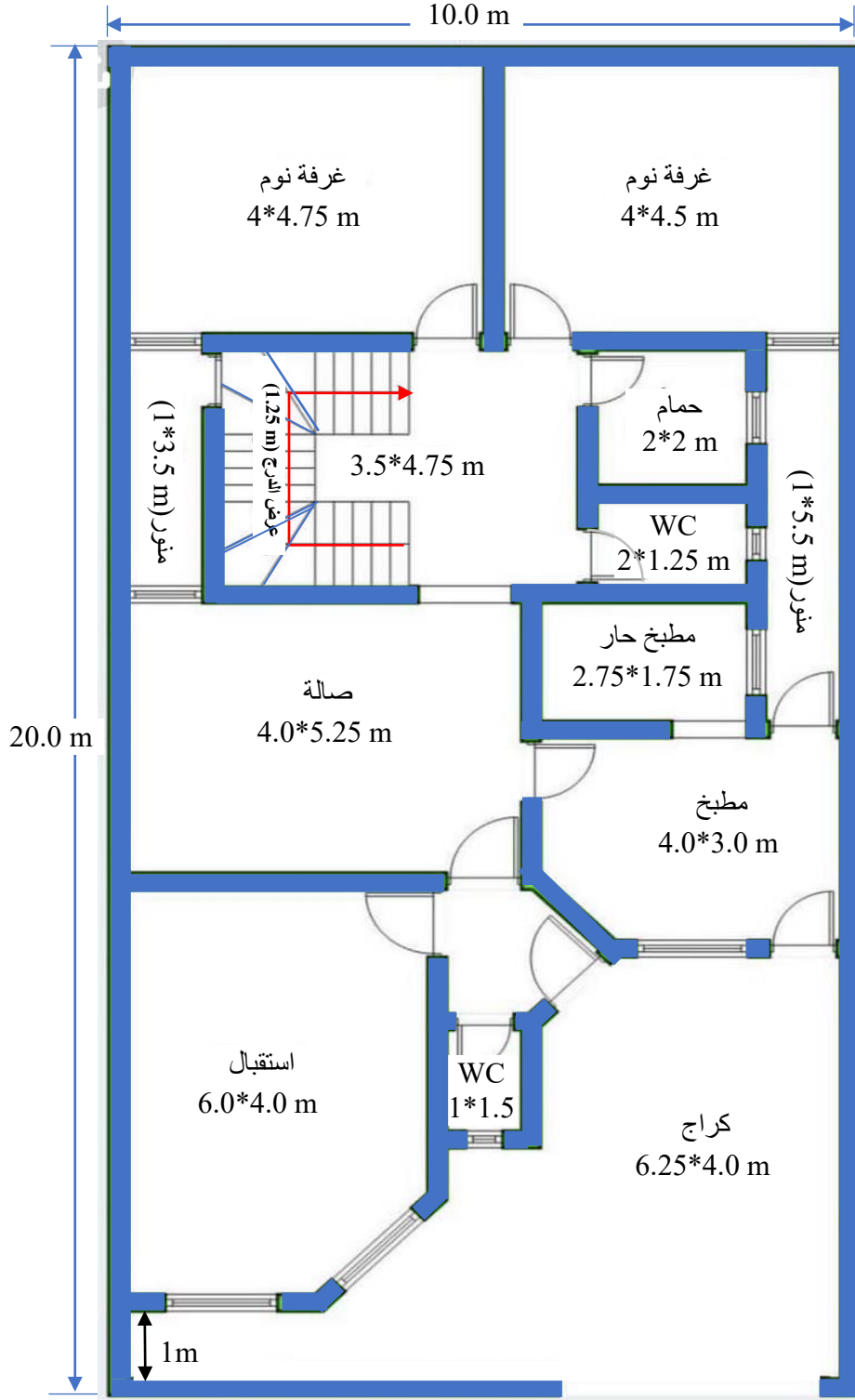
الشكل (8-1) بعض الرموز المستخدمة للأبواب والشبابيك في المخططات الهندسية

ولأجل توضيح ما تقدم ، يبين الشكل (9-1) مخططاً لدار سكنية بأبعاد (15*10 m) أي بمساحة اجمالية (150 m²) مرسومة بمقياس (1/100) مشتملة على كراج وغرف (استقبال - صالة - غرفة نوم) إضافة الى الخدمات الاخرى (المطبخ والصحيات مع سلم دائري). حيث رسمت الجدران الاساسية بسمك البناء (حوالي 0.25 m لأن عرض الطابوقة 0.24 m).



الشكل (9-1) مخطط دار سكنية بأبعاد (15*10 m) بمساحة (150 m²) (للاطلاع)

تمرين 4-1 : في الشكل (10-1) أدناه مخطط لدار سكنية بأبعاد (20*10) m أي بمساحة اجمالية (200 m²) تتضمن مجموعة من التفاصيل. قم بإعادة رسم هذا المخطط بمقياس (1/100) ، مبينا عليه كافة التفاصيل .



الشكل (10-1) مخطط دار سكني بأبعاد (10*20 m) بمساحة (200 m²)

1-3 رسم منشأ على خارطة مساحية

A Structure drawing on a Survey map

عند التعامل مع الأبنية والمنشآت فإن أعمال المساحة قد تتضمن أحد نوعين من الأعمال وهما (رفع المعالم) او (تسقيط المعالم). ويقصد بعملية رفع المعالم تلك الأعمال المساحية التي من خلالها تؤخذ التفاصيل من بناية او مجموعة أبنية موجودة او مشيدة لغرض إعداد خارطة او مرسم لتلك التفاصيل. أما تسقيط المعالم فيقصد بها الأعمال التي يراد منها نقل التفاصيل من المخططات او المرتسمات الى أرض الواقع وهو ما معمول به في المشاريع الهندسية. فعندما يراد إنشاء مشروع جديد يصار الى مجموعة من الأعمال المساحية لغرض إعداد خارطة الموقع (Site Plan) التي تمثل الخارطة المساحية هنا. ثم تسلم الى المصمم من أجل أعداد تصميم لتلك البناية او المنشأ (المشروع الهندسي) مع مجموعة من المخططات.

في الفقرة السابقة تم الإشارة الى مخطط دار سكني، وعادة ما تكون بمساحة محدودة ترسم بمقياس رسم كبير، في حين إن الخارطة المساحية (خارطة الموقع) تكون على مساحة أكبر لذا فإن مقياس رسمها أصغر من مقياس رسم مخطط الدار السكنية وإن كان بعض تفاصيلها ترسم بمقياس كبير لغرض توضيح تلك التفاصيل.

إذ قد تتضمن خارطة الموقع العوارض الطبيعية (كالاشجار مثلاً) او الاصطناعية منها (كالطرق واعمدة الكهرباء وتفاصيل أخرى كالابنية القائمة). إذ ترسم بمقياس رسم مناسب بنظام إحداثيات معين (Coordinate System) كما قد يبين فيها اتجاه الشمال وتفاصيل أخرى تتعلق بحدود الملكية وبالمناسيب وطبوغرافية المنطقة من خلال مجموعة من نقاط الارتفاعات (Spot Heights).

وفي هامش خارطة الموقع توضع نقاط تعريفية يمكن أن تضم (اسم المشروع – الموقع – اسم المهندس – التاريخ – المقياس) إضافة مفتاح الخارطة لتوضيح بعض التفاصيل.

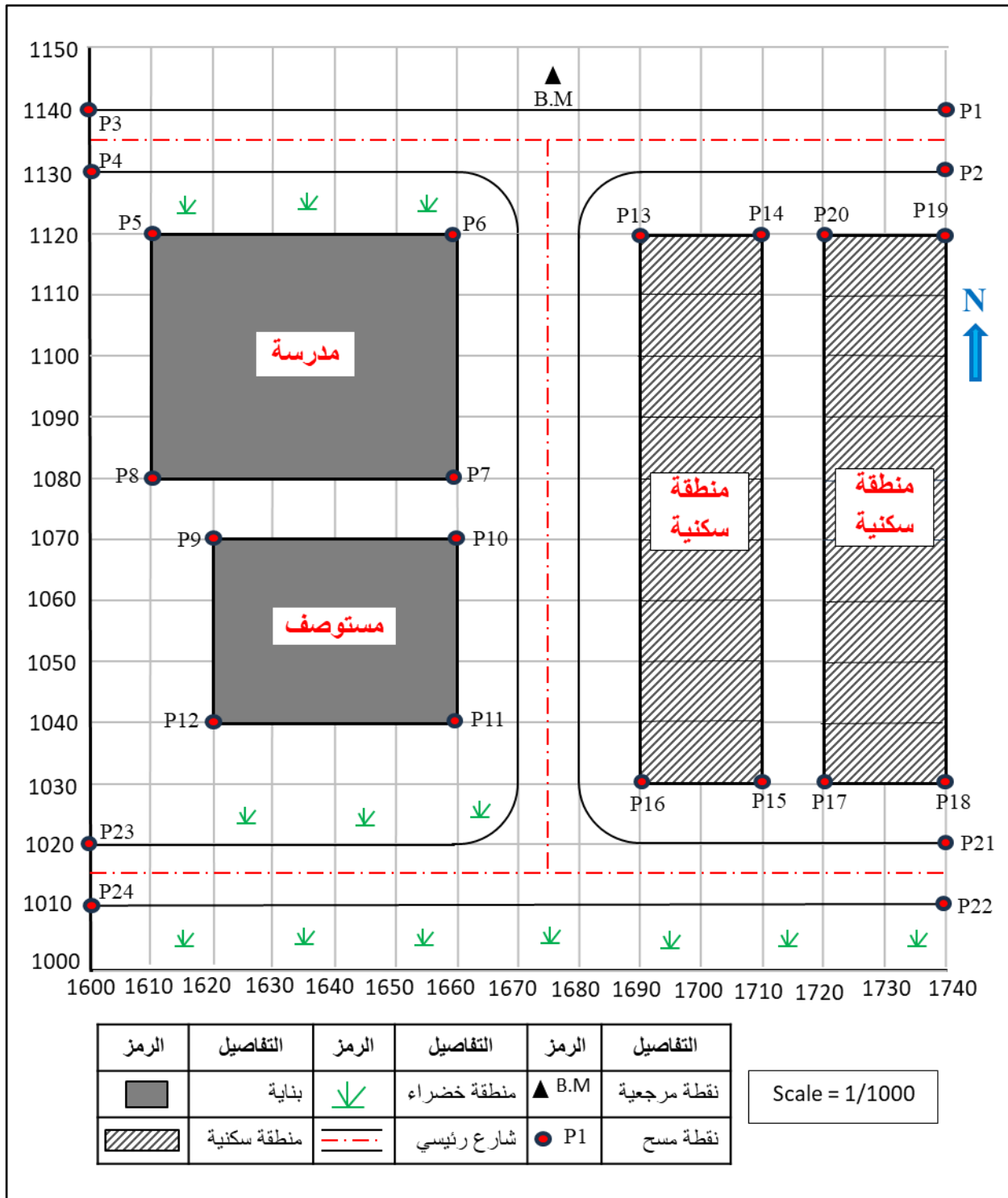
مثال 1-4 : في الخارطة المساحية المبينة في الشكل (1-11) ، اريد استحداث بناية مدرسة بأبعاد (40 * 50) متر وبناية مستوصف بأبعاد (30 * 40) متر ، تم تحديد إحداثيات أركان هاتين البنائتين كما في الجدول (1-9) . ارسم موقعي البنائتين على الخارطة المساحية استنادا الى نقطة الأصل (E=1600, N=1000) وبمقياس رسم (1/1000) .

الجدول (1-9) إحداثيات اركان البنائتين

Pt.	E (m.)	N (m.)	الوصف
P5	1610	1120	بناية المدرسة
P6	1660	1120	بناية المدرسة
P7	1660	1080	بناية المدرسة
P8	1610	1080	بناية المدرسة
P9	1620	1070	بناية المستوصف
P10	1660	1070	بناية المستوصف
P11	1660	1040	بناية المستوصف
P12	1620	1040	بناية المستوصف

الحل : ولتتبع خطوات الحل يصار الى ما يأتي (انظر الشكل 1-11):

1. رسم شبكة الإحداثيات الرئيسية (Grid) من خلال الاعتماد على أقل قيمة وأكبر قيمة لمعرفة حدود الرسم. حيث ستكون نقطة الأساس في الرسم (E=1600, N=1000) الواقعة أسفل اليسار.
2. يتم اختيار التفاصيل المتشابهة من أجل التوصيل فيما بينها, حيث يلاحظ في الجدول إنها مرتبة بصيغة يسهل معها تتبع تلك التفاصيل. على سبيل المثال بناية المدرسة ثم بناية المستوصف وهكذا.
3. يراعى قدر الامكان الالتزام ببعض الرموز العامة لتمثيل تلك التفاصيل. إذ يجب الاستعانة برموز الابنية والمناطق الخضراء اضافة الى رموز بقية التفاصيل.
4. ضرورة وضع مقياس الرسم إضافة الى بعض التفاصيل التعريفية الاخرى مع مفتاح الخارطة الذي يضم بعض الرموز المستخدمة.
5. بعد اختيار مقياس الرسم الملائم (حسب أبعاد ورقة الرسم) يصار الى الأبعاد المكافئة.



الشكل (1- 11) رسم خارطة مساحية بعد إجراء أعمال المسوحات متضمنة (المدرسة والمستوصف)

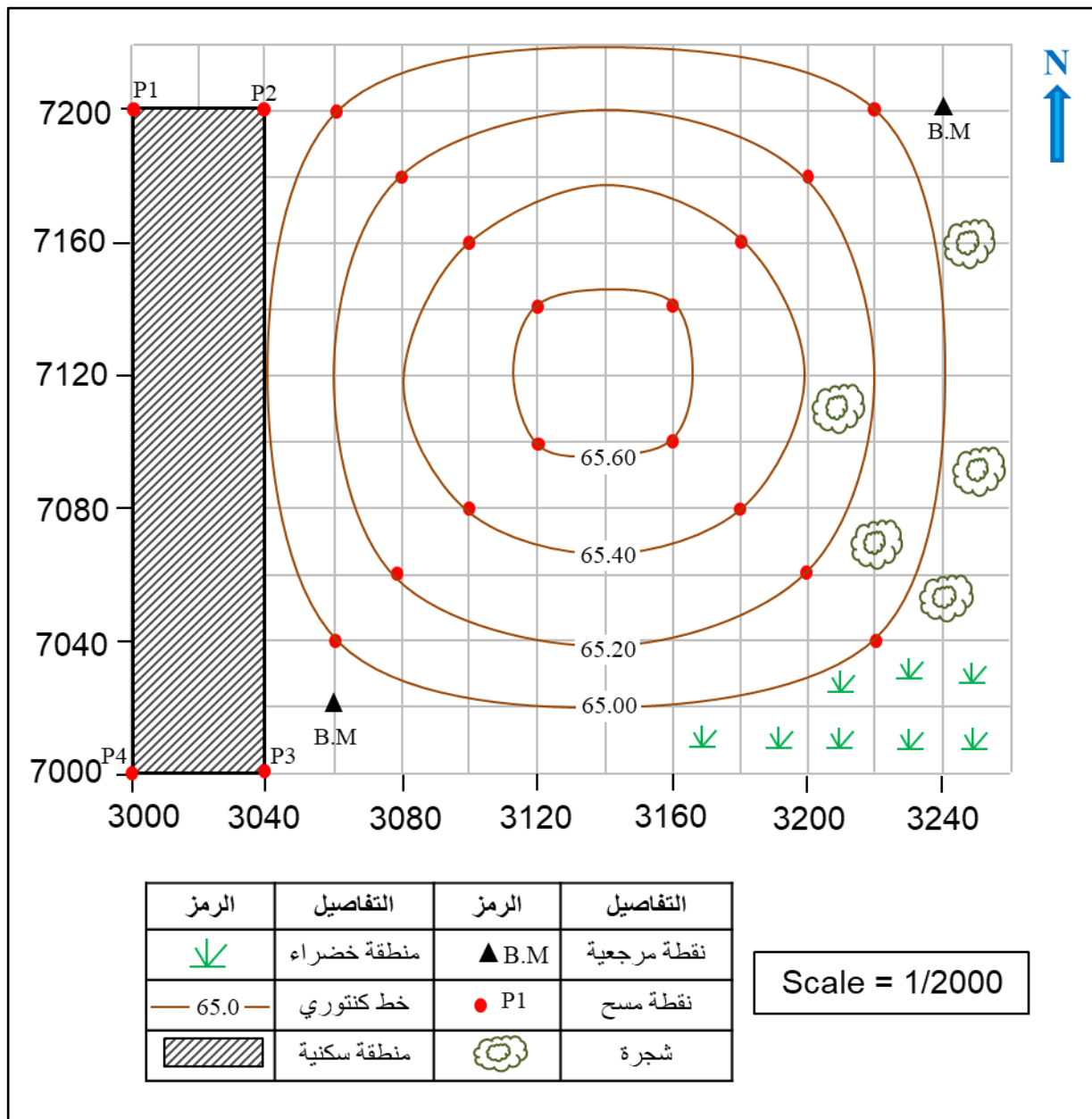
وفي حالة مسح منطقة يراد إنشاء مجموعة مستحدثة من الأبنية عليها ، يتم اتباع نفس الخطوات في اعداد خارطة الموقع (الخارطة المساحية) على أن تعزز بمجموعة من الخرائط والمخططات (Sets of Plans) وقد تضم (على سبيل المثال لا الحصر) ما يأتي:

1. مخطط الأساس او الأساس (Foundation Plan): يمثل على هذا المخطط الأسس من ناحية سمكها وارتفاعاتها إضافة إلى تفاصيل أخرى معززة بالأبعاد.
 2. المخطط الإنشائي (Structural Plan) : يضم تفاصيل متعلقة بالجسور في الابنية وتوزيع حديد التسليح والخرسانة. للسقوف او الأعمدة وعادة ما تكون معززة بتفاصيل وملاحظات إنشائية ترسم بمقياس رسم كبير يسهل على المتخصص التعامل معها. كما تؤخذ بعض المقاطع لبيان تفاصيل أخرى لجزء من المشروع. حيث يبين الشكل جدران البناء كما تم أخذ مقاطع فيها لبيان الابعاد بين المراكز على هذه الجدران.
 3. مخطط الصحيات (Plumbing Plan): تضم الأعمال الصحية اضافة الى توزيع اماكن الأنابيب التي يجب مدها لتوصيل التجهيزات الصحية وربطها بمصدر المياه والتصريف ... الخ.
 4. مخطط الأعمال الميكانيكية (Mechanical Plans): وتشتمل على تفاصيل معدات الحرارة والتهوية والتكييف اضافة الى توضيح منافذ تمرير التيارات الهوائية وأنابيب التبريد وأسلاك التحكم.
 5. مخطط الأعمال الكهربائية (Electricity Plan) يتم تمثيل مواقع الدوائر الكهربائية وصناديق التحكم الرئيسية على هذه المخططات وكذلك المفاتيح الكهربائية واللوحات الفرعية والمحولات. كما تكون معززة ايضاً بـ(مخطط تفاصيل Details Plan) والتي ترسم بمقياس رسم كبير لإظهار بعض التفاصيل الأخرى التي تتضمن التوصيلات الكهربائية ، نوع الاسلاك وقياساتها واحجام الموصلات.
- إضافة الى ما تقدم هناك مجموعة مخططات أخرى الهدف منها إعطاء رسوم توضيحية للمتخصصين لإنجاز العمل وفق أدق المعايير الصحيحة والمواصفات.

تمرين 1-5 : تم رسم الخارطة المساحية في الشكل (1-12) بمقياس رسم 1/2000 استنادا الى نقطة الأصل (E=3000, N=7000) , اريد استحداث مجموعة أبنية بمجمع سكني واحد معرفة بالإحداثيات كما في الجدول (1 – 10) . ارسم مجموعة الابنية على الخارطة المساحية مع رسم كافة التفاصيل .

الجدول (10 - 1) إحداثيات المجمع السكني

النقطة	(E) m	(N) m	الوصف
P1	3000	7200	ركن المجمع السكني
P2	3040	7200	ركن المجمع السكني
P3	3040	7000	ركن المجمع السكني
P4	3000	7000	ركن المجمع السكني

الحل :

الشكل (12 - 1) المجمع السكني المستحدث على الخارطة المساحية بالاستعانة بالإحداثيات.

Drawing a Topographic Map

4-1 رسم خارطة طبوغرافية

من الملاحظ في المخططات السابقة (مخطط قطعة أرض, مخطط دار سكنية ثم مخطط الموقع) إن جميعها مُثلت بأبعاد ثنائية (2 Dimensions - 2D) سواء كانت بمحورين أفقي ورأسي (X, Y) او تشمل وتثريق (E, N). فهل بالإمكان تمثيل مخططات على مستوي الورق بأبعاد ثلاثية (3D)؟

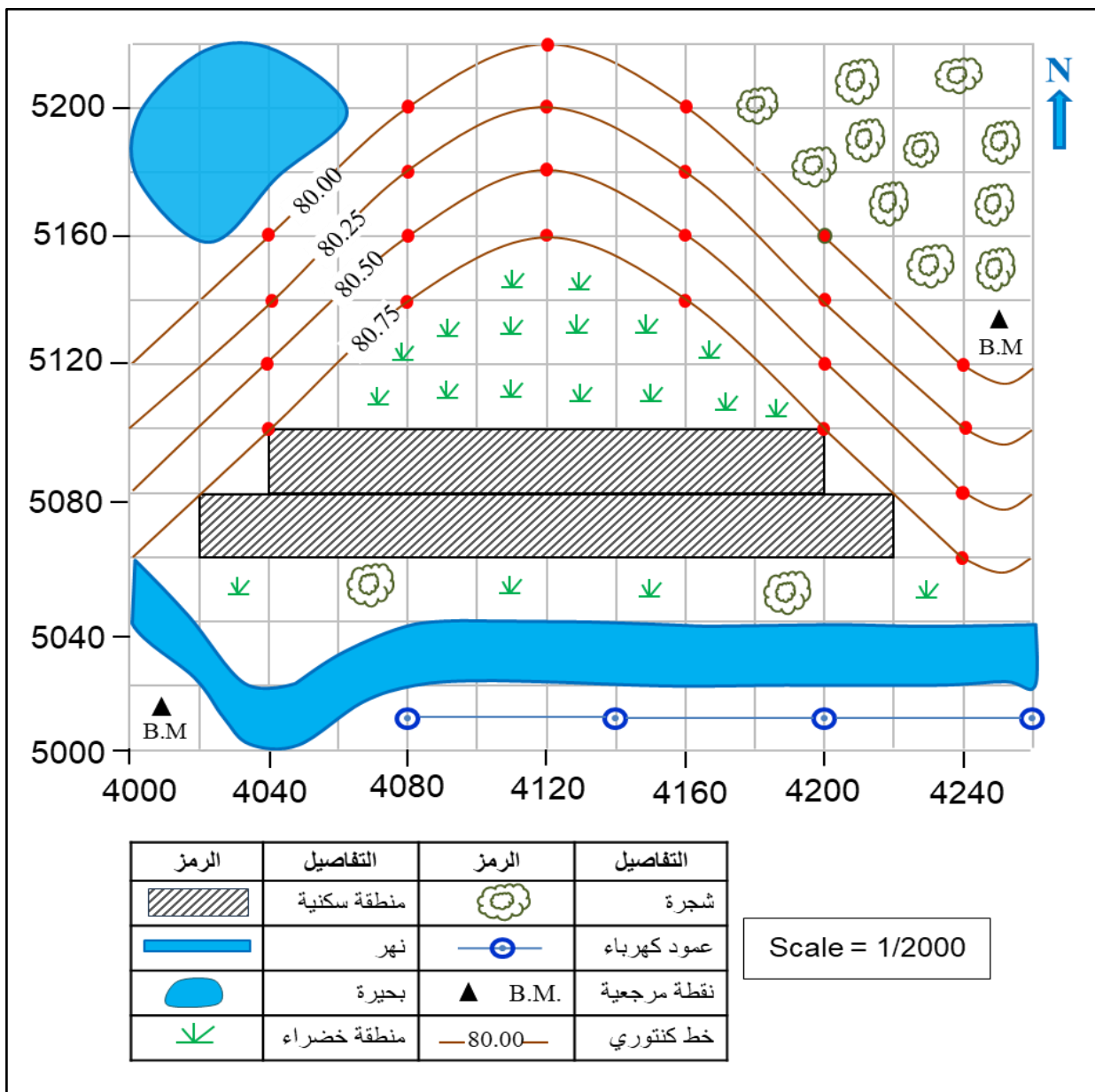
يمكن الإجابة عن هذا التساؤل بـ(نعم), حيث يمكن تمثيل البعد الثالث (الارتفاع او الانخفاض المعبر عنه بالمنسوب) عن مستوى معين من خلال الخرائط الطبوغرافية التي تمثل طبوغرافية الأرض (او ما يصطلح عليه بالتضاريس). ومعنى ذلك إن الخرائط الطبوغرافية ستبين عليها المعالم الطبيعية والصناعية وما يتعلق بها من ارتفاعات او إنخفاضات بأبعادها الثلاثية. وكما هو معلوم أن الخارطة تمثل صورة راسية للمنطقة المرسومة على تلك الخارطة فمعنى ذلك أن كل العوارض في تلك المنطقة ستمثل بالأبعاد الثلاث (X, Y, Z) او (E, N, U). لكن يبقى التساؤل هنا ما هي طريقة التعبير عن البعد الثالث؟ في العموم هناك أكثر من طريقة للتعبير عن البعد الثالث وكما يأتي:

1. طريقة الألوان وهذه الطريقة تستخدم في خرائط الاطالس والجغرافية حيث يمكن تمييز المناطق المرتفعة باللون البني وحسب تدرج هذا اللون من الداكن الاشد ارتفاعا الى ما هو أقل منه. في حين تمثل الأراضي السهلية باللون الأخضر والمناطق المائية باللون الأزرق وهكذا..
2. طريقة التظليل بالخطوط وتعتبر طريقة معبرة الى حد ما في المناطق المنحدرة. من خلال سمك وتقارب الخطوط فيما بينها.
3. طريقة الظلال في بيان الارتفاعات والانخفاضات من ناحية سقوط الضوء عليها وهي طريقة مطولة وغير دقيقة.
4. طريقة نقاط الارتفاعات وتعتبر طريقة جيدة وفاعلة كما يمكن الاعتماد عليها, لكنها تقتصر على مجموعة من النقاط ولا تغطي جميع المنطقة المسوحة ولا تعطي صورة واضحة لتضاريس تلك المنطقة.
5. طريقة الخطوط الكنتورية وهي الطريقة الهندسية المتبعة في الخرائط الطبوغرافية التي تعطي بيانات ومعلومات حول مناسيب المنطقة, وتعتبر من أدق الطرق في تمثيل البعد الثالث سوف يكون الكلام التفصيلي عنها في الفصل الرابع (الخرائط الكنتورية) من هذا الكتاب.

إن المخططات والخرائط قد تكون لمساحة محدودة (مشروع هندسي يضم بناية منفردة او عدة بنايات) ويحتاج الى خارطة طبوغرافية لتمثيل هذه المنطقة, او إن تكون الخارطة الطبوغرافية لمنطقة أكبر على مستوى مقاطعة او محافظة أحيانا. وفي كلا الحالتين ستكون الخارطة الطبوغرافية معززة بالخطوط الكنتورية التي تشير الى البعد الثالث (المناسيب) كما بينا.

مثال 5-1 : اختيرت منطقة ريفية بأبعاد (260*220 m) من أجل إجراء عملية المسح الطبوغرافي عليها. تم تحديد الإحداثيات الثلاثية لمجموعة من النقاط التي تمثل المنطقة من خلال العمل الحقلية نسبة الى نقطة الأصل المفترضة (E=4000, N=5000). ارسم هذه التفاصيل على مخطط بمقياس رسم (1/2000).

الحل: يتم تمثيل هذه النقاط بإحداثياتها على المخطط بعد رسم شبكة الإحداثيات الخاصة بها (Grid) ، حيث يتم تسقيط نقاط المسح واطافة الشبكة التربيعية بإحداثياتها للحصول على الخارطة الطبوغرافية. يوضح الشكل (13-1) الخارطة الطبوغرافية الناتجة التي رسمت بمقياس (1/2000) لكونها منطقة محدودة، كما يلاحظ أن الفترة الكنتورية هنا بين خط وآخر (0.25 m).



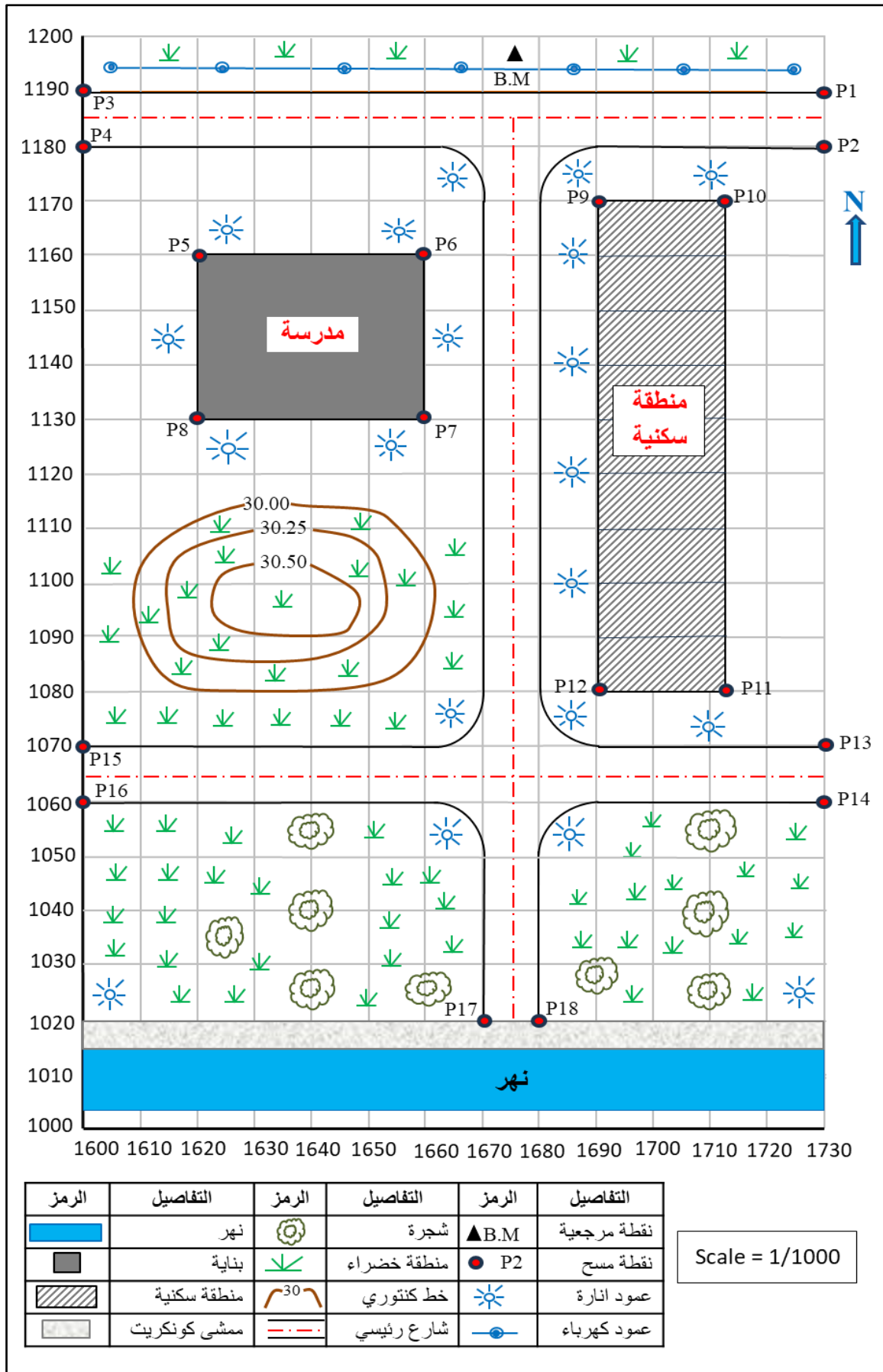
الشكل (13 - 1) الخارطة الطبوغرافية الناتجة عن المسح الطبوغرافي لمنطقة ريفية

تمرين 1-6 : أجريت عملية مسح طبوغرافي لمنطقة معينة في مدينة المبينة في الشكل (1 - 14) باستخدام الاجهزة المساحية المناسبة لذلك المسح، حيث تم تدوين معظم نقاط المسح بإحداثياتها نسبة الى نقطة الأصل المفترضة (E=1600, N=1000). ارسم الخارطة الطبوغرافية لهذه المنطقة بالاعتماد على مواقع النقاط من خلال شبكة الإحداثيات في الجدول (1- 11) ، بمقياس رسم (1/1000) مبينا عليها كافة تفاصيل المسح الطبوغرافي .

الجدول (1- 11) إحداثيات نقاط المسح الطبوغرافي لمنطقة معينة في مدينة

Pt.	E (m.)	N (m.)	الوصف
P1	1730	1190	حافة شارع
P2	1730	1180	حافة شارع
P3	1600	1190	حافة شارع
P4	1600	1180	حافة شارع
P5	1620	1160	بناية المدرسة
P7	1660	1130	بناية المدرسة
P9	1690	1170	منطقة سكنية
P11	1710	1080	منطقة سكنية
P13	1730	1070	حافة شارع
P14	1730	1060	حافة شارع
P15	1600	1070	حافة شارع
P16	1600	1060	حافة شارع
P17	1670	1020	حافة شارع
P18	1680	1020	حافة شارع

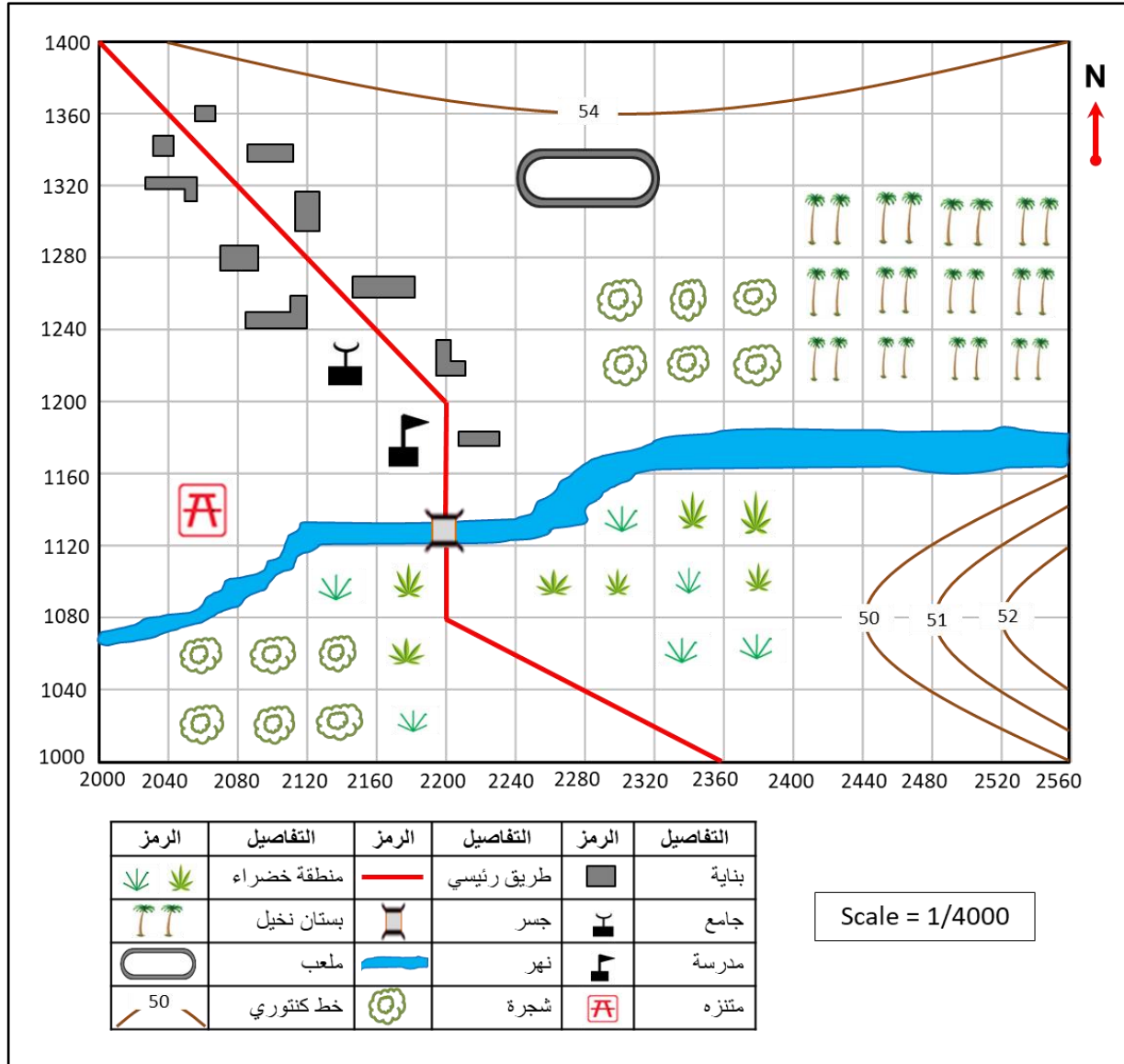
الحل: لتوضيح الرسم تم تحديد إحداثيات بعض النقاط الاساسية كما في الجدول المرفق لتكون تمرينا للطالب يتعرف من خلالها على تمثيل النقاط والربط بينها من خلال مرتسم اولي يعد من قبل المعني بإعداد عملية المسح.



الشكل (1-14) الخارطة الطبوغرافية لمنطقة معينة في مدينة متضمنة كافة تفاصيل المسح الطبوغرافي

تمرين 7-1 : ارسم الخارطة الطبوغرافية المبينة في الشكل (1 - 15) استنادا الى نقطة الأصل (E=2000 , N=1000) ، والمتمثلة بالرموز الطبوغرافية لأحدى المدن بمقياس رسم (1/4000) .

الحل:



الشكل (1-15) الخارطة الطبوغرافية المتمثلة بالرموز الطبوغرافية لأحدى المدن.

الفصل الثاني

رسم خرائط المُلْكِيَّة (الخرائط الكادسترائية)

Drawing Property Maps (Cadastral Maps)

أهداف الفصل :

1. أن يتعرف الطالب على اشكال الرموز الخاصة بالخرائط المُلْكِيَّة (الكادسترائية) ورسمها .
2. أن يتعلم الطالب كيفية رسم المضلعات باستخدام الإحداثيات.
3. أن يتعرف الطالب على انواع الخرائط الكادسترائية وصفاتها وكيفية رسمها .
4. أن يتعرف الطالب على الخرائط العقارية وكل تفاصيلها وما هو السجل العقاري وكيفية رسم الخرائط العقارية .

الفصل الثاني

رسم خرائط الملكية (الخرائط الكادستراية)

Drawing Property Maps (Cadastral Maps)

2 - 1 رسم الرموز المستخدمة في خرائط الملكية

Drawing Cadastral Maps Symbols

عند تصميم الخارطة لا يستطيع رسامو الخرائط (منتجو الخرائط) توضيح وكتابة كل شيء عليها ، إذ يحتاجون إلى رسومات صغيرة وبسيطة ودقيقة تمثل الشكل المطلوب ايضاحه في الخارطة لجعلها مفهومة لمستخدم الخارطة وتدعى هذه الرسومات برموز الخارطة وهي من أهم عناصر الخارطة فهي عبارة عن أشكال صغيرة تمثل معالم مختلفة على الخارطة . إذ تستخدم كل خارطة رموز الخرائط الخاصة بها اعتماداً على المعلومات التي يريد رسام الخرائط عرضها ، وبما انه تم شرح الرموز الخاصة بالخرائط الطبوغرافية في المرحلة الثانية في كتاب الرسم الصناعي بالتفصيل سنتناول في هذه المرحلة وفي هذا الفصل الرموز الخاصة بالخرائط الكادستراية ، ولخرائط الكادستراية رموزها الخاصة بها مثل الحدود وبعض المعالم الخاصة ، إن أغلب الرموز المستخدمة في رسم الخرائط متفق عليها دولياً .

تُجمع هذه الرموز في جدول يسمى بمفتاح الخارطة أو دليل الخارطة ، حيث يمكن أن تعرض مفاتيح الخارطة رموزاً للموارد الطبيعية والمراكز السكانية والمسطحات المائية وأنواع الصناعات وغير ذلك كثير . يستخدم مفتاح الخارطة لتوضيح معنى الرموز المستخدمة في الخارطة ، ويجب أن تظهر الرموز في المفتاح بشكل مطابق تماماً لها كما موجودة هي في الخارطة بحيث يمكن فهم الخارطة بشكل صحيح ودقيق وبكل سهولة ويسر .

إن مفتاح الخارطة هو شريط المعلومات الذي يكون على أحد جهات هامش (اطراف) الخارطة ، أما في الهامش السفلي او الجانبي ، ويُعد مفتاح الخارطة ابسط الطرق التي من خلالها نعرف المعلومات الهامة عن الخارطة ، ولا يمكن ان تكون الخارطة كاملة دون وجود مفتاح خارطة فيها ، فلن يستطيع مستخدم الخارطة الذي ينظر الى الخارطة أن يفهم المعلومات التي فيها لأنه لا يوجد شيء يدل عليه ، لذا يحتاج الى مفتاح الخارطة ليكون دليله الى معاني الرموز الموجودة على الخارطة على سبيل المثال : (النقطة السوداء الصغيرة تعني بلدة أو قرية والدائرة (⊙) تعني مدينة لا يقل عدد سكانها عن 75000 نسمة أو أكثر) .

هناك عدة أنواع للرموز المستخدمة في الخارطة الملكية (الكادستراية) ومنها، كما في الجدول (1-2) :

جدول (2 - 1) أنواع بعض الرموز المستخدمة في الخرائط المُلْكِيَّة (الكادسترائية)

الاسم	الرمز
عاصمة	
مدن متفاوتة الكثافة السكانية	
مدرسة ، مستشفى	
محطة اطفاء ، محطة كهرباء	
الحدود الدولية	
حدود المحافظات	
حدود الاقضية	
حدود محمية	
طرق سريعة	
سكة حديدية	
جسر	
نهر	
منطقة زراعية	
بحيرة	
صحراء	

تمرين 2 - 1 : ارسم بمقياس رسم 1 : 1 الرموز المستخدمة في الخرائط الكادسترائية (المُلْكِيَّة) من جدول (2 - 1) .

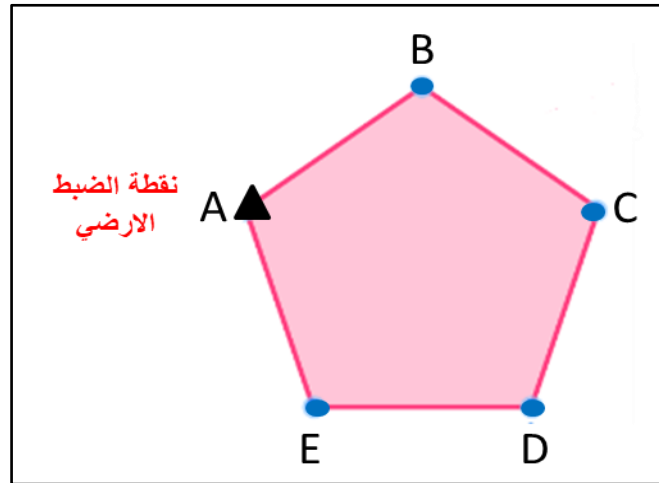
2 - 2 رسم المضلعات باستخدام الإحداثيات

Drawing Traverse (Polygons) by a Coordinates

يُعرف المضلع بأنه عبارة عن مجموعة من الخطوط المتصلة مع بعضها تشكل خطاً منكسراً يأخذ أشكالاً مختلفة ومسميات متعددة حسب المساحة المطلوب رفعها حيث تقاس أطوال خطوطه والزوايا بين الخطوط بدقة. والهدف من إنشاء المضلعات هو تعيين إحداثيات ومواقع نقاط جديدة انطلاقاً من النقاط المرجعية (نقاط الضبط الأرضي (Ground Control Points)) مما يسهم في تكثيف شبكات النقاط المعلومة بالإحداثيات ويسهل ربط كافة الأعمال المساحية الأخرى .

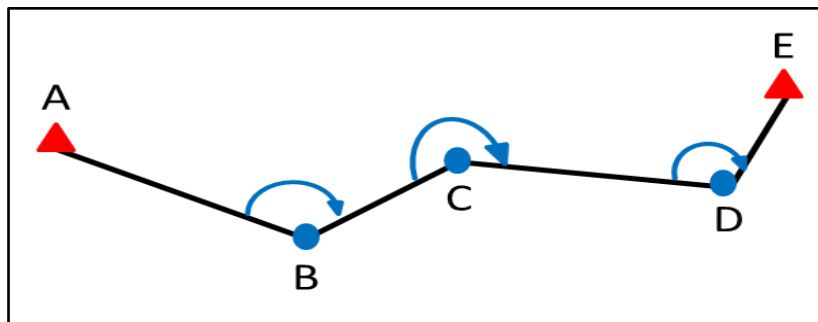
للمضلعات عدة أنواع من أبرزها :

1. المضلع المغلق **Closed Travers** : هو المضلع الذي يبدأ بنقطة معلومة بالإحداثيات وينتهي بنفس النقطة، كما في الشكل (1 - 2) .



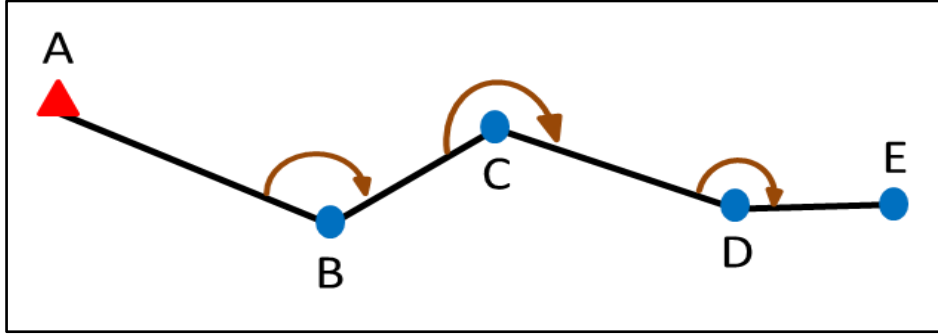
الشكل (1 - 2) المضلع المغلق

2. المضلع الموصل (المربوط) **Connection Travers** : هو المضلع الذي يبدأ بنقطة معلومة بالإحداثيات وينتهي بنقطة أخرى معلومة بالإحداثيات، كما في الشكل (2 - 2) .



الشكل (2 - 2) المضلع الموصل

3. المضلع المفتوح **Open Travers** : هو المضلع الذي يبدأ بنقطة معلومة الإحداثيات ويمتد ولا ينتهي بنقطة معلومة الإحداثيات، كما موضح في الشكل (2 - 3) .



الشكل (2 - 3) المضلع المفتوح

يتم إيجاد وحساب نقاط المضلعات في موقع العمل بالخطوات الآتية :-

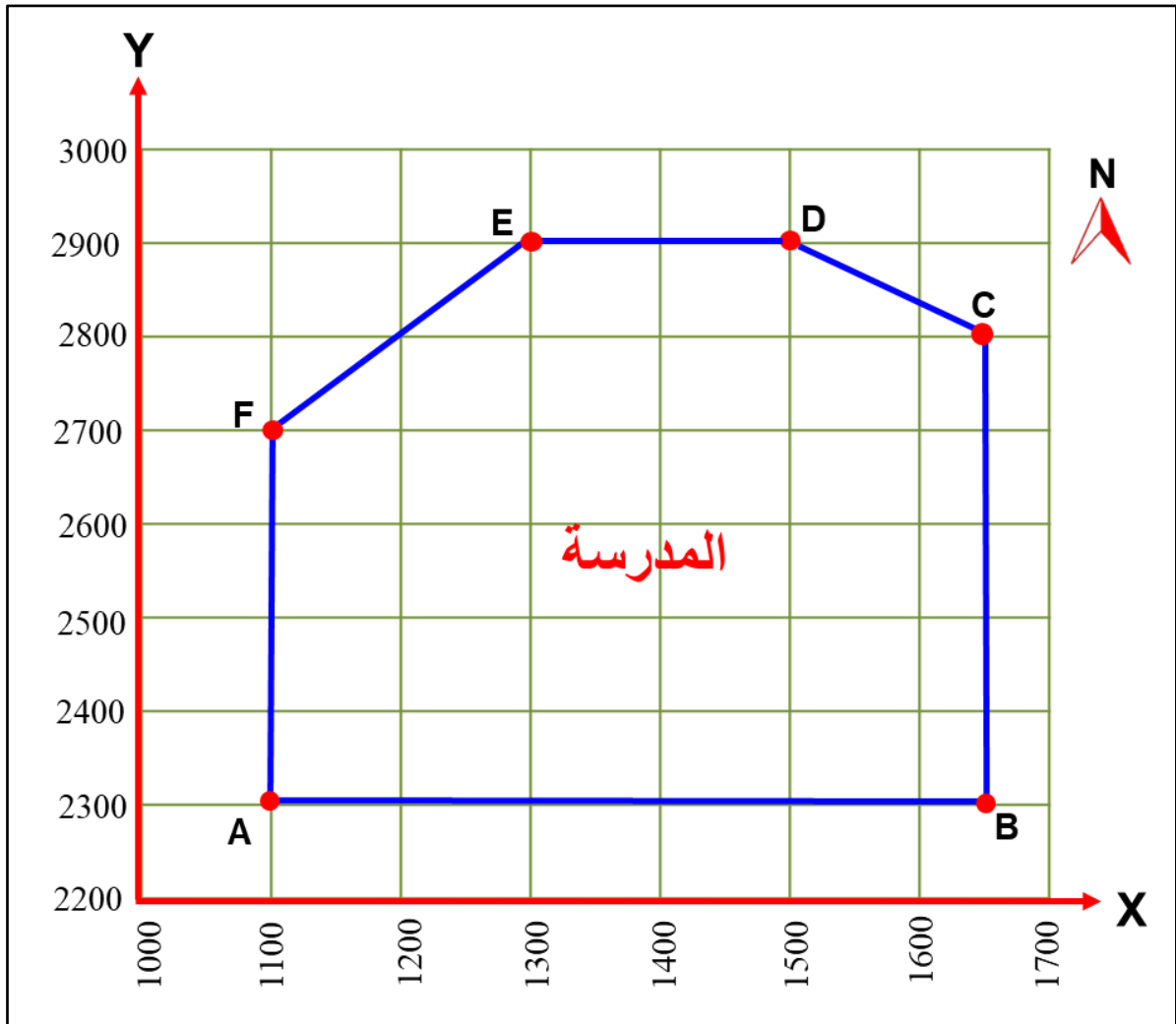
1. حساب المسافات الأفقية لجميع أضلاع المضلع .
 2. حساب جميع زوايا المضلع الأفقية .
 3. حساب الاتجاه (يفضل الاتجاه الدائري Azimuth لسهولة الحسابات) لكل ضلع من اضلاع المضلع .
 4. حساب الإحداثيات (X,Y) الأفقية لجميع محطات (نقاط) المضلع .
- بعد قياس وتحديد إحداثيات نقاط المضلع يتم رسم المضلع بالاعتماد على إحداثيات نقاطه (X , Y) ، بالخطوات الآتية :

- 1- رسم محاور شبكة الإحداثيات على لوحة الرسم : تكون المحاور الرئيسة للشبكة داخل إطار اللوحة بحوالي 2cm ، وذلك لإعطاء مساحة كافية لكتابة إحداثيات الشبكة من كلا الاتجاهين بحيث تكون واضحة ولا تتداخل مع الشبكة أو الإطار .
- 2- تقسيم كل من المحور السيني والمحور الصادي إلى أقسام متساوية : لتكوين شبكة منتظمة من المربعات تسمى شبكة الإحداثيات. ثم ترقم نقاط التقسيم بخط واضح وبطريقة منسقة على كلا المحورين (X , Y) ابتداء من نقطة تقاطع المحورين وتسمى نقطة الأصل ، ويتوقف طول القسم على مقياس رسم الخارطة ، أي ترسم شبكة الإحداثيات حسب مقياس رسم الخارطة .
- 3- توقيع النقاط المعلومة الإحداثيات (X , Y) : وذلك بقياس بُعد النقطة عن محور (X) وبعدها عن محور (Y) وتقاطع البعدين يمثل موقع النقطة المطلوبة طبقاً لإحداثياتها المعلومة .
- 4- رسم المضلع : توصيل النقاط مع بعضها البعض بخطوط مستقيمة للحصول على المضلع .

مثال 2 - 1 : قامت إحدى الفرق المساحية بأعمال الرفع لمدرسة باستخدام جهاز المحطة المتكاملة (Total Station) ، إذا تم قياس إحداثيات نقاطها (X , Y) كما في الجدول أدناه . ارسم مضع المدرسة باستخدام الإحداثيات بمقياس رسم 1 : 1000 .

Point	X _(m)	Y _(m)
A	1100	2300
B	1650	2300
C	1650	2800
D	1500	2900
E	1300	2900
F	1100	2700

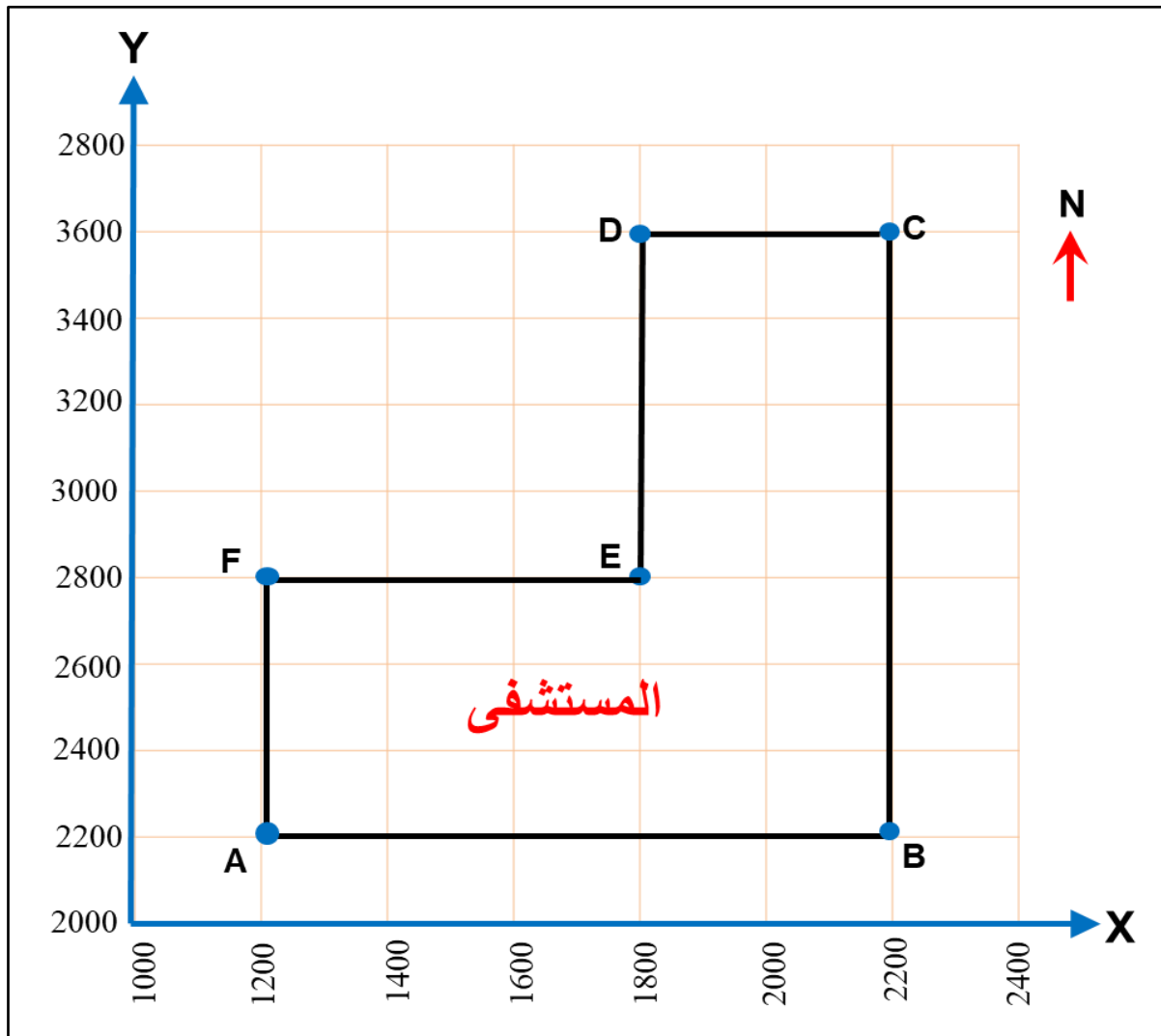
الحل :



تمرين 2 - 2 : في احدى عمليات الرفع المساحية قيست إحداثيات مضلع لمستشفى من قبل فريق مساحي ، وكانت إحداثيات نقاطه كما مبينة بالجدول ادناه ، ارسم المضلع بمقياس رسم 1 : 1000 .

Point	X _(m)	Y _(m)
A	1200	2200
B	2200	2200
C	2200	3600
D	1800	3600
E	1800	2800
F	1200	2800

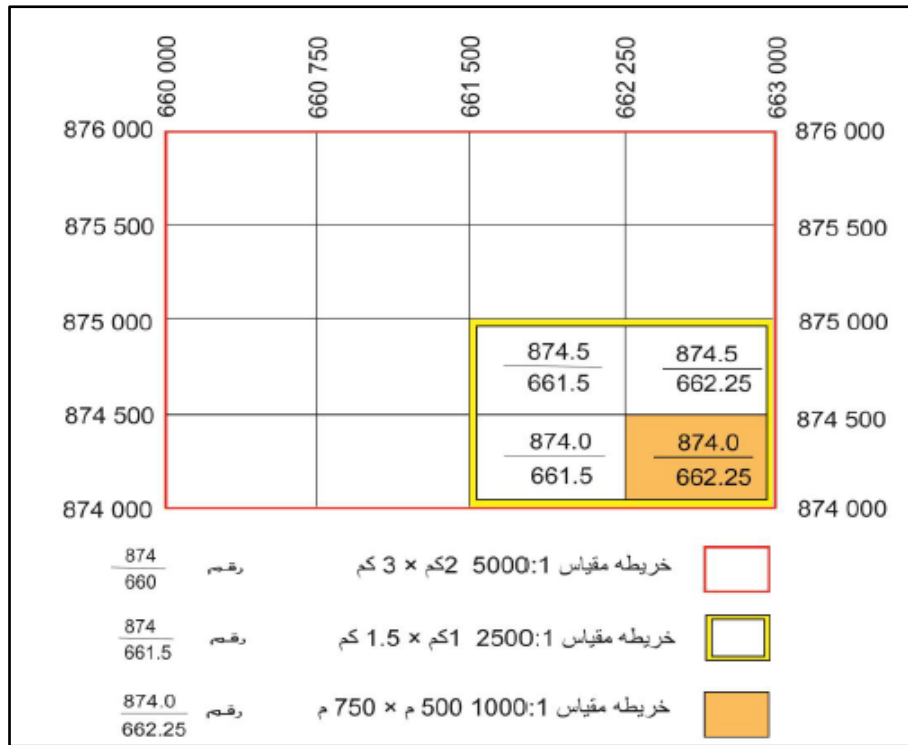
الحل :



2 - 3 رسم نموذج مبسط لخارطة كادسترائية

Drawing a Simple Cadastral Map

يعد رسم الخرائط الكادسترائية أحد أشهر أشكال رسم الخرائط ، لأن الخرائط هي التي تُظهر جميع تفاصيل الأرض فيما يتعلق بعضها ببعض . وهي أيضاً واحدة من أقدم أشكال رسم الخرائط ، تتميز هذه الخرائط برسمها بالمقاييس الكبيرة ، إذ ترسم بمقياس رسم كبير يزيد عن 1 : 10000 ، وبذلك فإن مقياس رسمها يسمح ببيان التفاصيل داخل حيز مكاني محدود المساحة ، كما في الشكل (2 - 4) . وتستخدم هذه الخرائط في تحديد الملكيات وتوضيح التفاصيل في المناطق الريفية والمدن الحضرية . وهي خرائط خاصة بتحديد حدود الملكيات وقطع الاراضي وترقيمها والمناطق المبنية وغير المبنية سواء أكانت تلك الاراضي تعود ملكياتها للأفراد أم مشتركة أم للدولة وموضح فيها حدود المقاطعات والأنهار والطرق والجسور والمناطق الزراعية والصناعية بأنواعها وغيرها.



الشكل (2-4) مقياس وتقسيم الخرائط الكادسترائية

نظراً لأهمية هذه الخرائط ومتطلبات الدقة في رسمها ، ولأنها تُستخدم في العديد من الأغراض التي من أهمها تحديد حدود الملكيات العامة والخاصة وتعيين الأطوال والمساحات وتستخدم في جميع الأعمال العقارية كأساس للبيع والشراء وإنهاء النزاعات . حيث تتطلب عمليات رسم الخرائط الكادسترائية الدقة في تنفيذ جميع مراحل توقيع ورسم المعالم التفصيلية فيها. وتستعمل الخرائط الكادسترائية غالباً في دوائر التسجيل العقاري .

تسعى غالبية دول العالم إلى تحديث خرائطها ضمن إطار مرجعي موحد لكل العالم ، وذلك لأهمية الخرائط الكادستراتية بشكل عام والخرائط الكادستراتية للمناطق الحضرية (المدنية) بشكل خاص . حيث تهدف المساحة الكادستراتية إلى تثبيت كافة حقوق التصرف أو التملك أو المنفعة في الأراضي أو المياه (أو أية حقوق متعلقة بها وقابلة للتسجيل) .

تصنيف الخرائط الكادستراتية الى :

1- **خرائط كادستراتية ريفية** : توضح عليها الأراضي الزراعية وما تشمل عليه من مباني وأنواع المحاصيل والنباتات والاحواض الزراعية والقنوات والبرك والآبار وغيرها.

2- **خرائط كادستراتية مدنية (حضرية)** : توضح كل ما موجود على أرض المدن من المباني والطرق والخدمات العامة وغيرها.

البيانات المكانية للخرائط الكادستراتية تشمل :

1- **بيانات الحدود Boundary data** : وهي ابتداء من حدود الوحدة العقارية الى الوحدة الادارية على تعدد تسمياتها الى الحدود الدولية . والحدود تكون برية أو مائية أو جبلية أو حد تقسيم المياه أو حد المراعي الطبيعية الى غير ذلك مما يختص في بيانات الحدود.

2- **بيانات وصف الأرض Land description data** : وهي معلومات تدل على اوصاف الارض على سبيل المثال (أرض زراعية ، سبخة ، صخرية ، حصوية ، رملية ، حجرية ، جبسية ، عالية ، تلال ، جبلية ، جزرة ، بستان الخ) .

3- **بيانات الطرق Road data** : الطريق السريع ، العام ، الفرعي ، والسياحي ، والمحلي ، وطريق الحيوانات وطريق الحج ، وغيرها من اسماء الطرق .

4- **بيانات دور العبادة Worship houses data**: الرجوع الى وثائق الأوقاف من حيث الموقع والاسم والمساحة ونوع وقفه. وكذا عن المراقد والأضرحة والمقامات .

5- **بيانات القرى Village data** : وهي معلومات القرية وما تحتويها من منازل أو مناطق زراعية و مراكز خدمية وغيرها.

6- **مصادر المياه Water resources**: وهي جميع انواع مصادر المياه من الالهوار والبحيرات والخزانات والسدود ومياه الامطار ومياه المد والجزر والآبار وغيرها . ويمكن الرجوع الى وثائق الموارد المائية لتحديد الانهار الوطنية وروافدها وما تفرع عنها . وتوجد بيانات اخرى مثل (بيانات السكك الحديدية وبيانات الخدمات العامة) وغيرها.

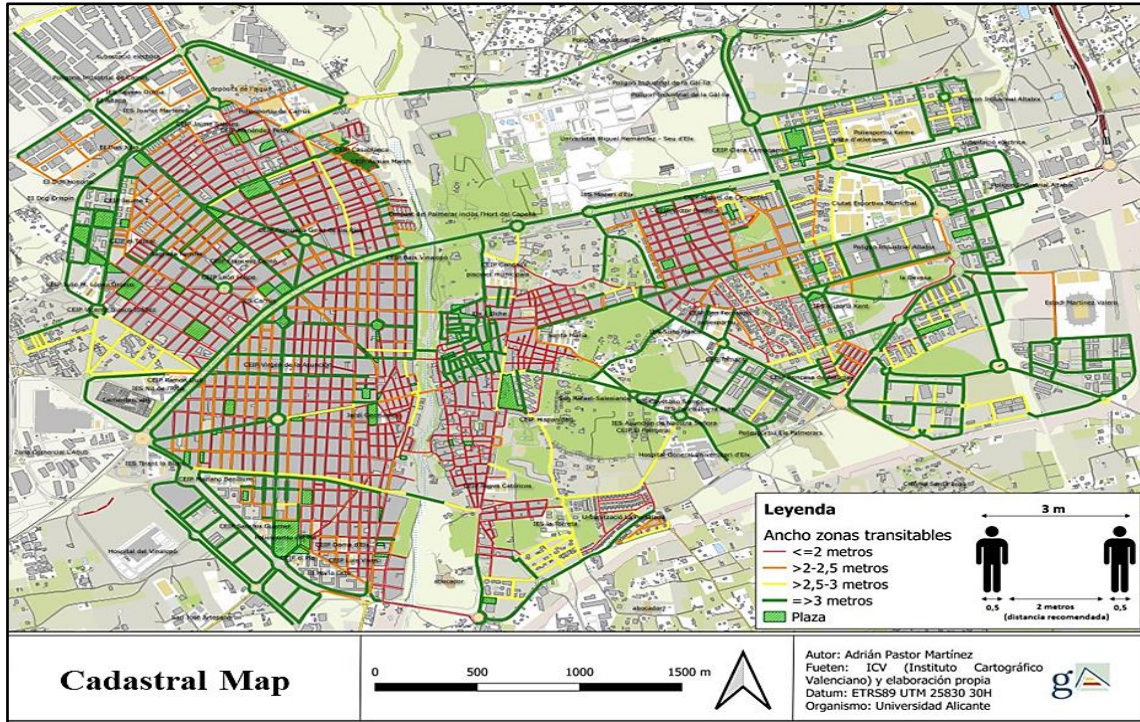
رسم الخرائط الكادسترائية :

لرسم خارطة يقوم المساح أولاً بعمل استكشاف للمنطقة ومن ثم يقوم برسم المخطط العام لهذا الموقع وكالاتي :

1. تحديد بداية ونهاية المنطقة التي يراد رفعها .
2. تحديد اتجاه الشمال للمنطقة باستخدام البوصلة على الطبيعة .
3. تحديد اهم المعالم الموجودة لكي يتسنى له الرجوع اليها اذا لزم الامر .
4. يقوم بتقسيم المنطقة الى أجزاء مختلفة ويحدد المنطقة التي يبدأ الرسم منها ، ثم يقوم بعمل رابط بين الأجزاء المختلفة للموقع ليتمكن من رسم مخطط كامل للموقع .
5. اثناء عملية رسم المخطط يراعي الالتزام بالنسبة والتناسب في الاطوال المرسومة على الخارطة والأطوال الموجودة على الطبيعة وكذلك بالنسبة للأشكال المرسومة ، أي اذا كان الشارع المرسوم طوله على الطبيعة 50 م وعرضه 10 م فيجب ان يكون الطول في الرسم مناسباً للعرض .
6. وصف عناصر المخطط المختلفة وما يحتويه بشكل مفصل كأن يوضح مثلاً الأرض الفضاء من المباني القائمة وكذلك أسماء الشوارع واتجاهاتها واعمدة الانارة وكذلك الفواصل بين حدود الملكيات الذي يعتبر في غاية الأهمية لعملية الرفع بعد ذلك .

هنالك صفات عامة كثيرة للخرائط الكادسترائية نذكر اهمها : كما في الشكل (2 – 5) .

1. الخرائط الكادسترائية جميعها ناتجة من المساحة المستوية .
2. تُعد الخرائط الكادسترائية خرائط تفصيلية لاحتوائها على حدود الملكيات الخاصة والعامة مع تدوين المعالم الجغرافية الاخرى مثل (نهر وطريق ووادي وتلال ومقابر ودور سكنية وغيرها)
3. لكل خارطة اسمها (عنوانها) ورقمها التسلسلي ضمن الوحدة الادارية .
4. لكل خارطة مقياسها الأصلي أو المكبر ، مع نموذج لمقياس رسم .
5. لكل خارطة قيد وتاريخ .
6. تحتوي على فهرس يوضح موقعها من الخارطة الفلكية.
7. لكل خارطة جدول صغير موضحاً فيه اهم الرموز الفنية والقانونية ، وتكون جميع رموز الخارطة ذات نسق واحد خالية من الطول والعرض والكمية .
8. لكل خارطة كادسترائية فيها العبارة : رُسمت واحياناً (عملت) في مديرية المساحة العامة وفق الخارطة الموقعة من قبل رئيس الفريق والمساح.



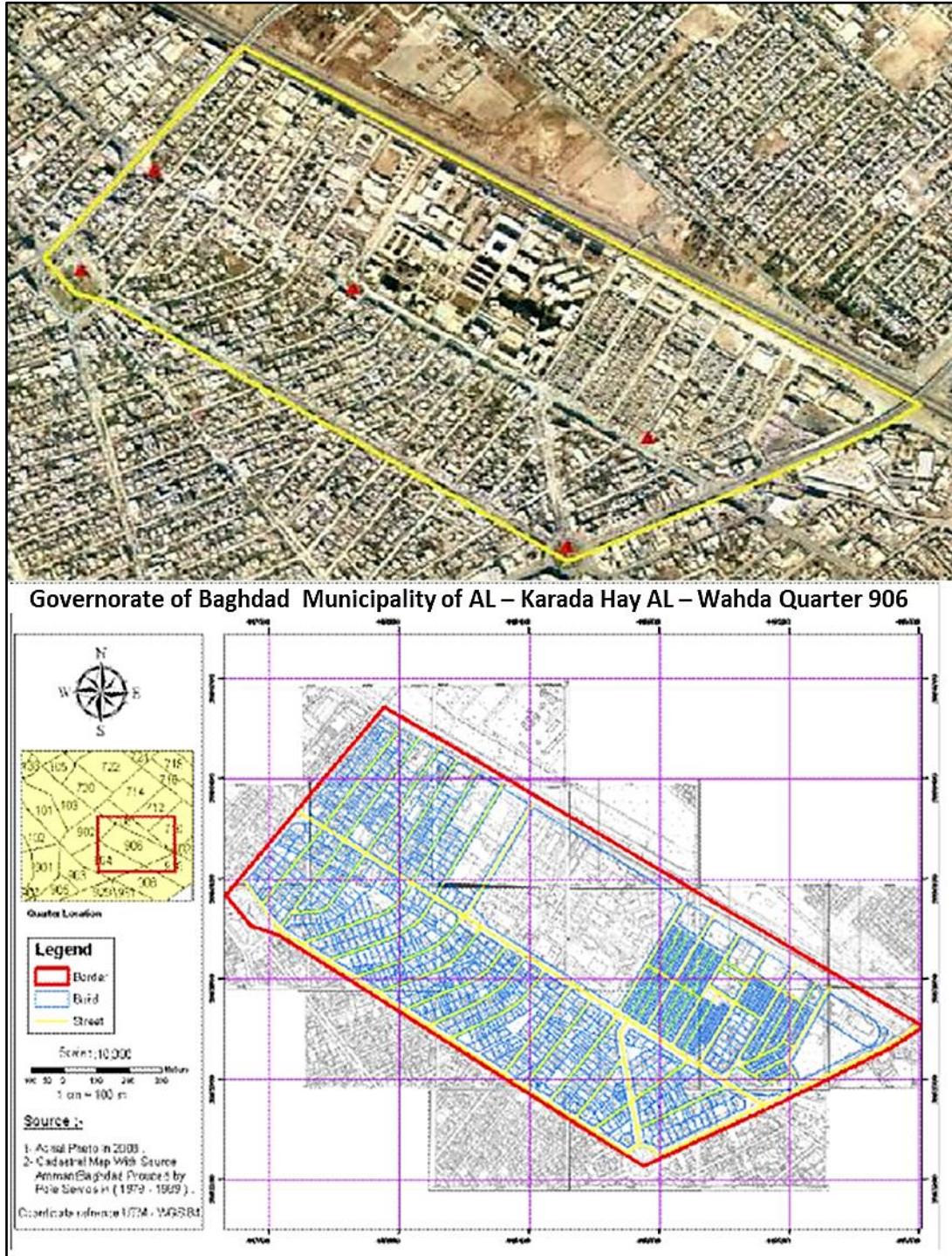
الشكل (2 - 5) نموذج لخارطة كادسترائية

يتم إجراء المسح ورسم الخرائط بواسطة فريق مساحي ، والذي يجب أن يلتزم بمبادئ القياس القانونية والمكانية في التحديد المادي لحدود الممتلكات العقارية والممتلكات المجاورة والمقاطع والمرافق العامة والخاصة ، إذا يتم المسح الميداني باستخدام أجهزة المسح لقياس الاطوال والزوايا والإحداثيات، مثل أجهزة المسح بالليزر وجهاز الثيودولايت وجهاز المحطة المتكاملة (TS) ، ويتم تحديد حدود الممتلكات ، ووضع علامات على حدود الاراضي وترقيمها والطرق وغيرها ، كما في الشكل (2 - 6). ليتم تسجيل كافة البيانات وبالتالي رسم الخرائط الكادسترائية الخاصة بهذه المنطقة ويتم تقديم بيانات المسح العقاري إلى مكاتب إدارة الأراضي أو السجل العقاري لسجلاتهم .



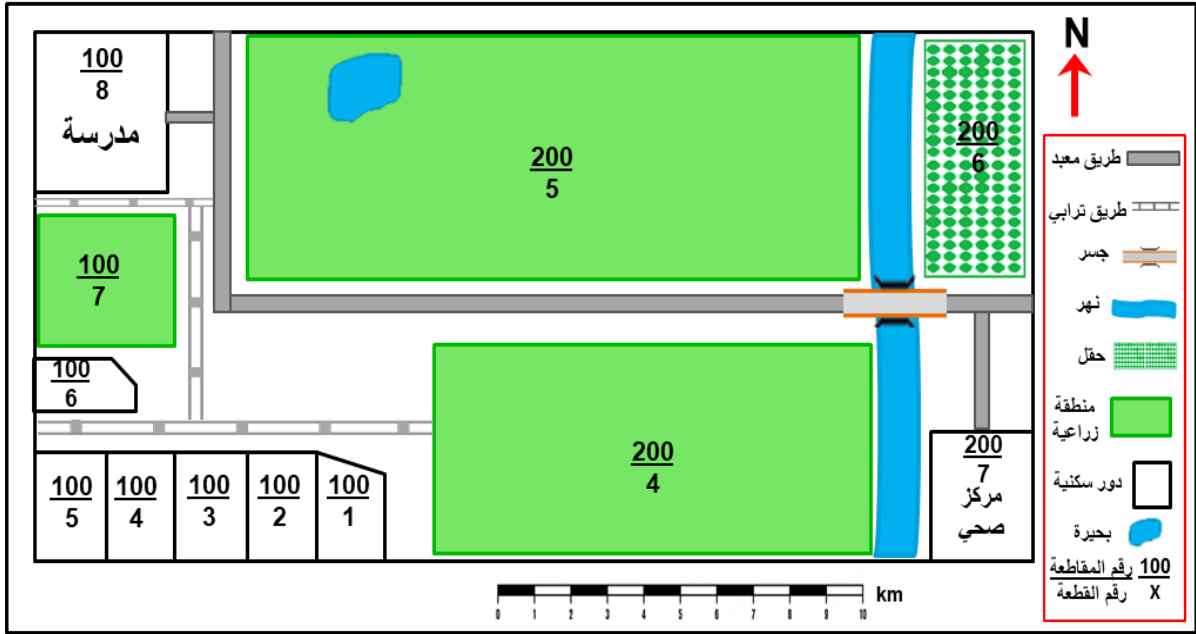
الشكل (2 - 6) تحديد حدود الممتلكات في الخرائط الكادسترائية

تعد تقنية نظم المعلومات الجغرافية (GIS) أداة أساسية لإنتاج الخرائط الكادستراية حالياً ، كما في الشكل (2 – 7) ، وتستخدم في التخطيط الحضري ، وإدارة الغطاء النباتي ، ورسم الخرائط للتنقيب عن النفط والحفر ، وتسجيل البنى التحتية المرتبطة بالتوسع الحضري المتزايد ، إذ تحتوي على كميات هائلة من بيانات للسجل العقاري .

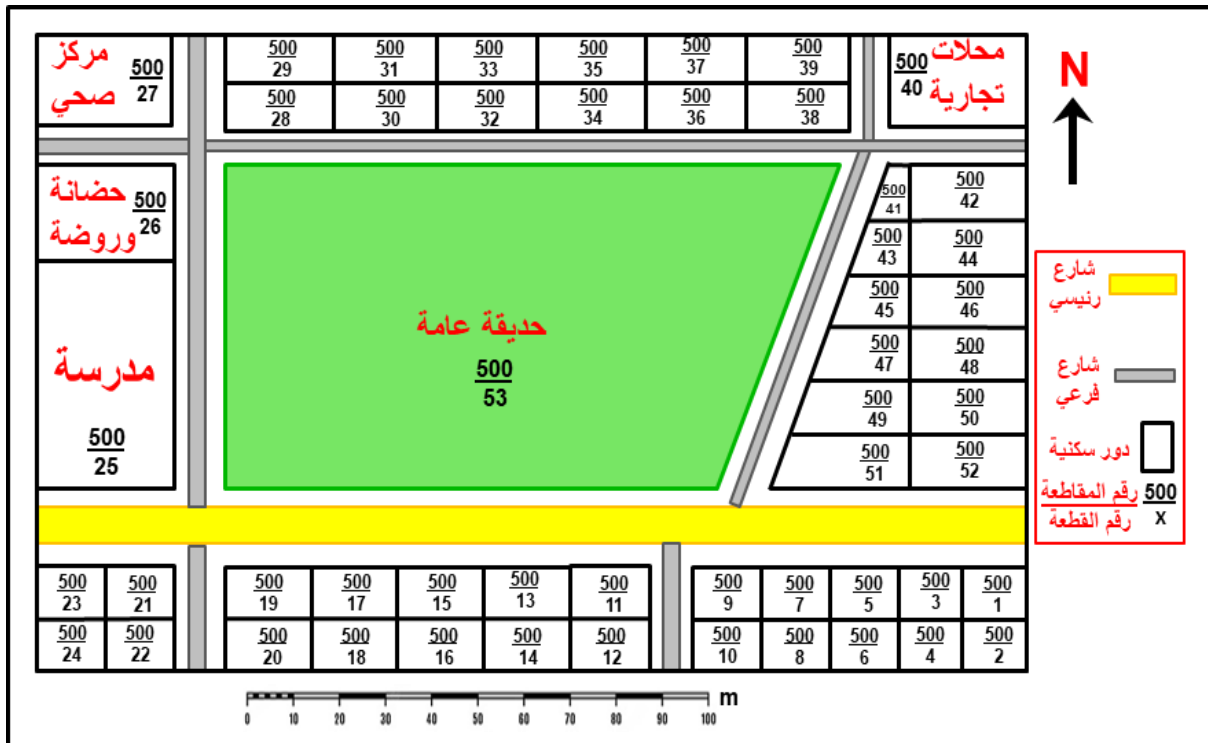


الشكل (2 – 7) خارطة كادستراية لاحد مناطق بغداد باستخدام تقنية (GIS) (للاطلاع)

مثال (2 - 2) : ارسم بمقياس رسم 1 : 1 خارطة كادسترائية ريفية ، كما مبينة في ادناه.



تمرين 2 - 3 : ارسم الخارطة الكادسترائية المدنية (الحضرية) لجزء من منطقة سكنية ، المبينة في ادناه ، بمقياس رسم 1 : 1 .



2 - 4 رسم نموذج مبسط لخرائط الأراضي في السجل العقاري

Drawing a Simple Land Registry Maps

هي الخرائط الخاصة بالسجلات العقارية والملكيات الخاصة والعامه للأراضي ، حيث تمثل الوصف الهندسي لكل قطعة أرض موجودة بالسجلات العقارية من حيث المساحة وأسم المالك والحدود المجاورة وحقوق الطرق والسقي وحق المرور ، وتسجل كل ما له علاقة بتلك الأرض من مواقع مضخات الماء والكهرباء وغيرها .

خرائط الأراضي أو (الخرائط العقارية) هي جزء من الخرائط الكادسترائية ، وتعد وثيقة رسمية وقانونية تتعلق بحدود وأبعاد وموقع وقيمة وحياسة وملكية قطع الأراضي للأفراد والمؤسسات الحكومية ، كما في الشكل (2 - 8) .



الشكل (2 - 8) خارطة عقارية لجزء من منطقة سكنية (للاطلاع)

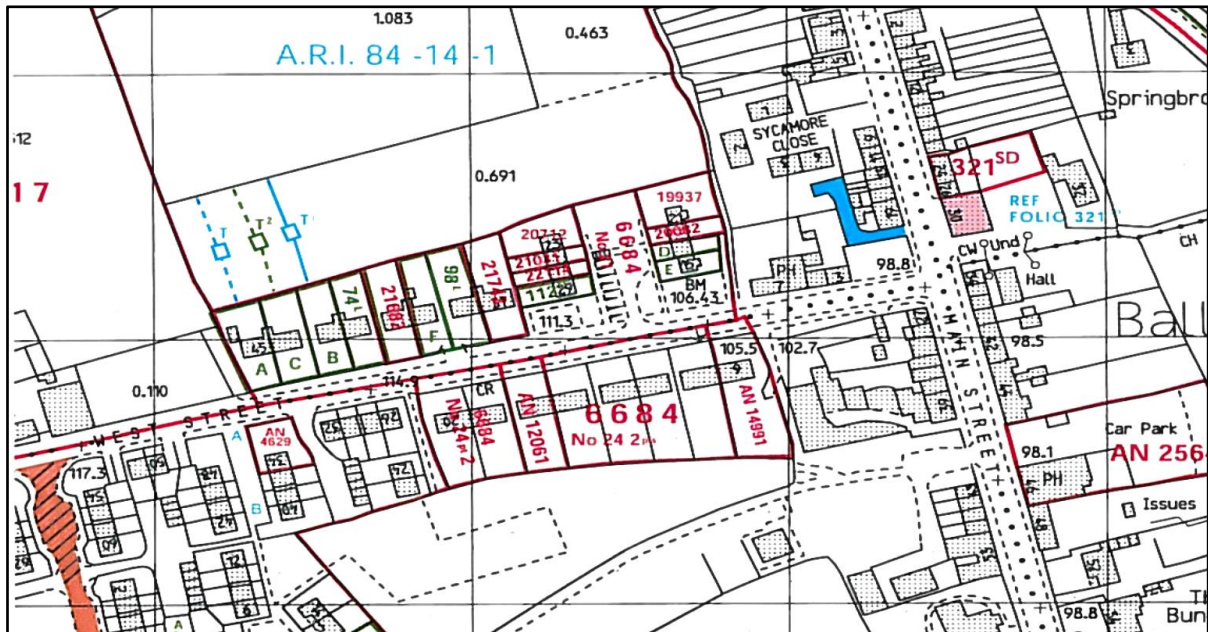
يتم استخدام المسح العقاري والتوثيق المساحي لتتبع وإظهار خطوط الحدود لكل من العقارات المملوكة الخاصة للأفراد والأراضي العامة. وتحتوي بيانات نظام المعلومات الجغرافية العقاري على معلومات تتعلق بالتفسير القانوني لحدود الملكية . وتستخدم هذه المعلومات في إنشاء الخرائط العقارية ، والتي تشمل رقم الارض (رقم القطعة) ورقم الشارع ورقم الوحدة الادارية ، وابعادها ومساحتها وحدودها ،

وملكية الأرض (اسم المالك) ، وتقييمات الضرائب ، وقيمتها (ثمنها) ، ونوع الأرض هل سكني ام زراعي ، وغيرها من البيانات.

يعد رسم الخرائط العقارية مهماً لأنه الوسيلة الوحيدة لتوفير سجلات دقيقة وشرعية وشاملة ودقيقة ومناحة بسهولة للمعلومات المتعلقة بالحقوق القانونية للأراضي . وفي التخطيط الحضري والتنمية ، وتقسيم قطع الأراضي ذات الأشكال غير المنتظمة من أجل توحيد الخدمات العامة ، وتحصيل الضرائب العقارية ، ورسم الخرائط وتقييم الأراضي العشوائية . ويجب أن تعكس الخارطة العقارية مجمل البيانات الجغرافية المكانية المسجلة ، سواء أكانت حقوق ملكية حصرية أم مشتركة ، أم غيرها من الحقوق المتعلقة بقطعة الأرض ، من المعروف أن المصريين القدماء طوروا السجلات المساحية (السجلات العقارية) ليتمكنوا من إعادة ملكية الأرض بعد الفيضان السنوي لنهر النيل.

السجل العقاري : هو عبارة عن سجل سندات الملكية الخاص لأي بلد وتسجيل الأراضي العقارية وما يتعلق بها ، وهو مصدر أساس للبيانات في النزاعات والدعاوى القضائية بين ملاك الأراضي . ففي معظم البلدان تطورت النظم القانونية واستخدمت السجل العقاري لتحديد أبعاد وموقع قطع الأرض المحددة في الوثائق القانونية .

تتضمن المعلومات المسجلة في السجل العقاري وصفاً دقيقاً لموقع قطعة الأرض ومن يمتلكها ، قد يسجل أيضاً ما يمكن استخدام الأرض من أجله مثل (سكني أم لا ، حديقة عامة ، دائرة حكومية ... إلخ) ، وتسجيل موقع وشكل المباني ، وقيمة الممتلكات ، كما في الشكل (2 - 9) ، ويمكن استخدام السجل العقاري أيضاً لأغراض فرض ضرائب على الأراضي .

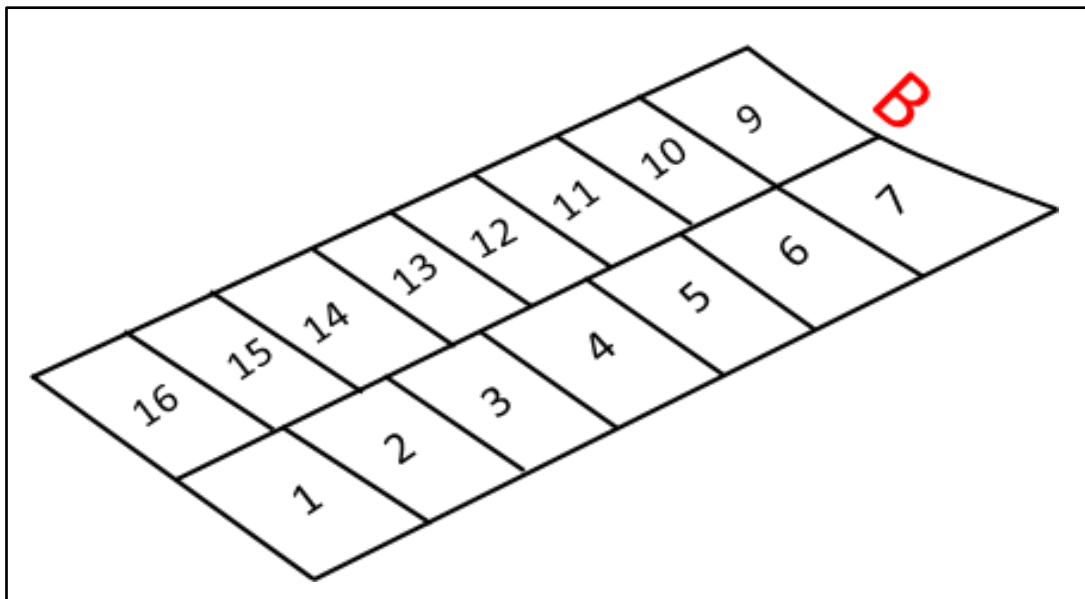


الشكل (2 - 9) المعلومات المسجلة في الخارطة العقارية (للاطلاع)

مثال 2 - 3 : ارسم بمقياس رسم 1:1000 الجزء (B) من الخارطة العقارية المبينة في ادناه ، اذا علمت أن أبعاد الوحدة السكنية الواحدة = $(10 \times 20) \text{ m}$.



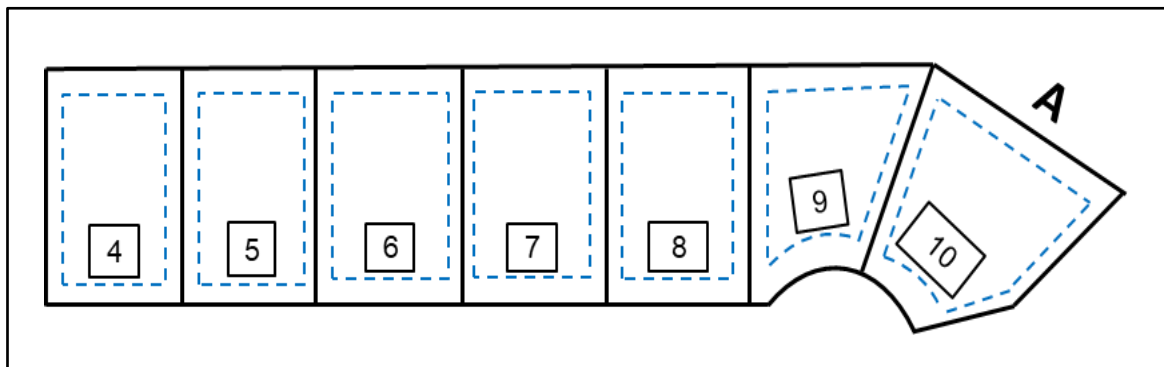
الحل :



تمرين 2 - 4 : ارسم الخارطة العقارية الجزء رقم (A) المبين شكلها أدناه ، بمقياس رسم 1 : 1000 ، إذا علمت أن أبعاد الوحدة السكنية الواحدة = $(30 \times 15) m$.



الحل :



الفصل الثالث

المقاطع الطولية والعرضية

Profiles and Cross Sections

أهداف الفصل:

يهدف الفصل الى تعليم الطالب على :

1. كيفية التعامل مع المقاطع الطولية والعرضية المستخدمة في أعمال المساحة الهندسية.
2. طريقة رسم المقاطع الطولية والعرضية من خلال الأمثلة والتمارين المتعلقة بأنواع مختلفة من هذه المقاطع.

الفصل الثالث

المقاطع الطولية والعرضية

Profiles and Cross Sections

المقدمة Introduction :

بعد أن تلقى الطالب في مادة الرسم الصناعي للعام الماضي بعض التفاصيل الخاصة برسم المقاطع الطولية والعرضية ضمن موضوع الخرائط الطبوغرافية .. سوف نستعرض في هذا الفصل رسم هذه المقاطع بتفاصيل أكثر، وبما يتلاءم والهدف الذي أعدت من أجله هذه المادة بطريقة يسهل على الطالب التعامل معها من خلال الأمثلة التفصيلية والتمارين.

بدءاً سوف نسلط الضوء على هذه المقاطع من خلال تعريفها واستخدامها بشكل مفصل ضمن جزئين أساسيين وهما :

- المقاطع الطولية (Profiles)
- المقاطع العرضية (Cross-Sections).

إذ يمكن تقسيمهما الى مجاميع ثانوية حسب نوع الاعمال في هذه المقاطع لتضم مقاطع بأنواع متعددة. ففي المقاطع الطولية يمكن أن يكون هناك تقسيم آخر حسب نوع الانحدار للخط التصميمي (Designed Line) الذي قد يكون :

- انحداراً متزايداً (انحدار صاعد)
- انحداراً متناقصاً (انحدار نازل)
- كما يمكن أن يضم المقطع في بعض الحالات كلا الانحدارين.

إضافة الى ذلك ، قد يتباين نوع المقطع حسب نوع الأعمال الترابية في هذه المقاطع لتضم مقاطع فيها أعمال حفر (Cut) فقط ، أو مقاطع فيها أعمال دفن (Fill) فقط ، كما قد يضم المقطع كلا العاملين من الحفر والدفن.

من جهةٍ أخرى ، تقسم المقاطع العرضية الى:

- مقاطع عرضية فيها أعمال حفر (Cross-Section in Cut) .
- مقاطع عرضية فيها أعمال دفن فقط (Cross-Section in Fill) .
- كما ان هناك مقاطع قد تشمل العاملين فقط.

بناءً على ما تقدم سوف تكون المواضيع الأساسية في هذا الفصل كما يلي:

- رسم نموذج مقطع طولي
- رسم مقطع طولي حفر
- رسم مقطع طولي ردم
- رسم مقطع طولي ردم وحفر
- رسم المقاطع العرضية

Drawing a Profile Section

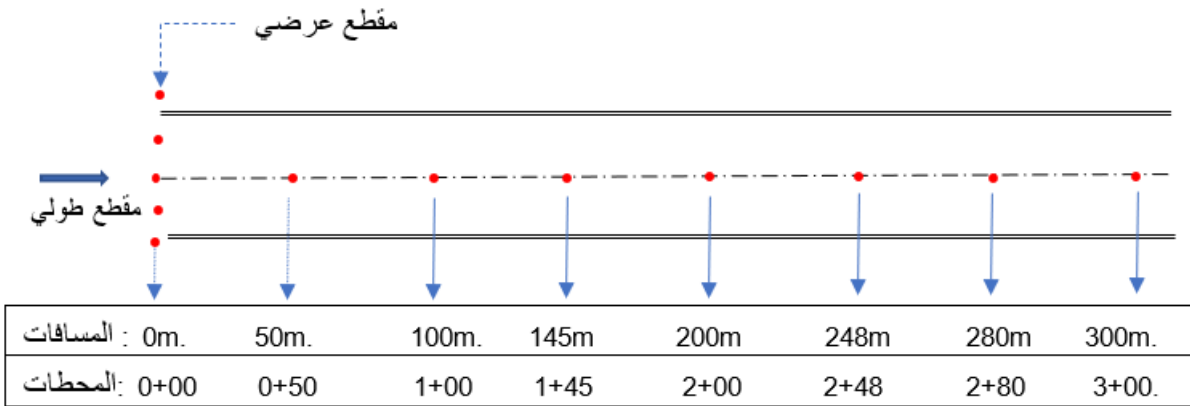
1-3 رسم نموذج مقطع طولي

في أغلب المشاريع الهندسية كثيراً ما نحتاج الى عملية التسوية (Levelling) من خلال تطبيقات معينة. فعلى سبيل المثال في هندسة الطرق يعد عمل المقاطع الطولية (Profiles) والمقاطع العرضية (Cross-Sections) من أهم الاعمال التي من خلالها يمكن معرفة تعرجات الأرض الطبيعية على امتداد المسار المختار للطريق, كما يمكن اختيار التصميم المناسب بعد رسم شكل الأرض الطبيعية بمقياس رسم مناسب.

بالإضافة الى التعرف على مناسيب النقاط في المناطق التي يلاحظ فيها تغيراً في المنسوب تعتمد المسافات الأفقية بين النقاط (كما موضح في الشكل 1-3) ليتسنى منها التعامل مع تطبيقات أخرى. وهكذا فان هناك نوعين من المقاطع كما ذكر في أعلاه وهما:

1. المقاطع الطولية (Longitudinal Sections (Profiles).

2. المقاطع العرضية (Cross-Sections).



الشكل (1-3) المسقط الافقي للنقاط المختارة لإنشاء المقطع الطولي والعرضي وتوزيع المسافات والمحطات

عندما يراد عمل مقطع طولي على أرض طبيعية ترابية، من أجل انشاء طريق على سبيل المثال، يتم العمل وفق الخطوات التالية:

1. تحدد مجموعة نقاط على الأرض الطبيعية (ground) الترابية وعلى امتداد المسار الطولي المنتخب ليمثل الخط المركزي لعمل الطريق ، ثم تقاس المسافات بين هذه النقاط المنتخبة على امتداد المسار الطولي. يُعبر عن هذه النقاط بنظام المحطات (Stations) كما في الشكل (1-3).

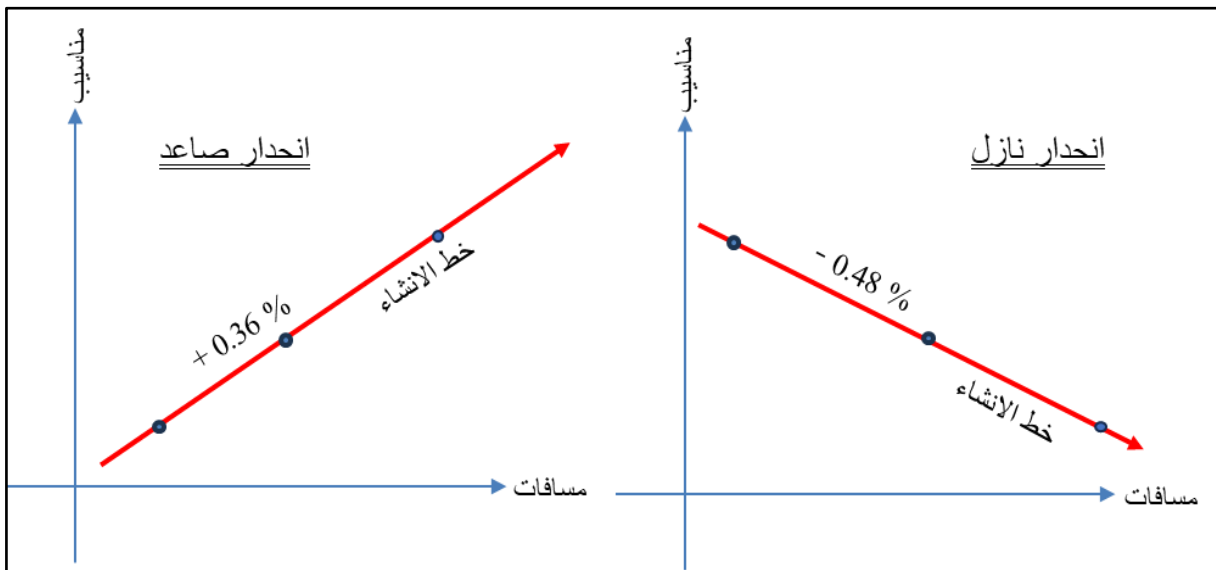
ولتوضيح ذلك: يُعبر عن المسافات بالمحطات المتمثلة بأرقام يفصل بينها علامة الجمع (+)، حيث يمثل الرقم الصحيح على يسار العلامة مضاعفات الـ(100 متر) وعلى اليمين الاجزاء.

فعند نقطة البداية ليس هناك مسافة مقطوعة على امتداد المسار المختار، لذا يُعبر عنها بنظام المحطات (0+00) لنقطة البداية، في حين يعبر عن محطة النقطة التي تبعد مسافة (215 m) عن نقطة بداية المسار بنظام المحطات (2+15) وهكذا... (انظر الشكل 1-3).

2. يتم احتساب مناسيب هذه النقاط على الأرض الطبيعية لتمثل (Ground Elevations) من خلال عملية التسوية (Levelling) باستخدام جهاز التسوية والمسطرة الخاصة بذلك، بالاستعانة بمنسوب معلوم لنقطة (BM: Bench Mark) أو أكثر.

وبعد الحصول على مناسيب كل النقاط المنتخبة على الأرض الطبيعية يمكن تمثيل الجزء الاول من المقطع الطولي المتمثل بخط الأرض الطبيعية (Ground Line).

3. يُصمم الطريق وفق المعايير الخاصة بالتصميم من خلال الاعتماد على انحدار (Slope) بقيمة ثابتة يعبر عنها بنسبة مئوية كأن تكون (+ 1 %) ، (+ 0.36 %) أو (- 0.48 %) ، كما في الشكل (2-3).



الشكل (2-3) نموذج لانحدار خط الإنشاء (اليمين) انحدار نازل (اليسار) انحدار صاعد

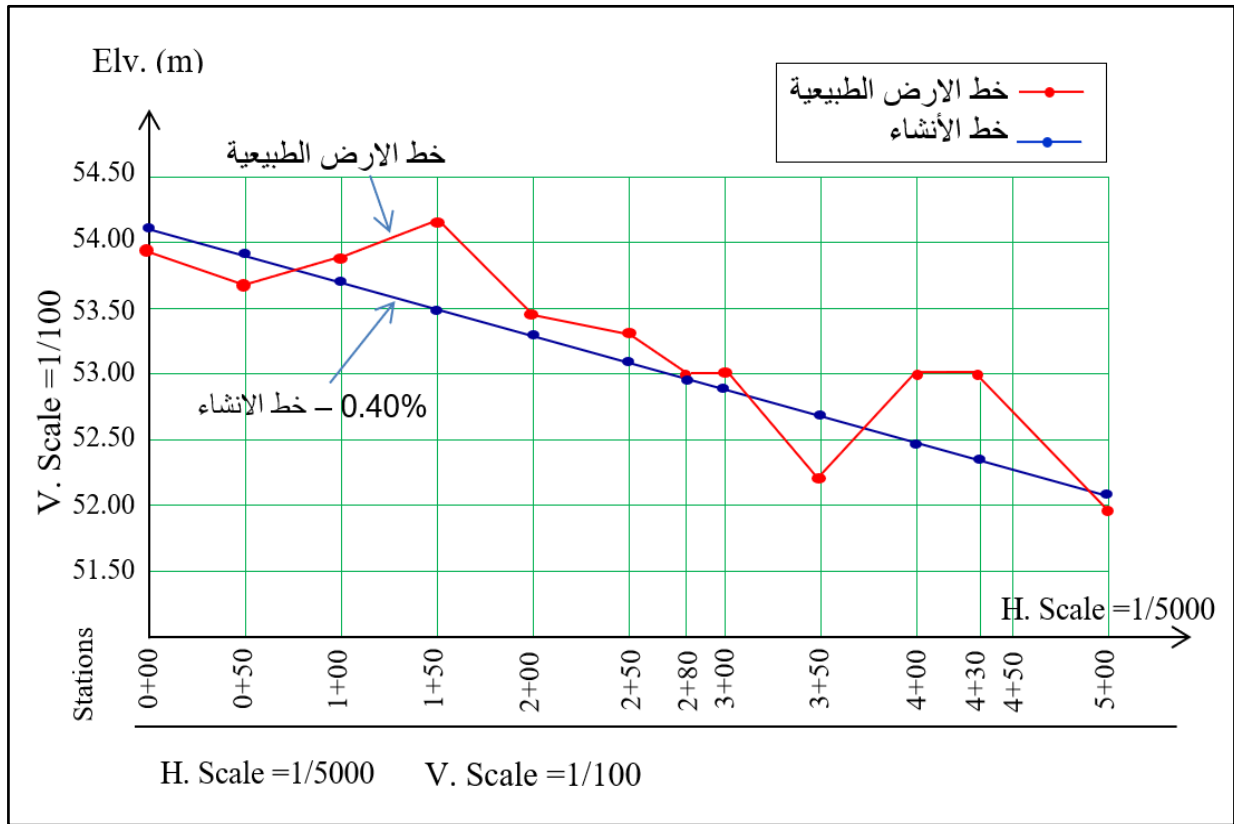
4. تحدد نفس النقاط أو المحطات المختارة على الأرض الطبيعية في أعلاه, لتحسب مناسبتها على الخط التصميمي (Design Line) أو خط الإنشاء (Grade Line). يتم التوصيل بين هذه النقاط لتشكيل الجزء الثاني من الرسم وهو خط الإنشاء (Grade Line).

وهكذا سيضم رسم المقطع الطولي كلا الخطين (خط الأرض و خط الإنشاء) ضمن محورين أساسيين وكما يلي:

• **المحور الأفقي :** لتمثيل المسافات أو المحطات على امتداد المسار, وعادة ما يكون رسم هذا المحور بمقياس رسم صغير كأن يكون (1 : 5000) أو (1 : 2500) لأن فروق المسافات بين نقطة وأخرى كبيرة. كما في الشكل (3-3) أدناه.

• **المحور العمودي :** لتمثيل مناسيب النقاط, وعادة ما يكون رسم هذا المحور بمقياس رسم كبير كأن يكون (100:1) أو (50:1) لأن فروق المناسيب بين نقطة وأخرى صغيرة.

5. يمكن حساب أعماق (Depths) الأعمال الترابية من خلال الفرق بين منسوبي نفس النقطة على الأرض وعلى خط الإنشاء.



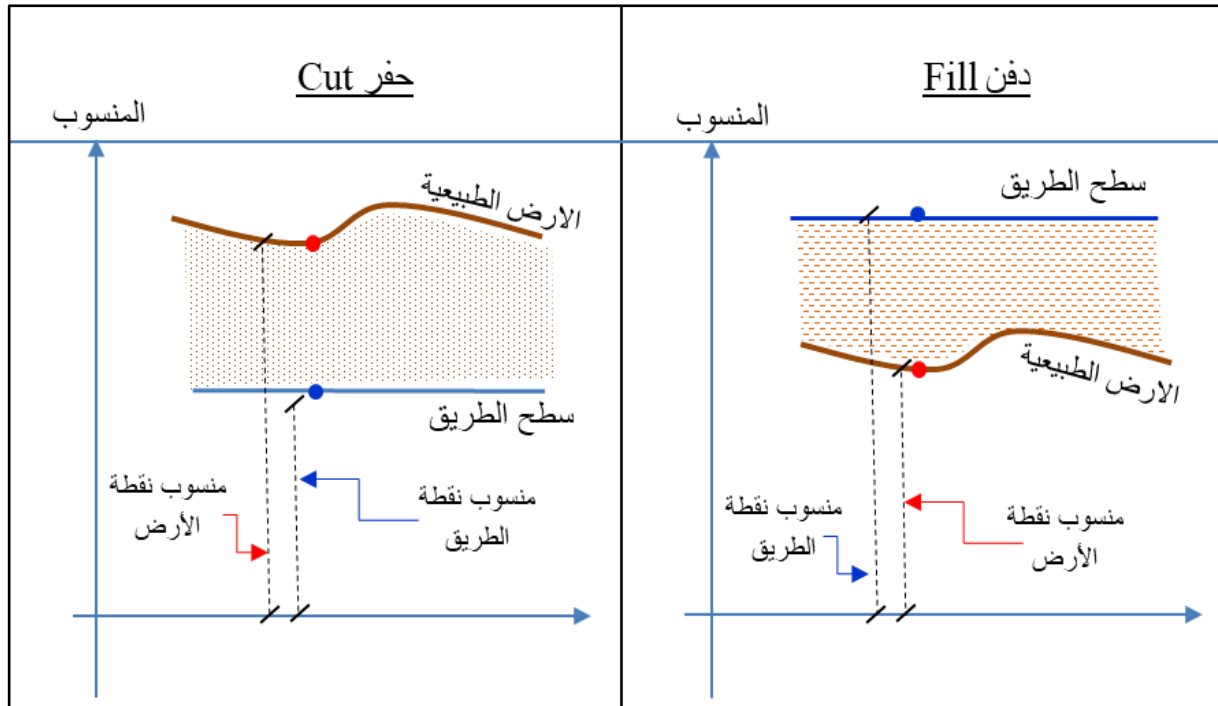
الشكل (3-3) مقطع طولي نموذجي يضم (خط الأرض الطبيعية) و (خط الإنشاء) بمقياس أفقي ورأسي

اذن خلاصة ما تقدم وبالرجوع الى الشكل (3-3) يمكن التعامل مع المقطع الطولي على أنه رسم يضم (خط الأرض الطبيعية) الذي يجمع بين النقاط المعروفة بمناسبيها على الأرض, و(خط الإنشاء) أو خط التصميم الذي يربط بين النقاط الممثلة بمناسبيها التصميمية على خط الإنشاء.

وكما هو معلوم أن منسوب النقطة بصورة عامة يُعرف على أنه البعد الرأسى للنقطة المعنية عن مستوي ثابت يسمى ب(مستوي الإسناد) وعادة ما يمثل هذا المستوي بمعدل سطح البحر (Mean Sea Level) حيث يكون المنسوب عند هذا السطح (0), وتتخذ كل دولة سطح إسناد خاص بمناسبيها. ففي العراق يتخذ سطح الاسناد ذي المنسوب الصفرى عند مدينة الفاو جنوب العراق وتنسب المناسيب لهذا السطح. ونتيجة لتوفر منسوبيين لكل نقطة على المقطع الطولي, فبالإمكان حساب عمق الاعمال الترابية التي قد تكون (حفر Cut) او (دفع Fill).

ولتوضيح ذلك: أن الغاية هي الوصول الى منسوب سطح الإنشاء (الطريق), فعندما تكون الأرض الطبيعية بمنسوب أعلى من المنسوب التصميمي, يجب ازالة الكميات الترابية التي تكون اعلى من سطح الطريق للوصول الى المنسوب المطلوب, ففي هذه الحالة (حفر) كما في الشكل (3-4).

أما في حالة أن منسوب الأرض الطبيعية أوطأ (أقل) من منسوب خط الإنشاء عند تلك النقطة فهي بحاجة الى إضافة كميات ترابية للوصول الى سطح الإنشاء, مما يعني ان هذه الحالة (دفع) أو ردم كما موضح في الشكل (3-4).



الشكل (3-4) نموذج للتعرف على طبيعة الاعمال الترابية (اليمين) دفع و(اليسار) حفر

من أجل أن نفهم تفاصيل رسم المقطع الطولي سنورد عددا من الامثلة الآتية:

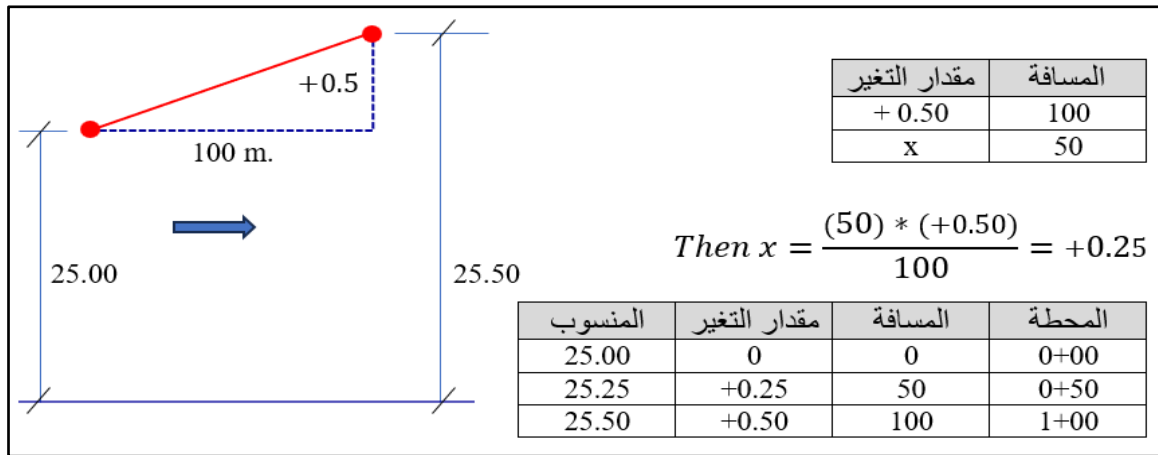
مثال (1-3): في عملية تسوية طولية تم تعيين مجموعة من المحطات لغرض رسم المقطع الطولي, فإذا كانت مناسيب الأرض الطبيعية كما في جدول (1-3). ثم حسبت مناسيب تلك النقاط على سطح الطريق المراد انشاؤه بانحدار (% 0.5 +) حيث يبدأ من المحطة (0+00) بمنسوب تصميمي (25.00) متر. فأحسب عمق الاعمال الترابية ونوعها ضمن هذا العمل. ثم ارسم المقطع بمقياس (1:5000) للمسافات وبمقياس (1:50) للمناسيب.

الجدول (1-3) المحطات ومناسيب النقاط على الأرض الطبيعية وعلى خط الإنشاء

العمق Depth (m.)		المنسوب على خط الإنشاء Grade Elevation	المنسوب على الأرض الطبيعية Ground Elevation	المحطة Station
دفن Fill	حفر Cut			
		25.00	25.20	0+00
		25.25	25.60	0+50
		25.50	25.91	1+00
		25.75	26.13	1+50
		26.00	26.61	2+00
		26.25	26.67	2+50
		26.50	26.74	3+00
		26.75	27.14	3+50
		27.00	27.60	4+00
		27.25	27.80	4+50
		27.50	28.00	5+00

الحل: كي يطلع الطالب على حساب المناسيب على سطح الإنشاء يستعان بمنسوب النقطة المعلومة (هنا نقطة البداية ذات المنسوب 25.00). ثم الاستعانة بالإشارة (+) التي تعني تزايد في قيمة المنسوب (تصاعدي) بنسبة مئوية وكما موضح في الشكل (3-5) وكما يلي:

عند الانتقال من المحطة (0+00) الى النقطة التي تليها أي (0+50) فهذا يعني اننا قطعنا مسافة (50) متراً عن نقطة البداية, وبهذا يكون مقدار التغير (+0.25) أي (تضاف نصف قيمة الانحدار ، لأن قيمة الانحدار معرفة % يعني (100) متراً)، وبهذا تصبح قيمة المنسوب (25.25).



الشكل (3- 5) العلاقة بين قيمة الانحدار وكيفية حساب المنسوب للمحطات المتتالية وأنصافها (للاطلاع)

وعند الانتقال من المحطة (0+00) الى النقطة (1+00) فهذا يعني اننا قطعنا مسافة (100) متراً عن البداية, وبهذا يكون مقدار التغير (+0.50) (تضاف قيمة الانحدار كاملاً % +0.50) فيصبح المنسوب (25.50). وهكذا كما موضح في الجدول (2-3). (علماً ان هذا الجدول للتوضيح فقط ولا حاجة له في الامثلة اللاحقة).

$$\text{مقدار التغير} = \frac{\text{المسافة} \times \text{الأنحدار}}{100} \dots\dots\dots (1-3) \text{ (للاطلاع)}$$

$$\text{العمق} = \text{منسوب الأرض الطبيعية} - \text{منسوب خط الإنشاء} \dots\dots\dots (2-3)$$

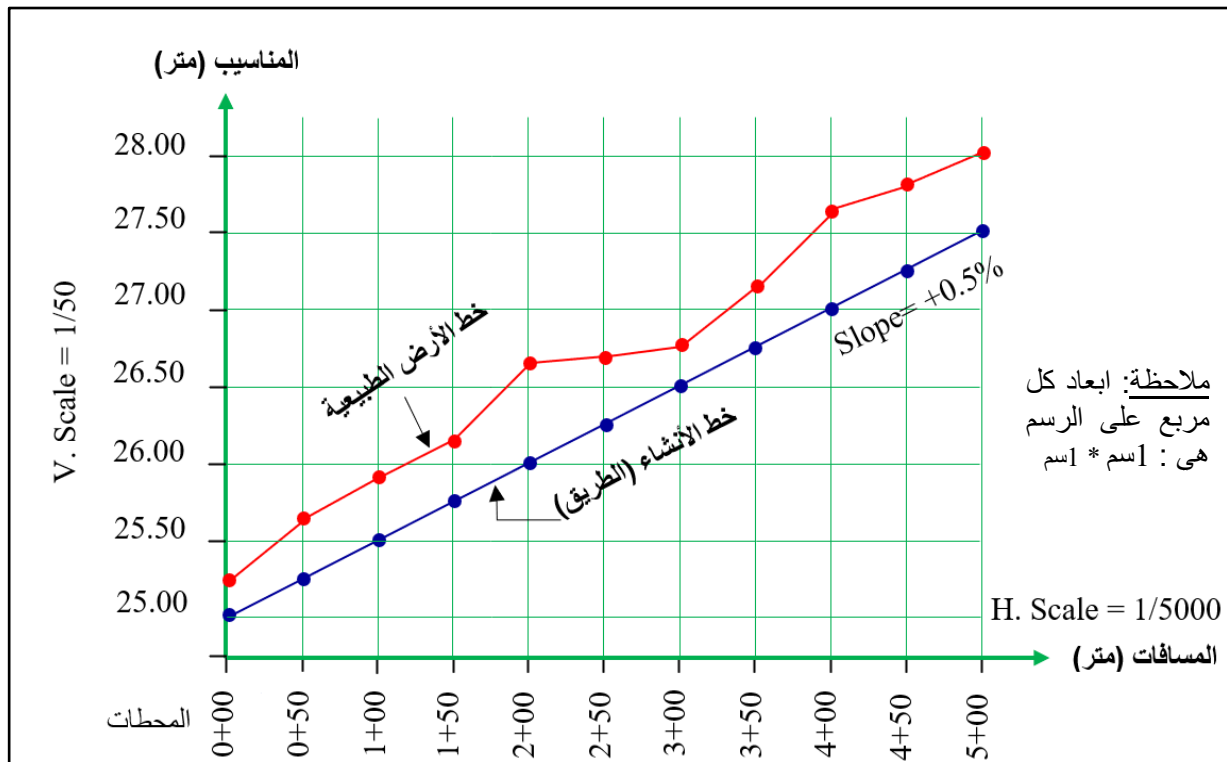
الجدول (2- 3) حساب المناسيب على خط الإنشاء من خلال تباين المسافات وحساب مقدار التغير (للاطلاع)

المحطة	المسافة	مقدار التغير	منسوب الإنشاء
0+00	0	0	
0+50	50	0.25	
1+00	100	0.50	
1+50	150	0.75	
2+00	200	1.00	
2+50	250	1.25	
3+00	300	1.50	
3+50	350	1.75	
4+00	400	2.00	
4+50	450	2.25	
5+00	500	2.50	

يمكن الآن تكملة الجدول بحساب الأعماق بالأعتماد على المعادلة (2-3) وكما مبين في الجدول (3-3).

الجدول (3-3) حساب عمق الاعمال الترابية ونوعها

العمق Depth (m.)		المنسوب على خط الإنشاء Grade Elevation	المنسوب على الأرض الطبيعية Ground Elevation	المحطة Station
دفن Fill	حفر Cut			
	0.20	25.00	25.20	0+00
	0.35	25.25	25.60	0+50
	0.41	25.50	25.91	1+00
	0.38	25.75	26.13	1+50
	0.61	26.00	26.61	2+00
	0.42	26.25	26.67	2+50
	0.24	26.50	26.74	3+00
	0.39	26.75	27.14	3+50
	0.60	27.00	27.60	4+00
	0.55	27.25	27.80	4+50
	0.50	27.50	28.00	5+00



الشكل (3-6) الرسم النموذجي لمقطع طولي فيه حفر فقط وانحدار موجب (صاعد)

وكما موضح في الشكل (3-6) أن المقطع الطولي قد رسم (من اليسار الى اليمين) بالاعتماد على مقياس الرسم الملائم ، حيث ترسم المحاور الرئيسية لكل من:

المحور الأفقي : المسافات بمقياس (1:5000) اي ان لكل (1) سم على الرسم يقابل (50) مترا على الأرض.

المحور الرأسي : المناسب بمقياس (1:50) اي ان لكل (1) سم على الرسم يقابل (0.50) مترا على الأرض.

والخلاصة يبين المثال أعلاه مقطع طولي وفيه (أعمال حفر فقط) لأن مناسيب الأرض الطبيعية في كل النقاط كانت أعلى من مناسيب سطح الإنشاء ، كما ان إنحدار السطح كان إنحداراً تصاعدياً (زيادة المنسوب مع زيادة المسافات).

2-3 رسم مقطع طولي حفر

Drawing a Profile Cut Section

مثال (3-2): من أجل تصميم جزء من طريق بطول (250) متر وبإنحدار (% 0.40 -) أخذت مناسيب النقاط على الأرض الطبيعية كما في الجدول (3-4) أقترح أن تكون المحطة (3+00) هي بداية العمل بمنسوب تصميمي (56.28) متر لحساب بقية المناسيب على الطريق. احسب عمق الأعمال الترابية ونوعها للطريق المراد انشاؤه ضمن هذا العمل ، وأرسم المقطع بمقياس (1:2500) للمسافات وبمقياس (1:25) للمناسيب.

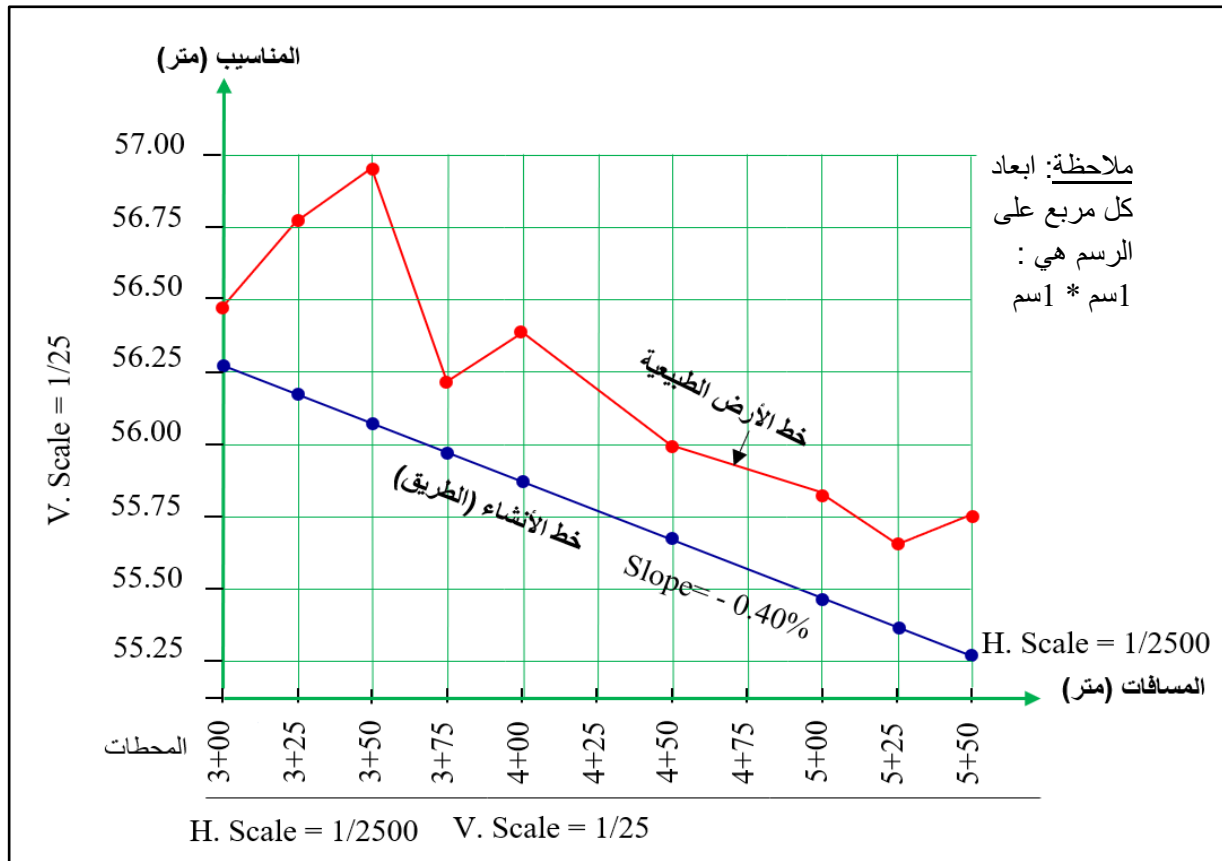
الجدول (3-4) المحطات ومناسيب النقاط على الأرض الطبيعية ومناسيب النقاط على خط الإنشاء

العمق Depth (m.)		المنسوب على خط الإنشاء Grade Elevation	المنسوب على الأرض الطبيعية Ground Elevation	المحطة Station
حفر Cut	دفن Fill			
		56.28	56.46	3+00
		56.18	56.80	3+25
		56.08	56.95	3+50
		55.98	56.18	3+75
		55.88	56.37	4+00
		55.68	56.00	4+50
		55.48	55.80	5+00
		55.38	55.65	5+25
		55.28	55.75	5+50

الحل:

الجدول (3-5) لحساب عمق الاعمال الترابية ونوعها

العمق Depth (m.)		المنسوب على خط الإنشاء Grade Elevation	المنسوب على الأرض الطبيعية Ground Elevation	المحطة Station
حفر Cut	دفع Fill			
0.18		56.28	56.46	3+00
0.62		56.18	56.80	3+25
0.87		56.08	56.95	3+50
0.20		55.98	56.18	3+75
0.49		55.88	56.37	4+00
0.32		55.68	56.00	4+50
0.32		55.48	55.80	5+00
0.17		55.38	55.65	5+25
0.47		55.28	55.75	5+50



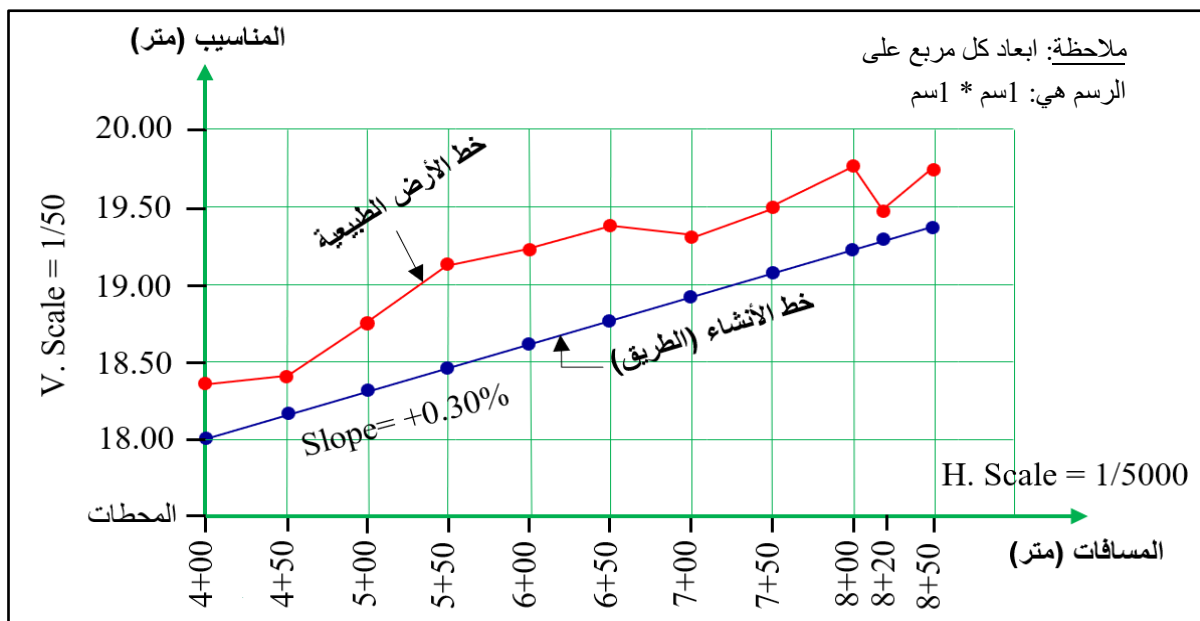
الشكل (3-7) رسم المقطع الطولي فيه حفر فقط وانحدار سالب (نازل)

تمرين (3-1): تم العمل في جزء من طريق ابتداءً عند المحطة (4+00) وانتهاءً عند المحطة (8+50) حيث أخذت مناسيب النقاط على الأرض كما في الجدول (3-6). فإذا كان المنسوب التصميمي للمحطة (4+00) مساوياً إلى (18.00) متر على سطح الطريق المراد إنشاؤه وبانحدار (+ 0.30 %) فحسبت المناسيب على خط الإنشاء. المطلوب : احسب أعماق الاعمال الترابية عند تلك النقاط مع رسم المقطع الطولي بمقياس (1:5000) للمسافات وبمقياس (1:50) للمناسيب.

الجدول (3-6) المحطات ومناسيب النقاط على الأرض الطبيعية وعلى خط الإنشاء

العمق Depth (m.)		المنسوب على خط الإنشاء Grade Elevation	المنسوب على الأرض الطبيعية Ground Elevation	المحطة Station
دفن Fill	حفر Cut			
		18.00	18.35	4+00
		18.15	18.40	4+50
		18.30	18.75	5+00
		18.45	19.15	5+50
		18.60	19.20	6+00
		18.75	19.36	6+50
		18.90	19.28	7+00
		19.05	19.47	7+50
		19.20	19.75	8+00
		19.26	19.46	8+20
		19.35	19.68	8+50

الحل : يتم اتباع نفس خطوات حل مثال (3 - 2) بعمل جدول لحساب اعماق الاعمال الترابية ونوعها .



الشكل (3-8) رسم المقطع الطولي فيه حفر فقط وانحدار موجب (صاعد)

Drawing a Profile Fill Section**3 - 3 رسم مقطع طولي ردم**

مثال (3-3): إذا غُلمت مناسيب النقاط على الأرض الطبيعية كما في الجدول (3-7) ، حيث تطلب التصميم رسم هذه النقاط بمقياس (1:5000) للمسافات وبمقياس (1:50) للمناسيب. احسب أعماق الأعمال الترابية ونوعها بالأعتماد على مناسيب خط الإنشاء ابتداءً من المحطة (12+00) ذات المنسوب التصميمي (42.20) متر والانحدار التصميمي (% 0.36 +) وبين ذلك على الرسم.

الجدول (3-7) المحطات ومناسيب النقاط على الأرض الطبيعية ومناسيب خط الإنشاء

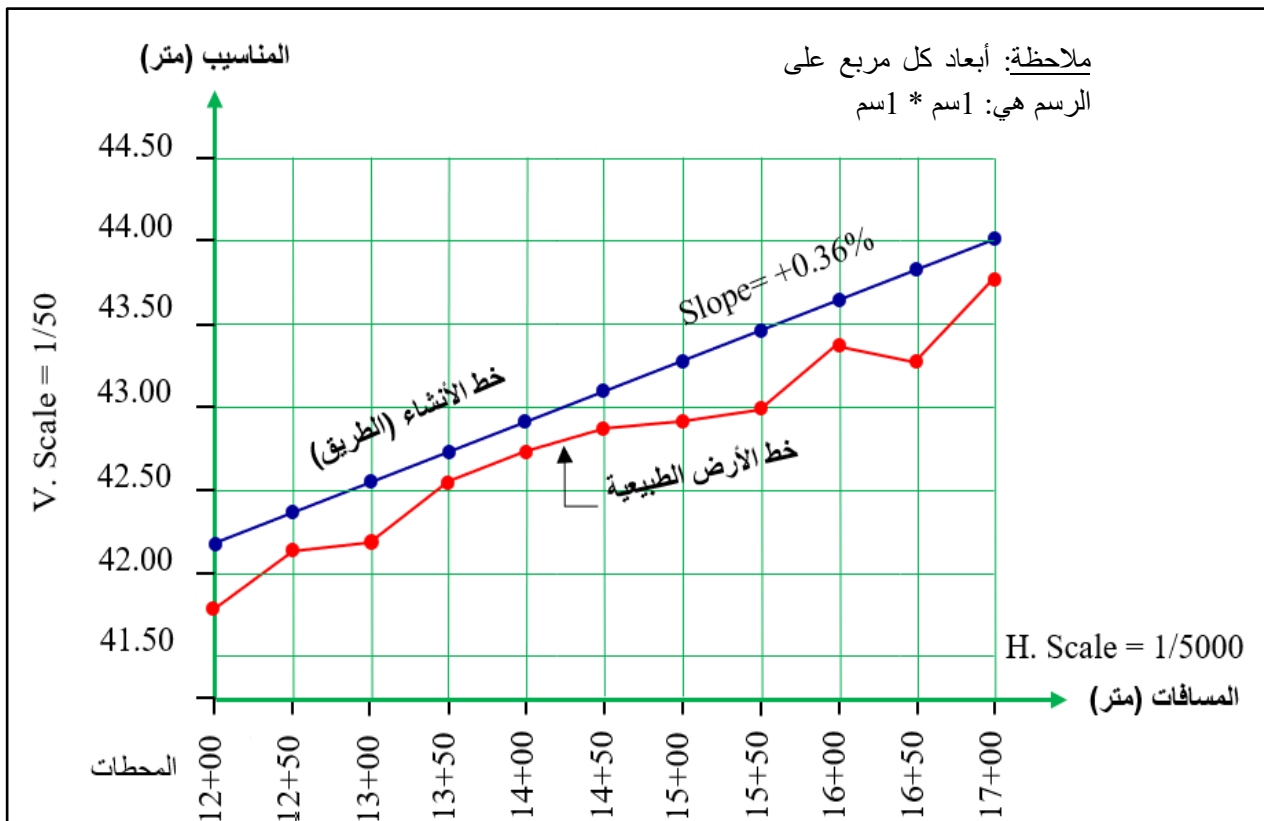
العمق Depth (m.)		المنسوب على خط الإنشاء Grade Elevation	المنسوب على الأرض الطبيعية Ground Elevation	المحطة Station
دفن Fill	حفر Cut			
		42.20	41.80	12+00
		42.38	42.13	12+50
		42.56	42.20	13+00
		42.74	42.54	13+50
		42.92	42.70	14+00
		43.10	42.78	14+50
		43.28	42.86	15+00
		43.46	42.96	15+50
		43.64	43.40	16+00
		43.82	43.27	16+50
		44.00	43.70	17+00

لتوضيح الحل:

يلاحظ في هذا المثال أن محطة الأبتداء هي (12+00) وهذا يعني أنه جزء آخر من الطريق، وليس بالضرورة أن يبدأ الحل من المحطة (00+00) لكن احتساب المسافات الفاصلة بين نقطة وأخرى ستكون على ما هي عليه. حيث يلاحظ ان المسافة بين نقطة وأخرى هي (50) متراً، لذا فالحل يمثل نقاط متتالية بمسافات منتظمة. (لزيادة التوضيح سوف يضاف عمود المسافات الى الحل). حيث تشكل المسافة المحسوبة البعد عن نقطة الأبتداء (12+00).

الجدول (3-8) حساب اعماق الاعمال الترابية ونوعها

العمق Depth (m.)		المنسوب على خط الإنشاء Grade Elevation	المسافات Distances	المنسوب على الأرض الطبيعية Ground Elevation	المحطة Station
دفن Fill	حفر Cut				
0.40		42.20	0	41.80	12+00
0.25		42.38	50	42.13	12+50
0.36		42.56	100	42.20	13+00
0.20		42.74	150	42.54	13+50
0.22		42.92	200	42.70	14+00
0.32		43.10	250	42.78	14+50
0.42		43.28	300	42.86	15+00
0.50		43.46	350	42.96	15+50
0.24		43.64	400	43.40	16+00
0.55		43.82	450	43.27	16+50
0.30		44.00	500	43.70	17+00



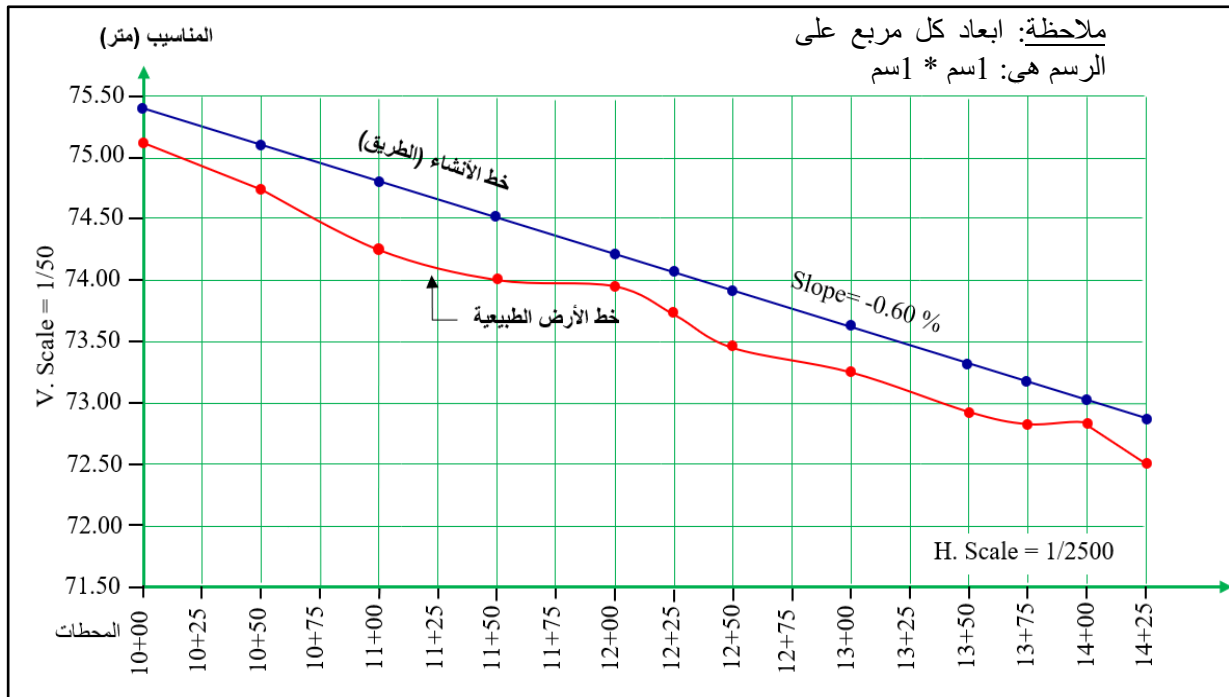
الشكل (3-9) رسم المقطع الطولي فيه دفن فقط وانحدار موجب (صاعد)

تمرين (2-3): أجريت عملية تسوية لمقطع طولي لطريق بطول (500 m) فإذا كانت مناسيب النقاط على الأرض كما في الجدول (9-3). احسب اعماق الاعمال الترابية عند كل نقطة لإنشاء ذلك الطريق ، اذا علمت أن نقطة البداية (10+00) بمنسوب تصميمي مقداره (75.40) متر وبانحدار (0.60 % -). وارسم ذلك المقطع بمقياس رسم مناسب.

الجدول (9 -3) المحطات ومناسيب النقاط على الأرض الطبيعية وعلى خط الإنشاء

العمق		المنسوب على خط الإنشاء	المنسوب على الأرض الطبيعية	المحطة Station
دفن Fill	حفر Cut			
		75.40	75.10	10+00
		75.10	74.75	10+50
		74.80	74.25	11+00
		74.50	74.00	11+50
		74.20	73.95	12+00
		74.05	73.72	12+25
		73.90	73.48	12+50
		73.60	73.37	13+00
		73.30	72.90	13+50
		73.15	72.84	13+75
		73.00	72.72	14+00
		72.85	72.50	14+25

الحل: يتم اتباع نفس خطوات حل مثال (3 - 3) بعمل جدول لحساب اعماق الاعمال الترابية ونوعها .



الشكل (3- 10) رسم المقطع الطولي فيه دفن فقط وانحدار سالب (نازل)

3 - 4 رسم مقطع طولي ردم وحفر Drawing a Profile Cut & Fill Section

في كثير من الأحيان تحسب مناسيب النقاط على الأرض الطبيعية بحيث تشكل خطأ متعرجاً ، وبالمقابل قد يكون خط الإنشاء أو خط التصميم أعلى من خط الأرض الطبيعية (أعمال حفر) في أجزاء وفي أجزاء أخرى يكون خط الأرض الطبيعية أوطأ من خط الإنشاء (أعمال دفن) وبذلك يكون المقطع الناتج مشتملاً على كلا النوعين من الأعمال الترابية. ولتوضيح ذلك سوف نورد المثال الآتي:

مثال (3-4): أريد تصميم طريق بطول (240) متر وبإنحدار (% 0.45 -) أخذت مناسيب النقاط على الأرض الطبيعية كما في الجدول (3-10) أقترح أن تكون المحطة (0+00) هي بداية العمل بمنسوب تصميمي (64.30) متر لتكون مناسيب تلك النقاط على سطح الطريق المراد إنشاؤه محسوبة كما في الجدول. احسب أعماق الأعمال الترابية معززا ذلك بالرسم بمقياس (1:2000) للمسافات وبمقياس (1:20) للمناسيب.

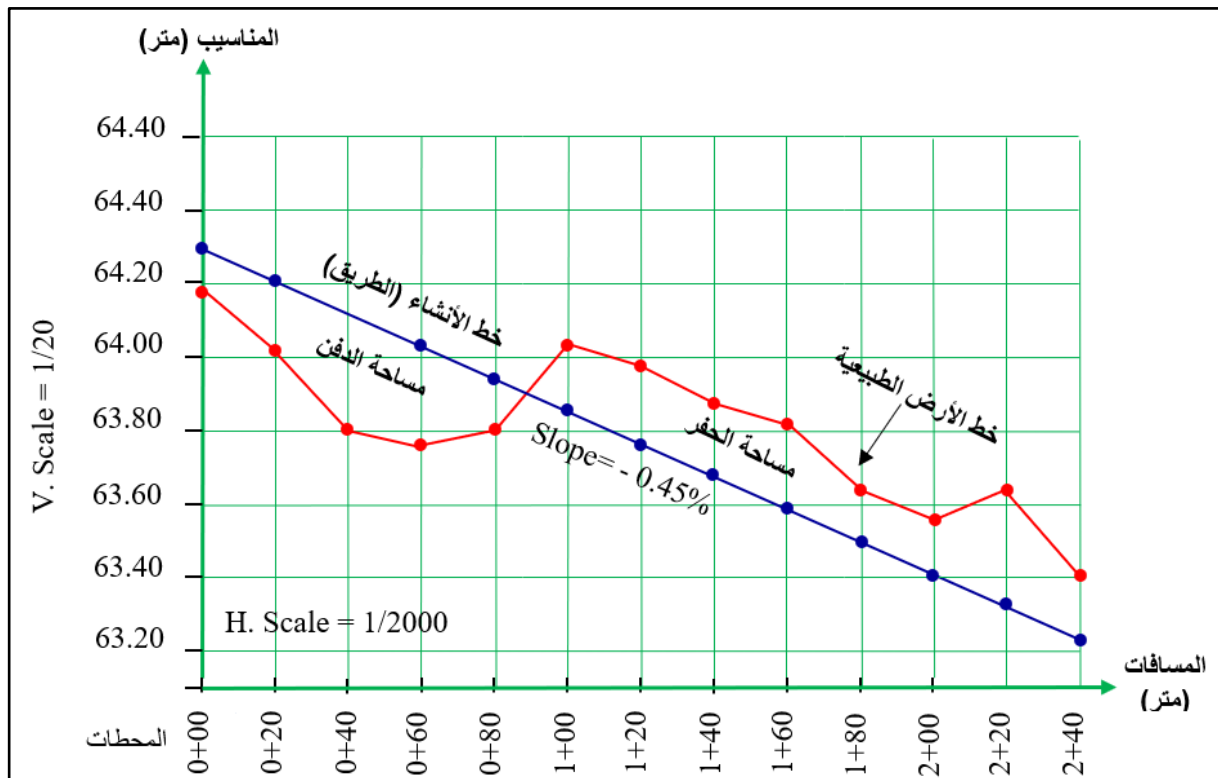
الجدول (3-10) مناسيب النقاط على الأرض الطبيعية لإنشاء طريق بطول (240) متر

العمق Depth (m.)		المنسوب على خط الإنشاء Grade Elevation	المنسوب على الأرض الطبيعية Ground Elevation	المحطة Station
دفن Fill	حفر Cut			
		64.30	64.18	00+00
		64.21	64.02	00+20
		64.12	63.80	00+40
		64.03	63.77	00+60
		63.94	63.80	00+80
		63.85	64.05	01+00
		63.76	63.97	01+20
		63.67	63.88	01+40
		63.58	63.82	01+60
		63.49	63.64	01+80
		63.40	63.57	02+00
		63.31	63.63	02+20
		63.22	63.41	02+40

الحل: لتوضيح حساب المناسيب على خط الإنشاء من خلال حساب مقدار التغير ، فإن الانحدار (% 0.45 -) أي انه نزول (0.45 -) لكل (100) متر. في حين يتطلب السؤال انتقال منتظم بين نقطة وأخرى بمقدار (20) متر ، مما يعني أن مقدار التغير سيكون (0.09 -) لكل (20) متر من خلال القسمة على (5).

الجدول (3- 11) حساب اعماق الاعمال الترابية ونوعها

العمق Depth (m.)		المنسوب على خط الإنشاء Grade Elevation	المنسوب على الأرض الطبيعية Ground Elevation	المحطة Station
دفن Fill	حفر Cut			
0.12		64.30	64.18	00+00
0.19		64.21	64.02	00+20
0.32		64.12	63.80	00+40
0.26		64.03	63.77	00+60
0.14		63.94	63.80	00+80
	0.20	63.85	64.05	01+00
	0.21	63.76	63.97	01+20
	0.21	63.67	63.88	01+40
	0.24	63.58	63.82	01+60
	0.15	63.49	63.64	01+80
	0.17	63.40	63.57	02+00
	0.32	63.31	63.63	02+20
	0.19	63.22	63.41	02+40



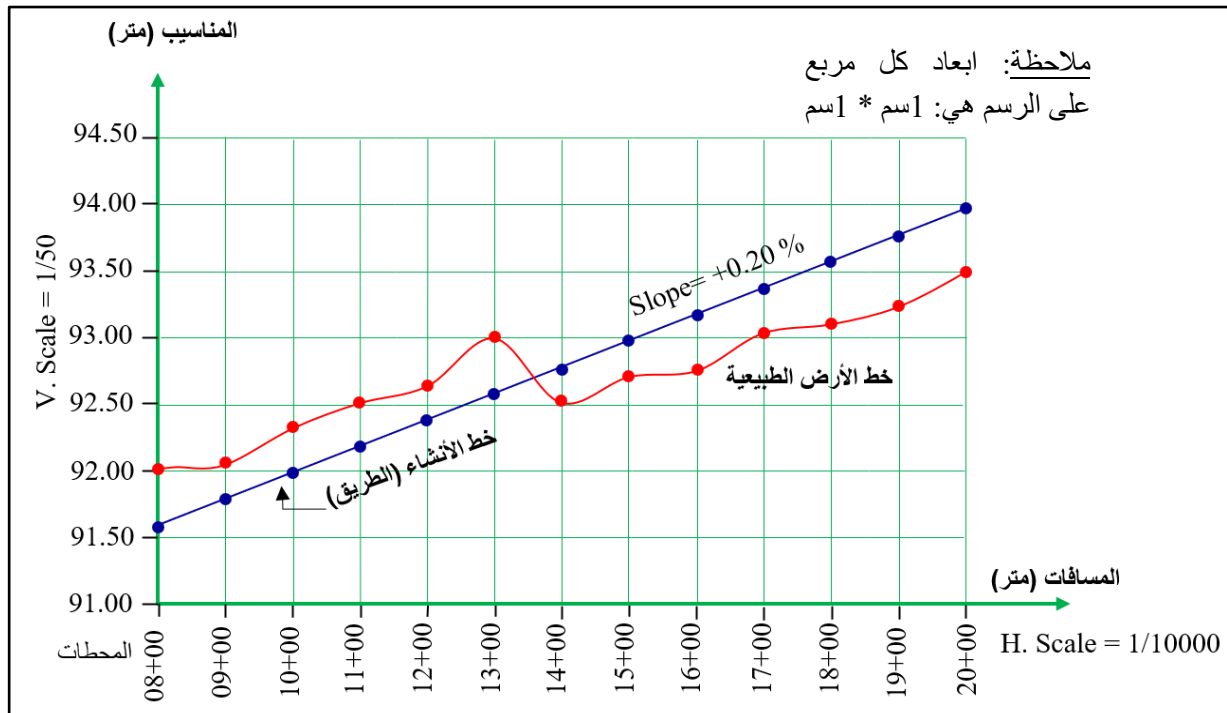
الشكل (3- 11) رسم مقطع طولي فيه حفر ودفن وانحدار سالب (نازل)

تمرين (3-3): أجريت عملية تسوية لمحطات لإنشاء طريق سريع. حيث عينت مناسيب تلك المحطات على الأرض الطبيعية وعلى خط الإنشاء وكما في الجدول (3-12). أحسب اعماق الاعمال الترابية عند كل نقطة لإنشاء ذلك الطريق ، مع رسم المقطع بمقياس رسم مناسب.

الجدول (3-12) المحطات ومناسيبها لإنشاء طريق سريع وبانحدار (+20%)

المحطة Station	المنسوب على الأرض الطبيعية	المنسوب على خط الإنشاء	العمق	
			حفر Cut	دفن Fill
08+00	92.00	91.56		
09+00	92.05	91.76		
10+00	92.36	91.96		
11+00	92.51	92.16		
12+00	92.60	92.36		
13+00	93.00	92.56		
14+00	92.55	92.76		
15+00	92.70	92.96		
16+00	92.81	93.16		
17+00	93.05	93.36		
18+00	93.10	93.56		
19+00	93.25	93.76		
20+00	93.50	93.96		

الحل: يتم اتباع نفس خطوات حل مثال (3 - 4) بعمل جدول لحساب اعماق الاعمال الترابية ونوعها .



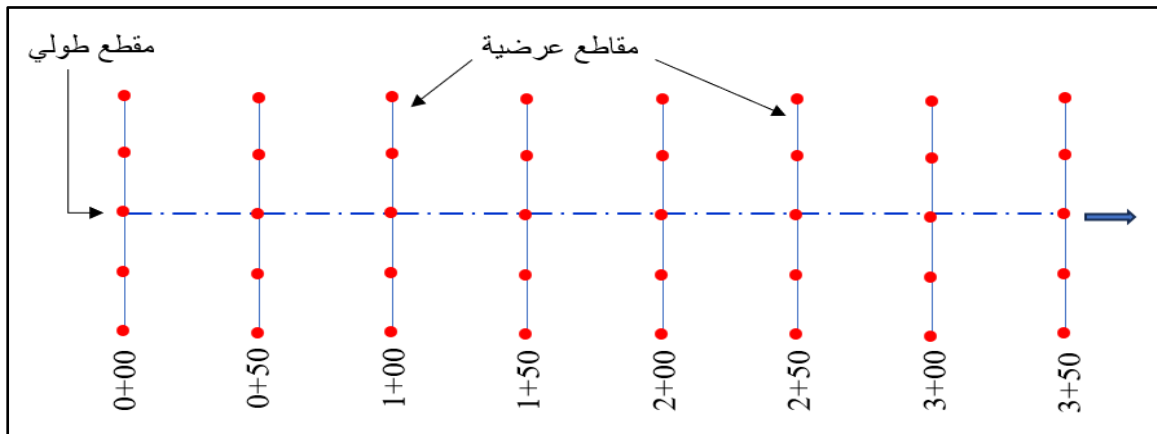
الشكل (3-12) رسم مقطع طولي فيه حفر ودفن وانحدار موجب (صاعد)

Drawing Cross Sections

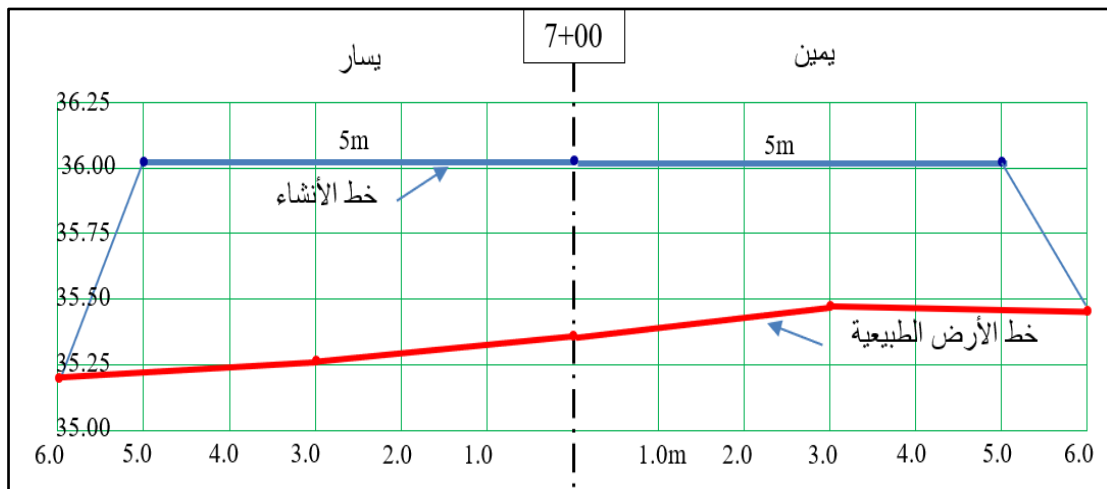
3-5 رسم المقاطع العرضية

إن المقاطع العرضية هي مقاطع تؤخذ باتجاه عرضي عمودي على امتداد المسار الطولي لمقطع الطريق كما في الشكل (3-13) والغاية منها بيان تفاصيل الطريق على جانبي الخط المركزي وخصوصا الأرض الطبيعية. لذا تختلف المقاطع بحسب مناسيب الأرض الطبيعية عند نقاط المنتصف وعلى يمين ويسار الخط المركزي. وكل مقطع يأخذ ترقيم المحطة التي أخذ عندها.

حيث تسجل المسافات يمين ويسار الخط المركزي (Center Line) لعدد من النقاط. حيث يعتمد عدد النقاط المأخوذة على طبيعة الأرض الطبيعية وما فيها من تعرجات إضافة إلى أن طول المقطع العرضي يعتمد على عرض الطريق. كما في المقاطع الطولية بعد الانتهاء من التسوية ترسم المقاطع ويمثل عليها نقاط سطح الأرض (Ground) إضافة إلى سطح الإنشاء (Grade) المتمثل بعرض الطريق التصميمي ومنسوبه. حيث ترسم المقاطع العرضية بمقياس رسم واحد في الاتجاهين الأفقي (للمسافات) والعمودي (للمناسيب) يضاف لها رسم الميل الجانبي كما في الشكل (3-14).



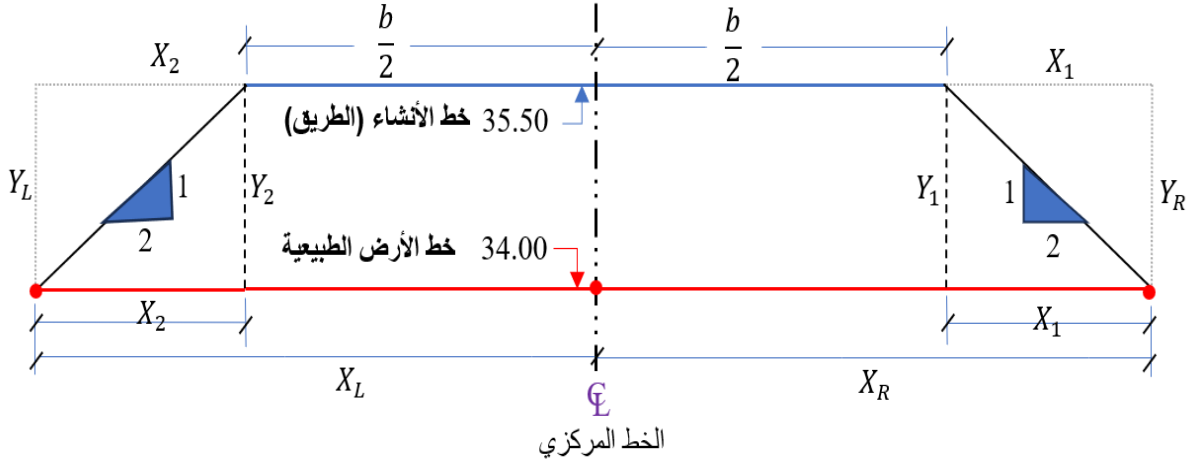
الشكل (3-13) توزيع النقاط لعمل المقطع الطولي والمقاطع العرضية المختلفة



الشكل (3-14) رسم مقطع عرضي نموذجي يضم (خط الأرض الطبيعية) و (خط الإنشاء) و (خط الانحدار الجانبي)

كما تتخلل المقاطع العرضية أحياناً بعض الحسابات عند وجود بعض المجاهيل وهنا تبرز أهمية الأنحدار الجانبي (Side Slope) في إيجاد هذه المجاهيل وكما موضح في المثال التالي:

مثال (3-5) : في مقطع عرضي كانت الأرض الطبيعية بمنسوب واحد يبلغ (34.0) متر، في حين كان منسوب الطريق يبلغ (35.50) متر. احسب المسافات الجانبية إذا كان عرض الطريق 10 متر والإنحدار الجانبي (1:2).



الشكل (3-15) تفاصيل المقطع العرضي وبيان المسافات والأعماق

الحل : للتعريف بالتفاصيل الخاصة بالمقطع العرضي الواردة في الشكل (3-15) ستكون كما يأتي:

(b) عرض الطريق الكلي (في المثال 10 متر) ونصفه يمين ويسار الخط المركزي بالتساوي.

(X_R) المسافة الجانبية الى اليمين (بعد أقصى نقطة الى جهة اليمين عن الخط المركزي).

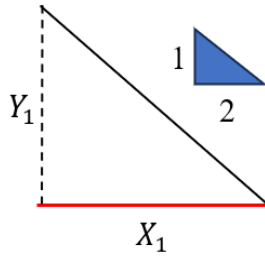
(X_L) المسافة الجانبية الى اليسار (بعد أقصى نقطة الى جهة اليسار عن الخط المركزي).

(Y_R) العمق الطرفي الى جهة اليمين.

(Y_L) العمق الطرفي الى جهة اليسار.

الآن يمكن إيجاد المسافات والأعماق المجهولة لكي يطلع عليها الطالب، من خلال تشابه المثلثات (مثلث الانحدار الجانبي الصغير مع المثلث الكبير) وكما يلي:

$$(3-3) \quad \frac{y}{x} = \frac{1}{s}$$



حيث ان : (y) العمق المراد حسابه أو المسافة الرأسية .

(x) المسافة الأفقية .

(s) معامل الإنحدار الجانبي .

$$\text{المسافة الافقية} = \text{العمق} \times \text{معامل الانحدار الجانبي} \dots\dots\dots (4-3)$$

من خلال تشابه المثلثات وبالاعتماد على المعادلة (3-3) يكون الاتي:

$$\frac{y_1}{x_1} = \frac{1}{s} \quad \Rightarrow \quad y_1 = 34.00 - 35.50 = -1.50 \quad \Rightarrow \quad \frac{1.5}{x_1} = \frac{1}{2}$$

$$(X_1) = 2 \times 1.5 = 3 \quad (\text{حاصل ضرب الطرفين} * \text{الوسطين})$$

$$\text{المسافة الجانبية } (X_R) = \text{المسافة الافقية } (X_1) + \text{نصف عرض الطريق} = (3) + (5) = 8 \text{ متر}$$

$$\text{المسافة الجانبية } (X_R) = \text{المسافة الجانبية } (X_L) = 8 \text{ متر}$$

$$\text{العمق الطرفي } (Y_R) = \text{العمق الطرفي } (Y_L) = \text{العمق الوسطي} = (Y_2) = (Y_1)$$

$$\text{العمق الوسطي} = 1.5 \text{ متر بدون الاشارة}$$

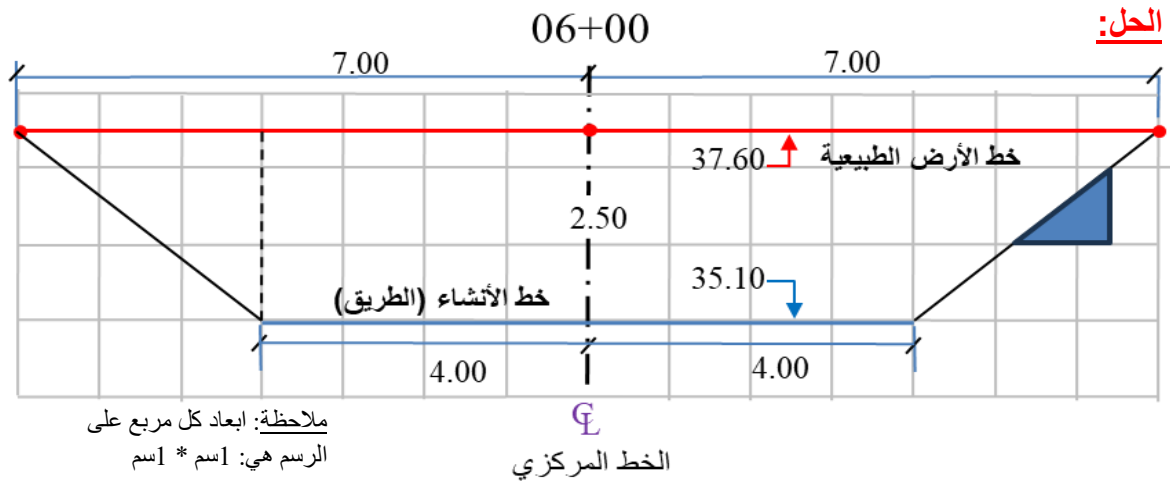
يلاحظ أن العمق الطرفي الى جهة اليمين = العمق الطرفي الى جهة اليسار = العمق الوسطي عند منتصف الخط المركزي (لأن المقطع مستوي بمنسوب واحد ومتماثل الانحدار الجانبي على الجانبين).

مثال (6-3): أجريت عملية تسوية فكانت نتائج المقطع العرضي (6+00) كما في الجدول (3-13).

ارسم هذا المقطع بمقياس رسم (1:100).

الجدول (3-13) تفاصيل مقطع عرضي بعد عملية التسوية

المحطة	خط المنسوب	نقطة اليمين		الخط المركزي		نقطة اليسار	
		مسافة	منسوب	مسافة	منسوب	مسافة	منسوب
6+00	الأرض الطبيعية	7.00	37.60	0	37.60	7.00	37.60
	سطح الطريق	4.00	35.10	0	35.10	4.00	35.10
ملاحظة	المسافات الواردة في الجدول تمثل البعد عن الخط المركزي						



الشكل (3-16) رسم مقطع عرضي عند المحطة (06+00)

تمرين (3-4): أجريت عملية تسوية للمقطع العرضي (7+00) كما في الجدول (3-14). أرسم هذا المقطع بمقياس رسم (1:100).

الجدول (3-14) تفاصيل المقطع العرضي بعد عملية التسوية

المحطة	خط المنسوب	نقطة اليمين		الخط المركزي		نقطة اليسار	
		مسافة	منسوب	مسافة	منسوب	مسافة	منسوب
7+00	الأرض الطبيعية	7.00	38.40	0	38.40	7.00	38.40
	سطح الطريق	4.00	35.40	0	35.40	4.00	35.40
ملاحظة: المسافات الواردة في الجدول تمثل البعد عن الخط المركزي							

الحل:

الشكل (3-17) رسم مقطع عرضي عند المحطة (7+00)

الفصل الرابع

الخرائط الكنتورية

Contour Maps

اهداف الفصل :

1. أن يتدرب الطالب على كيفية رسم النقاط المعلومة الإحداثيات والمناسيب.
2. أن يتعلم الطالب رسم الخطوط الكنتورية بالطريقة الحسابية والشبكية.
3. أن يتدرب الطالب على كيفية رسم الخطوط الكنتورية من نقاط معلومة المنسوب ومن الفترة الكنتورية.
4. أن يتعلم الطالب رسم مقطع طولي من خارطة كنتورية.
5. أن يتدرب الطالب على كيفية تمثيل التضاريس على الخارطة الكنتورية.

الفصل الرابع

الخرائط الكنتورية

Contour Maps

1-4 رسم نقاط المناسيب (معلومة الإحداثيات والمناسيب)

Drawing Elevations with known Coordinates

إن عملية رسم نقاط المناسيب المعلومة الإحداثيات تتضمن أولاً رصد الإحداثيات والمناسيب لهذه النقاط في الحقل ومن ثم رسمها على الورق الخاص بذلك ، حيث يمكن اتباع الطريقة المعروفة بطريقة المربعات لقياس الإحداثيات الأفقية للنقاط التي سيتم رصد منسوبها باستخدام جهاز الميزان. إن من أهم مميزات هذه الطريقة أنه يمكن تنفيذها بدون استخدام أية أجهزة باستثناء الشريط فقط وكالاتي:

1. تبدأ هذه الطريقة برسم او تحديد مربعات (مثلا طول ضلع المربع 10 متر) على الأرض وغالبا ماتستخدم مادة لونية معينة لتحديد حدود هذه المربعات اذا كانت الارض مبلطة أو أوتاد اذا كانت الارض ترابية.

2. يتم استخدام شريط القياس فقط في قياس وتحديد طول ضلع كل مربع على أن يراعى أن تكون زوايا المربع قائمة (90 درجة) بقدر الإمكان ، انظر الشكل 1-4.

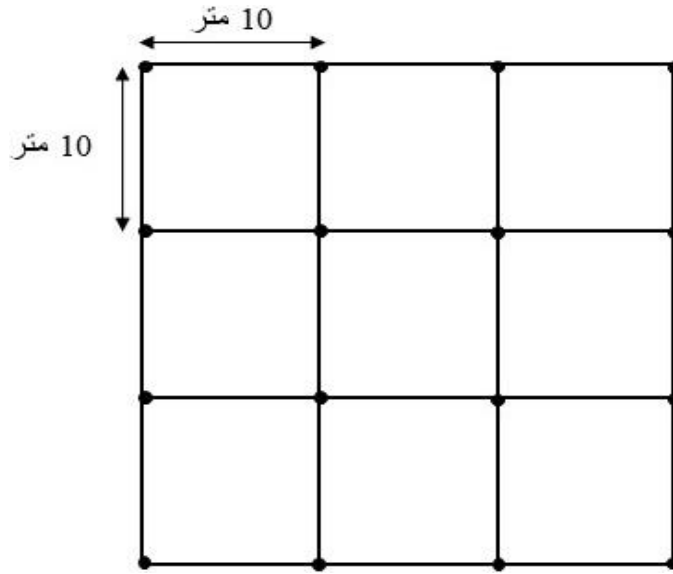
3. تُرسم او تُحدد شبكة المربعات على الأرض ويتم تحديد طول ضلع كل مربع في هذه الشبكة بناءً على عاملين: الدقة المطلوبة للميزانية ، التغيير في طبوغرافية الأرض. فإذا كان المطلوب دقة عالية فيجب تقليل طول الضلع ليكون في حدود 10 متر أو أقل وبالعكس إذا كانت الدقة المطلوبة غي عالية فيمكن أن يصل طول ضلع المربع ما بين 20-30 متر.

4. لحساب الإحداثيات الأفقية لرؤوس مربعات الشبكة: نفترض إحداثيات أول نقطة في الشبكة وغالبا ما تكون الركن الجنوبي الغربي من الشبكة ، نفترض مثلا أن هذه النقطة لها إحداثيات صفر شمالا ، صفر شرقاً.

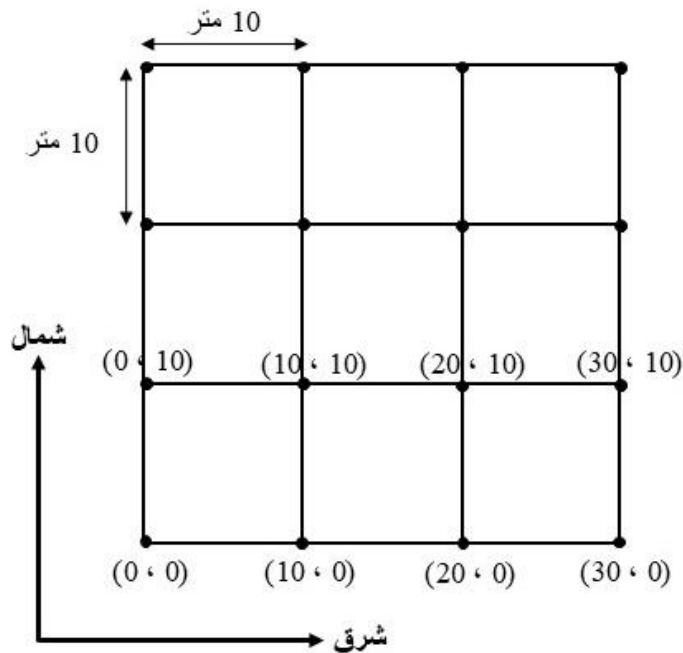
5. إذا تمت الحركة من النقطة المرجعية في اتجاه الشرق حتى الوصول الى رأس المربع التالي فإن إحداثيات هذه النقطة ستكون صفر شمالا و 10 شرقا. وهكذا إذا تم الاستمرار في التحرك شرقا فإن إحداثيات النقطة الثالثة ستكون صفر شمالا ، 20 شرقا. أما إذا تمت الحركة في اتجاه الشمال من النقطة المرجعية فإن أول نقطة من رؤوس المربعات ستكون إحداثياتها 10 شمالا ،

صفر شرقاً وستكون إحداثيات النقطة الثانية 20 شمالاً ، وصفر شرقاً ، كما موضح في الشكل 2-4.

6. بهذه الطريقة يمكن حساب الإحداثيات الأفقية لجميع رؤوس المربعات في الشبكة. ولا يتبقى إلا استخدام جهاز الميزان لقياس ارتفاعات رؤوس مربعات الشبكة ليكون لدينا الإحداثيات الثلاثية لجميع النقاط وبعدها يمكن البدء برسم هذه النقاط على الورق .



الشكل 1-4 يوضح كيفية تكوين شبكة المربعات

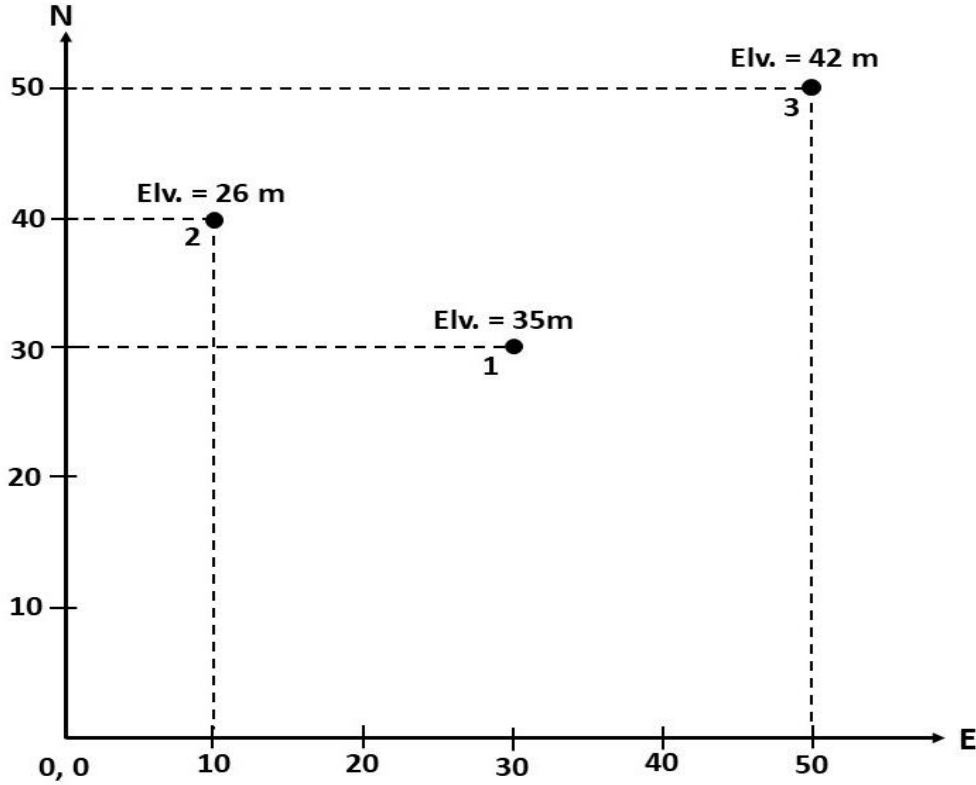


الشكل 2-4 يوضح كيفية تحديد الإحداثيات الأفقية لشبكة المربعات

ولرسم هذه النقاط على الورق ، يُمكن اتباع الخطوات التالية:

1. رسم خط أفقي يُمثّل محور السينات، وخط عمودي يُمثّل محور الصادات بحيث يتقاطع الخطان في الجزء الجنوبي الغربي اسفل الورقة لضمان ان جميع النقاط تكون إحداثياتها موجبة. ينتج عن تقاطع محور السينات مع محور الصادات نقطة الأصل.
2. تسمية محوري السينات والصادات بالمتغيّرات المراد دراستها، فمثلاً إذا كان المراد رسم نقاط بإحداثيات ثنائية الأبعاد يتمّ تسمية محور السينات (الذي يكون باتجاه الشرق) بالمحور (Easting) والذي يُرمز له عادة بالرمز (E) ومحور الصادات (الذي يكون باتجاه الشمال) بالمحور (Northing) والذي يُرمز له بالرمز (N). ومن الضروري اضافة وحدات القياس للإحداثيات مع تسمية المحور ، فمثلا لو كانت الإحداثيات مقاسة بالمتر فيصبح رمز محور السينات (E_m) ورمز محور الصادات (N_m).
3. تحديد مدى القيم المراد رسمها وذلك عن طريق تحديد أعلى قيمة وأقل قيمة على كلا المحورين السيني والصادي؛ فمثلاً عند رسم الإحداثيات فإنّه يتمّ تحديد نقطتي البداية والنهاية للإحداثيات باتجاه الشرق (E_m) على محور السينات، ونقطتي البداية والنهاية للإحداثيات باتجاه الشمال (N_m) على محور الصادات لمعرفة المساحة المطلوبة للرسم المراد تمثيله.
4. تحديد عدد الوحدات بين القيم المتتالية وذلك عن طريق تقسيم الأرقام على المحورين بحيث يكون الفرق بينها ثابتاً؛ كأن يكون وحدة واحدة، أو وحدتين، أو عشر وحدات، أو مئة وحدة، أو غير ذلك، وهذا يعتمد على مدى كبر أو صغر الأرقام المراد دراسة العلاقات بينها. فمثلاً لو كانت الإحداثيات بين النقاط مقاسة بالمتر ، فيمكن تحديد عدد الوحدات بين القيم المتتالية بالاعتماد على الفرق بين اعلى واقل قيمة فلو كان الفرق مثلاً 100 متر فيمكن في هذه الحالة ان يكون الفرق بين القيم المتتالية 10 او 20 متر وحسب متطلبات المسح الحقلية وكذلك اختلاف تضاريس المنطقة التي تم مسحها.
5. يتم تحديد مقياس الرسم المناسب من خلال قيم الإحداثيات الافقية والفروقات بينها.
6. تمثيل المسوحات الحقلية على الرسم فإذا كان المراد تمثيل العلاقة بين الإحداثيات السينية والصادية او (E) و (N) لمجموعة من النقاط فإنّه يتمّ تعيين قيمة الإحداثيات لكل نقطة على محور السينات والصادات وتقاطع هذه الإحداثيات سيشكل النقطة المطلوبة ، يمكن الاستمرار بهذا الاسلوب حتى تنتهي جميع النقاط.

7. عند الانتهاء من رسم جميع النقاط ، يتم كتابة قيمة المنسوب فوق كل نقطة من هذه النقاط ، كذلك من الممكن كتابة رقم النقطة او اسمها لتسهيل الوصول اليها. يُفضل اعطاء عنوان للرسم (يكون موقعه في اعلى الصفحة) ، فمن الممكن في هذه الحالة اعطاء العنوان التالي: رسم نقاط المناسيب (معلومة الإحداثيات والمناسيب) ، انظر الشكل (3-4).



الشكل (3-4) يوضح رسم احداثيات النقاط على الورق

تمرين 1-4 : المطلوب تمثيل النقاط في الجدول 1-4 بالرسم وكتابة منسوب كل نقطة عليها.

الجدول 1-4 الإحداثيات الافقية لمجموعة من النقاط مع مناسيبها.

رقم النقطة	E(m)	N(m)	Elv.(m)
1	1100	1500	32.4
2	1600	1200	30.1
3	1300	1700	31.7
4	1200	1100	33.2
5	1400	1400	32.5
6	1550	1250	34.8
7	1150	1350	36.4

الحل : يتم اتباع نفس الخطوات في الفقرة 1-4 لرسم وتأشير النقاط المطلوبة.

4 - 2 طرق رسم الخطوط الكنتورية (الحسابية والشبكية)

Drawing Contour Lines (Arithmetic and Grid)

تعتمد الطريقة الحسابية بشكل اساسي على النسبة والتناسب بين المناسيب والمسافات بين النقاط، حيث يمكن من خلال هذه الطريقة رسم الخطوط الكنتورية اذا كانت المناسيب والمسافات بين النقاط معلومة ، القانون التالي يُستخدم عادةً لإجراء الحسابات الخاصة بهذه الطريقة :

$$\frac{\text{المسافة الكلية}}{\text{المسافة الجزئية}} = \frac{\text{فرق المنسوب الكلي}}{\text{فرق المنسوب الجزئي}}$$

$$\text{المسافة الجزئية} = \frac{\text{المسافة الكلية}}{\text{فرق المنسوب الكلي}} \times \text{فرق المنسوب الجزئي} \quad (1-4) \dots\dots\dots$$

حيث أن:

المسافة الجزئية: هي المسافة بين الخط الكنتوري المطلوب رسمه والنقطة ذات المنسوب الاقل.

المسافة الكلية: هو البعد أو المسافة بين النقطتين معلومتي المنسوب.

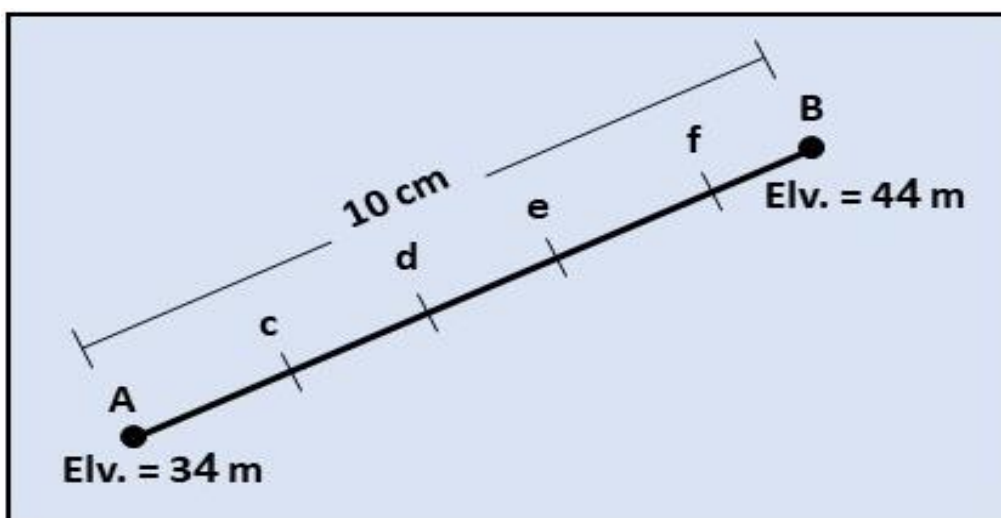
فرق المنسوب الكلي: هو الفرق بين منسوب النقطتين معلومتي المناسيب

فرق المنسوب الجزئي: هو فرق المنسوب بين الخط الكنتوري المطلوب والنقطة ذات المنسوب الاقل.

مثال 1-4: المطلوب رسم الخطوط الكنتورية التي تمر بين النقطتين A و B الموضحتين بالشكل

(4-4) وبفترة كنتورية مقدارها 2 m. اذا علمت ان المسافة الكلية (على الورقة) بين النقطتين A و B

تساوي 10 سم .



الشكل 4-4 يوضح النقطتين A و B وما بينهما من نقاط.

الحل :

1. يتم تحديد مناسيب خطوط الكنتور المطلوبة وحسب الفترة الكنتورية المطلوبة ومنسوب اوطأنقطة ، حيث ستكون المناسيب كالآتي:

$$\text{منسوب الخط الكنتوري الأول الذي يمر بالنقطة (c) = منسوب النقطة A + الفترة الكنتورية} = 34 + 2 = 36 \text{ م}$$

$$\text{منسوب الخط الكنتوري الثاني الذي يمر بالنقطة (d) = منسوب الخط الكنتوري الأول + الفترة الكنتورية} = 36 + 2 = 38 \text{ م}$$

$$\text{منسوب الخط الكنتوري الثالث الذي يمر بالنقطة (e) = منسوب الخط الكنتوري الثاني + الفترة الكنتورية} = 38 + 2 = 40 \text{ م}$$

$$\text{منسوب الخط الكنتوري الرابع الذي يمر بالنقطة (f) = منسوب الخط الكنتوري الثالث + الفترة الكنتورية} = 40 + 2 = 42 \text{ م}$$

2. يتم حساب المسافات الجزئية بين الخط الكنتوري المطلوب رسمه والنقطة ذات المنسوب الاوطأ وبتطبيق المعادلة الآتية:

$$\text{المسافة الجزئية} = \frac{\text{المسافة الكلية}}{\text{فرق المنسوب الكلي}} \times \text{فرق المنسوب الجزئي}$$

$$\text{المسافة الجزئية (Ac)} = \frac{10 \text{ سم}}{34-44} \times (36 - 34) = \frac{10 \text{ سم}}{10} \times 2 = 2 \text{ سم}$$

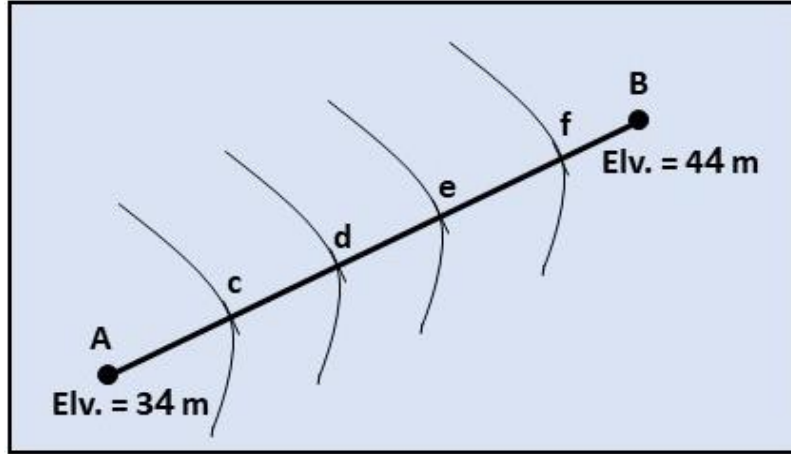
$$\text{المسافة الجزئية (Ad)} = \frac{10 \text{ سم}}{34-44} \times (38 - 34) = \frac{10 \text{ سم}}{10} \times 4 = 4 \text{ سم}$$

$$\text{المسافة الجزئية (Ae)} = \frac{10 \text{ سم}}{34-44} \times (40 - 34) = \frac{10 \text{ سم}}{10} \times 6 = 6 \text{ سم}$$

$$\text{المسافة الجزئية (Af)} = \frac{10 \text{ سم}}{34-44} \times (42 - 34) = \frac{10 \text{ سم}}{10} \times 8 = 8 \text{ سم}$$

3. بعد الانتهاء من حساب جميع المسافات الجزئية يتم رسمها على الورقة من خلال قياس هذه المسافة بالمسطرة من النقطة A ، فمثلاً لرسم النقطة c ، يتم قياس المسافة الجزئية Ac من النقطة A

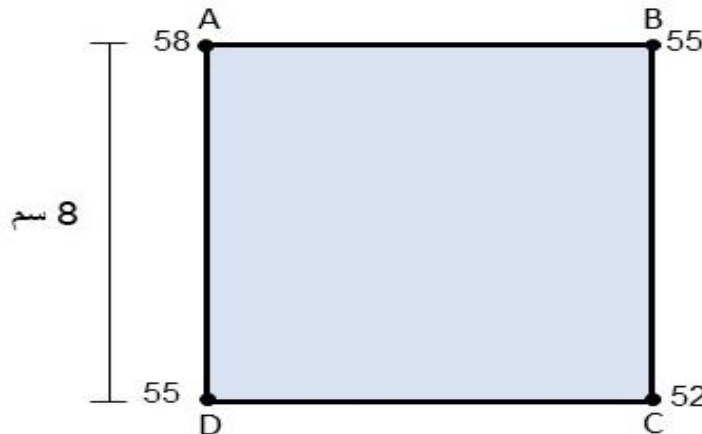
باستخدام المسطرة ومن ثم تأشير النقطة c على الخط AB. وبنفس الأسلوب يتم تأشير النقاط الأخرى (d, e, f) على الخط AB .
 4. بعد تحديد النقاط المطلوبة ، يتم رسم الخطوط الكنتورية التي تمر بهذه النقاط وحسب الفترة الكنتورية المطلوبة ، وكما موضح بالشكل 4-5.



الشكل 4-5 رسم الخطوط الكنتورية.

اما إذا كانت هناك منطقة معينة تم اجراء المسوحات الحقلية بطريقة المربعات (Grid) وتم قياس المناسب لرؤوس المربعات فقط ، ففي هذه الحالة يمكن رسم الخارطة الكنتورية لها باستخدام نفس الطريقة السابقة (الطريقة الحسابية) مع الاخذ بنظر الاعتبار أن عدد المسافات الجزئية التي سيتم حسابها سيكون اكثر.

مثال 4-2 : المخطط الموضح بالشكل 4-6 تم رفعه مساحياً وتم رصد المناسب لأركانه الأربعة وكما موضح بالشكل. المطلوب التعرف على خطوط الكنتور التي ستمر بين هذه النقاط ومن ثم رسم هذه الخطوط ، اذا علمت بأن الفترة الكنتورية 1 متر.



الشكل 4-6 المناسب لأركان شكل رباعي.

الحل :

1. يتم تحديد الخطوط الكنتورية التي ستمر بين النقاط الرئيسية للشكل الرباعي وحسب الفترة الكنتورية (1 متر) وكالاتي:

أ. الضلع AB : يبدأ من النقطة ذات المنسوب الأوطأ والتي هي النقطة B والذي منسوبها 55 ، وبما أن الفترة الكنتورية 1 متر لذلك سيمر الخط الكنتوري ذو المنسوب 56 وكذلك الخط الكنتوري ذو المنسوب 57 بالضلع AB.

ب. الضلع BC : يبدأ من النقطة ذات المنسوب الأوطأ والتي هي النقطة C والذي منسوبها 52 ، وبما أن الفترة الكنتورية 1 متر لذلك سيمر الخط الكنتوري ذو المنسوب 53 وكذلك الخط الكنتوري ذو المنسوب 54 بالضلع BC.

ج. الضلع CD : يبدأ من النقطة ذات المنسوب الأوطأ والتي هي النقطة C والذي منسوبها 52 ، وبما أن الفترة الكنتورية 1 متر لذلك سيمر الخط الكنتوري ذو المنسوب 53 وكذلك الخط الكنتوري ذو المنسوب 54 بالضلع CD.

د. الضلع DA : يبدأ من النقطة ذات المنسوب الأوطأ والتي هي النقطة D والذي منسوبها 55، وبما أن الفترة الكنتورية 1 متر لذلك سيمر الخط الكنتوري ذو المنسوب 56 وكذلك الخط الكنتوري ذو المنسوب 57 بالضلع CD.

2. حساب المسافات الجزئية بين الخط الكنتوري والنقطة ذات المنسوب الأوطأ وكالاتي:

أ. الضلع AB : سيمر بهذا الضلع خطي الكنتور 56 و 57 لذلك سيتم حساب مسافتين جزئية بتطبيق المعادلة (1-4) وكالاتي:

$$\text{المسافة الجزئية (Ba)} = 55 - 56 \times \frac{8 \text{ سم}}{55-58} = 1 \times \frac{8 \text{ سم}}{3} = 2.7 \text{ سم}$$

$$\text{المسافة الجزئية (Bb)} = 55 - 57 \times \frac{8 \text{ سم}}{55-58} = 2 \times \frac{8 \text{ سم}}{3} = 5.3 \text{ سم}$$

ب. الضلع BC : سيمر بهذا الضلع خطي الكنتور 53 و 54 لذلك سيتم حساب مسافتين جزئية بتطبيق المعادلة (1-4) وكالاتي:

$$\text{المسافة الجزئية (Cb)} = 52 - 53 \times \frac{8 \text{ سم}}{52-55} = 1 \times \frac{8 \text{ سم}}{3} = 2.7 \text{ سم}$$

$$\text{المسافة الجزئية (Cc)} = 52 - 54 \times \frac{8 \text{ سم}}{52-55} = 2 \times \frac{8 \text{ سم}}{3} = 5.3 \text{ سم}$$

ج. الضلع CD : سيمر بهذا الضلع خطي الكنتور 53 و 54 لذلك سيتم حساب مسافتين جزئية بتطبيق المعادلة (1-4) وكالاتي:

$$\text{المسافة الجزئية (Cd)} = 52 - 53 \times \frac{8 \text{ سم}}{52-55} = 1 \times \frac{8 \text{ سم}}{3} = 2.7 \text{ سم}$$

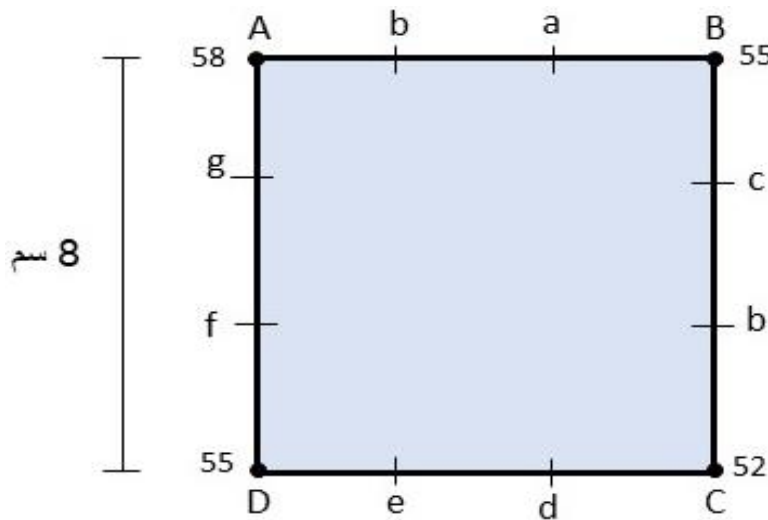
$$\text{المسافة الجزئية (Ce)} = 52 - 54 \times \frac{8 \text{ سم}}{52-55} = 2 \times \frac{8 \text{ سم}}{3} = 5.3 \text{ سم}$$

د. الضلع DA : سيمر بهذا الضلع خطي الكنتور 56 و 57 لذلك سيتم حساب مسافتين جزئية بتطبيق المعادلة (1-4) وكالاتي:

$$\text{المسافة الجزئية (Df)} = 55 - 56 \times \frac{8 \text{ سم}}{55-58} = 1 \times \frac{8 \text{ سم}}{3} = 2.7 \text{ سم}$$

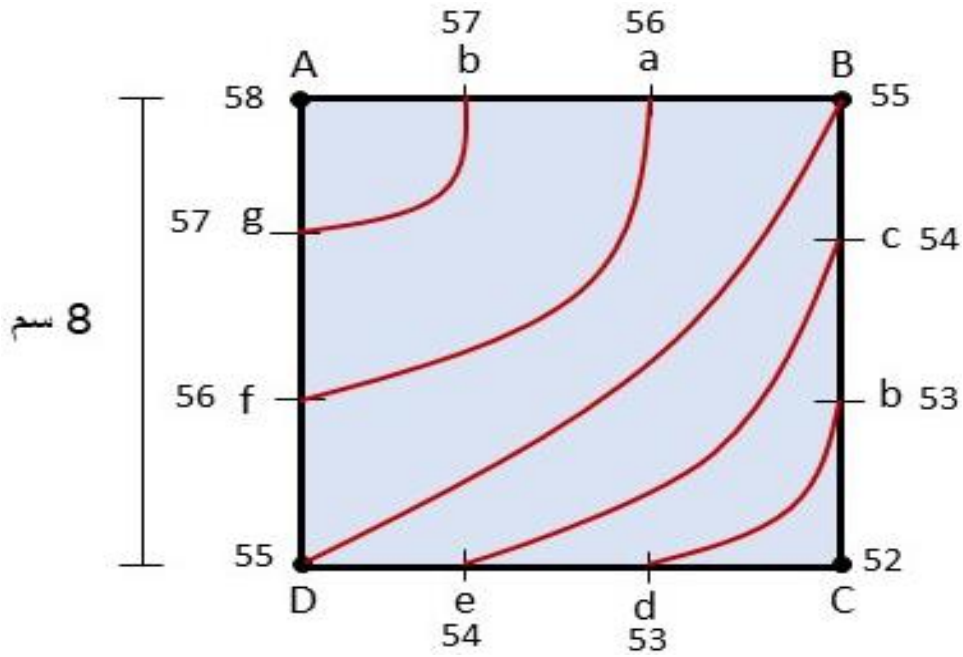
$$\text{المسافة الجزئية (Dg)} = 55 - 57 \times \frac{8 \text{ سم}}{55-58} = 2 \times \frac{8 \text{ سم}}{3} = 5.3 \text{ سم}$$

3. بعد حساب المسافات الجزئية لجميع النقاط التي ستمر بها الخطوط الكنتورية يتم قياسها بالمسطرة وتأشيرها على الرسم وكما موضح بالشكل 6-4.



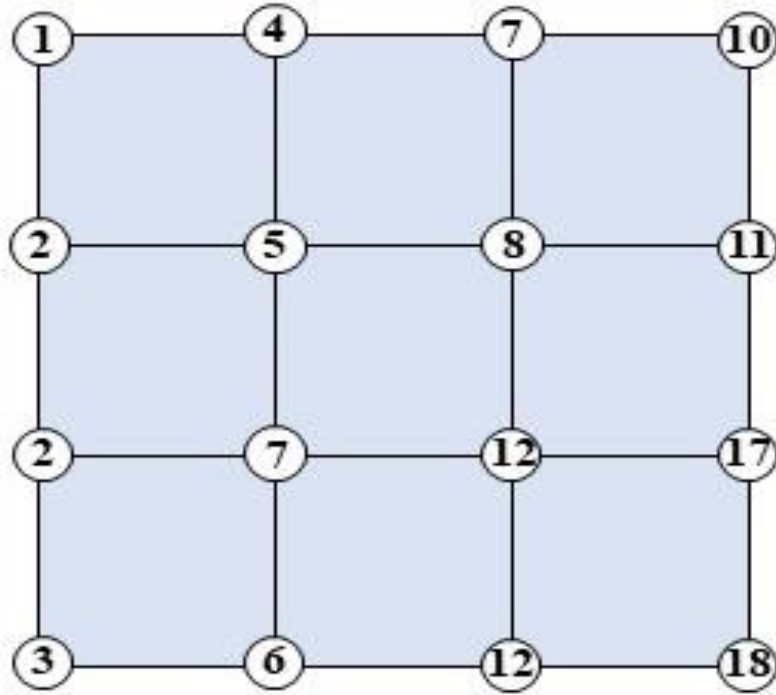
الشكل 6-4 تأشير المسافات الجزئية على الرسم.

4. بعد الانتهاء من حساب المسافات الجزئية وتوقيعها على الورقة يتم توصيل النقاط ذات المنسوب المتساوي فنحصل على الخارطة الكنتورية المطلوبة وكما موضح في الشكل 7-4.



الشكل 4-7 رسم الخطوط الكنتورية.

تمرين 4-2 : الشكل 4-8 يمثل قطعة أرض مقسمة لشبكة من المربعات أبعاد المربع الواحد 5×5 متر . المطلوب رسم الخطوط الكنتورية التي تمر بهذه القطعة بفترة كنتورية 3 متر ، اذا علمت ان مقياس الرسم المطلوب 1:100.



الشكل 4-8 قطعة أرض مقسمة الى مربعات مثبتة عليها مناسب أركان المربعات.

الحل: يمكن اتباع الخطوات التالية لحل هذا التمرين:

1. رسم قطعة الارض على ورق المربعات وبالاعتماد على أبعاد المربعات ومقياس الرسم المعطى في التمرين. فيكون طول ضلع المربع الواحد 5 سم كون المقياس 1:100 وهذا يعني إن كل واحد سم على الورقة يقابل 100 سم بالحقيقة. كذلك يتم كتابة المناسيب على جميع النقاط.
2. تدقيق الشكل والانتباه الى مناسيب النقاط المعطاة والفترة الكنتورية لمعرفة مناسيب خطوط الكنتور التي ستمر بالمربعات. بما ان الفترة الكنتورية المطلوبة 3 متر لذلك فان مناسيب خطوط الكنتور التي ستمر بالاشكال الرباعية ستكون 3 ، 6 ، 9 ، 12 ، 15.
3. تطبيق الطريقة الحسابية لحساب المسافات الجزئية لكل ضلع في الشكل الرباعي لمعرفة فيما اذا كان هناك خط كنتوري واحد أو اكثر يمر بهذا الضلع. فعلى سبيل المثال ممكن حساب المسافات الجزئية بين النقطتين ذات المناسيب 2 ، 7 كالآتي:

سيكون هنا خطي كنتور يمران بين هاتين النقطتين وهما 3 و 6

$$\text{المسافة الجزئية للنقطة ذات المنسوب 3} = 3 - 2 \times \frac{5}{7-2} =$$

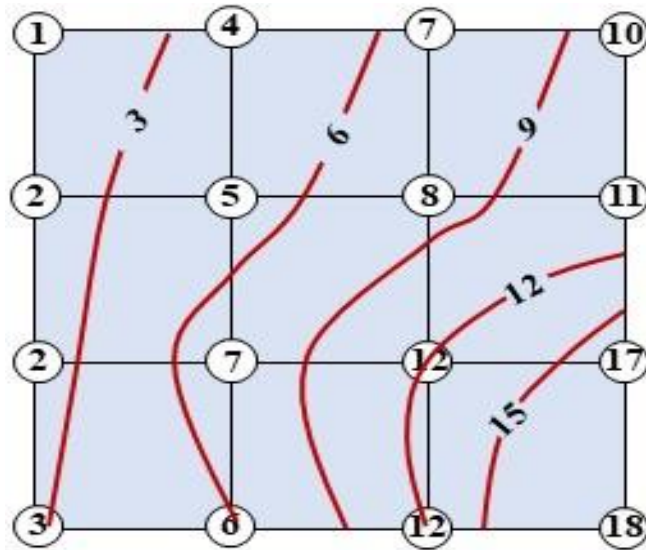
$$1 \text{ سم} = 1 \times \frac{5}{5} =$$

$$\text{المسافة الجزئية للنقطة ذات المنسوب 6} = 6 - 2 \times \frac{5}{7-2} =$$

$$4 \text{ سم} = 4 \times \frac{5}{5} =$$

وهكذا يتم حساب جميع المسافات الجزئية لجميع نقاط المناسيب على الأضلاع في الاشكال الرباعية ، حيث عندما يتم الانتهاء من حساب المسافات الجزئية لضلع معين يتم توقيعها على الرسم لحين الانتهاء من جميع الحسابات.

4. لرسم الخطوط الكنتورية المطلوبة يتم ايصال النقاط ذات المناسيب المتشابهة مع بعضها البعض للحصول على الخارطة الكنتورية النهائية ، وكما موضح في الشكل 4-9.



الشكل 4-9 خارطة الكنتورية المطلوبة في التمرين 4-2.

4-3 رسم الخطوط الكنتورية من نقاط معلومة المنسوب ومن الفترة الكنتورية

Drawing Contour Lines from Known Elevation Points & Interval

هذه الطريقة تعتمد بشكل اساس على مجموعة من النقاط العشوائية المنتشرة في منطقة معينة مطلوب رسم خارطة كنتورية لها ، حيث يتم اجراء المسوحات الحقلية لهذه النقاط ورصد الإحداثيات الافقية لها (E,N) فضلا عن منسوبها (Elev.). يُمكن اتباع الاسلوب التالي لرسم الخطوط الكنتورية بهذه الطريقة :

1. رسم النقاط على ورق المربعات وبمقياس رسم مناسب وحسب الإحداثيات الافقية لها. سيمثل المحور الافقي الإحداثيات باتجاه الشرق (E) وسيمثل المحور العمودي الإحداثيات باتجاه الشمال (N) .

2. تثبيت قيم المناسيب على النقاط التي تم رسمها.

3. تحديد قيم خطوط الكنتور المتوقع مرورها من هذه النقاط وذلك بالاعتماد على الفترة الكنتورية وقيمة اعلى واوطأ منسوب للنقاط المنتشرة في المنطقة المراد رسم الخارطة الكنتورية لها. مثلاً لو كانت الفترة الكنتورية المطلوبة 2 متر واعلى وأوطأ منسوب للنقاط كان 44.13 و 31.54 على التوالي ، فستكون المناسيب المتوقعة للخطوط الكنتورية: 32 ، 34 ، 36 ، 38 ، 40 ، 42 ، 44 .

4. يتم توصيل النقاط ذات المناسيب المتشابهة مع بعضها للحصول على الخطوط الكنتورية المطلوبة مع مراعاة خصائص الخطوط الكنتورية.

5. يتم رفع مناسيب النقاط من الرسم وتثبيت المناسيب على كل خط كنتوري وكما متبع في رسم الخرائط الكنتورية.

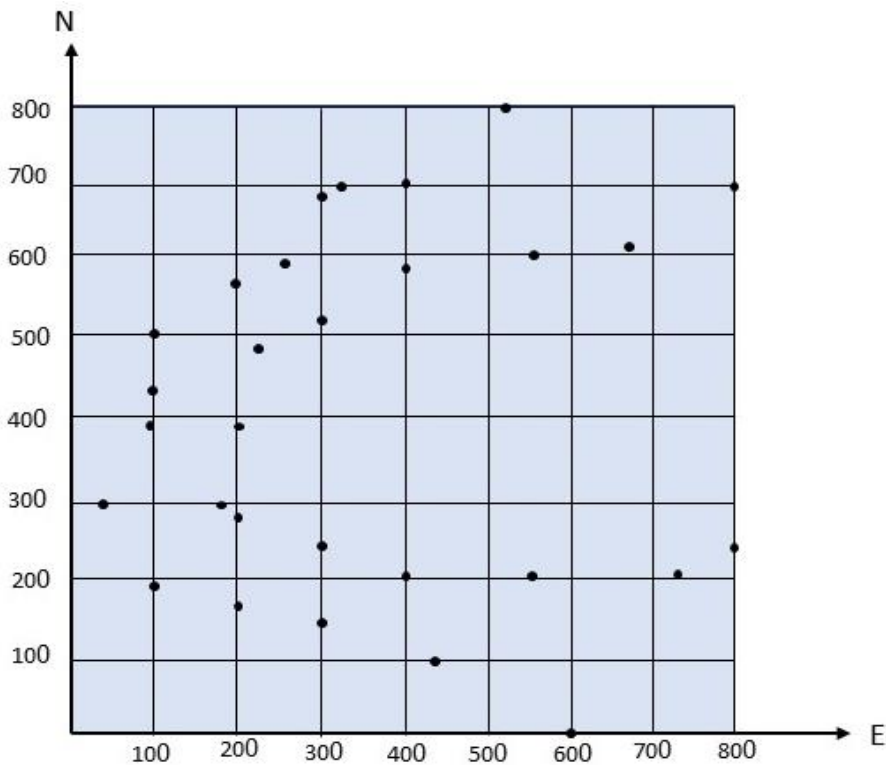
تمرين 3-4 : الجدول 2-4 يمثل المسوحات الحقلية لمجموعة من النقاط في منطقة معينة ، المطلوب رسم خارطة كنتورية لهذه المنطقة وبقترة كنتورية مقدارها 1 متر.

الجدول 2-4 يمثل المسوحات الحقلية لمجموعة من النقاط.

E(m)	N(m)	Elv.(m)	E(m)	N(m)	Elv.(m)
420	100	50	800	240	51
300	140	50	720	200	51
200	170	50	550	200	51
100	190	50	400	200	51
30	300	50	300	230	51
98	395	50	200	280	51
100	430	50	190	300	51
100	500	50	200	390	51
200	570	50	220	490	51
260	600	50	300	520	51
300	690	50	400	590	51
320	700	50	560	600	51
400	700	50	670	610	51
510	800	50	800	700	51

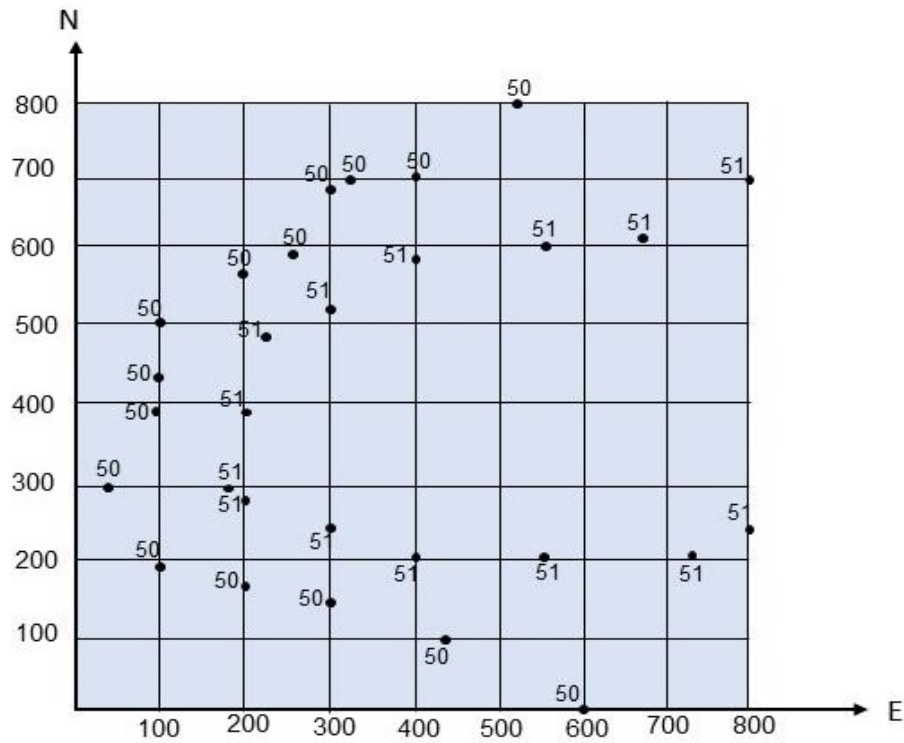
الحل:

1. يتم رسم النقاط اعلاه وبمقياس رسم مناسب ، وفي هذه الحالة يمكن اختيار المقياس 1:10000 ، اي كل 1 سم على الورقة يقابل 10000 سم أو 100 متر بالحقيقة ، وكما موضح بالشكل 4-10.



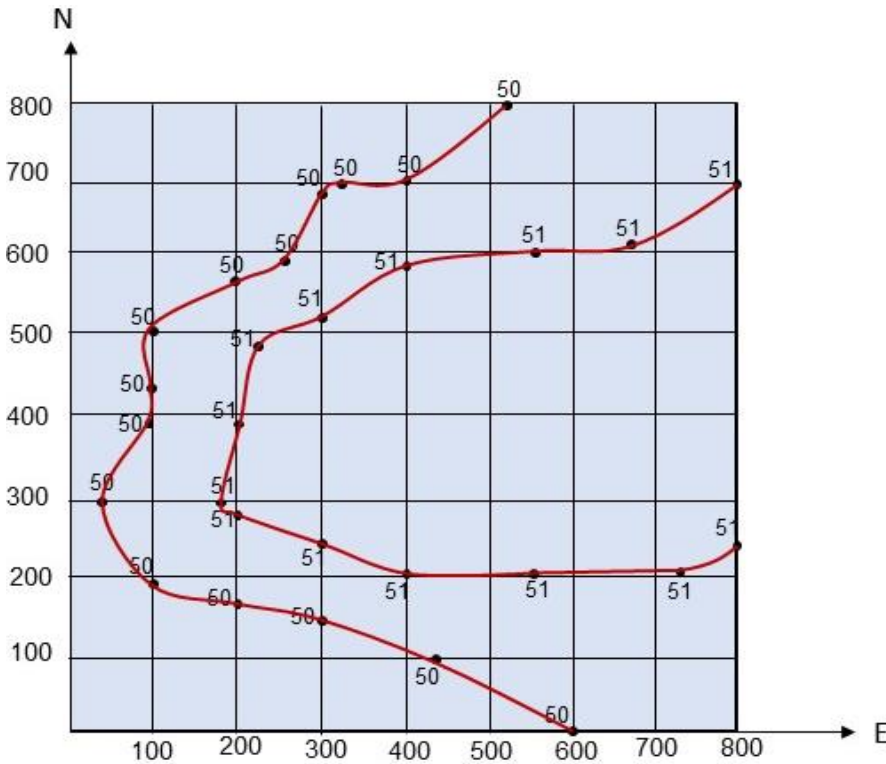
الشكل 4-10 رسم النقاط بمقياس على الورق.

2. كتابة مناسب النقاط على الرسم لتصبح كما موضح بالشكل 4-11.



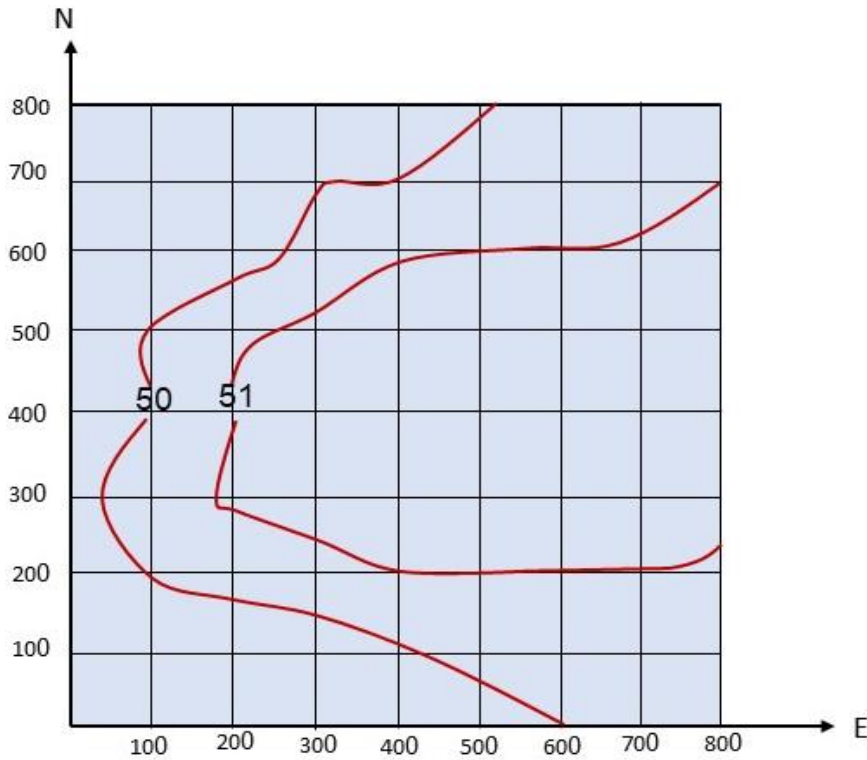
الشكل 4-11 تمثيل مناسب النقاط على الرسم.

3. توصيل النقاط ذات المناسيب المتشابهة بالخطوط الكنتورية وكما بالشكل 4-12.



الشكل 4-12 الخطوط الكنتورية

4. رفع قيم المناسيب ورمز النقاط من الرسم وكتابة قيمة المنسوب على كل خط كنتوري ، كما موضح بالشكل 4-13.



الشكل 4-13 الخارطة الكنتورية المطلوبة.

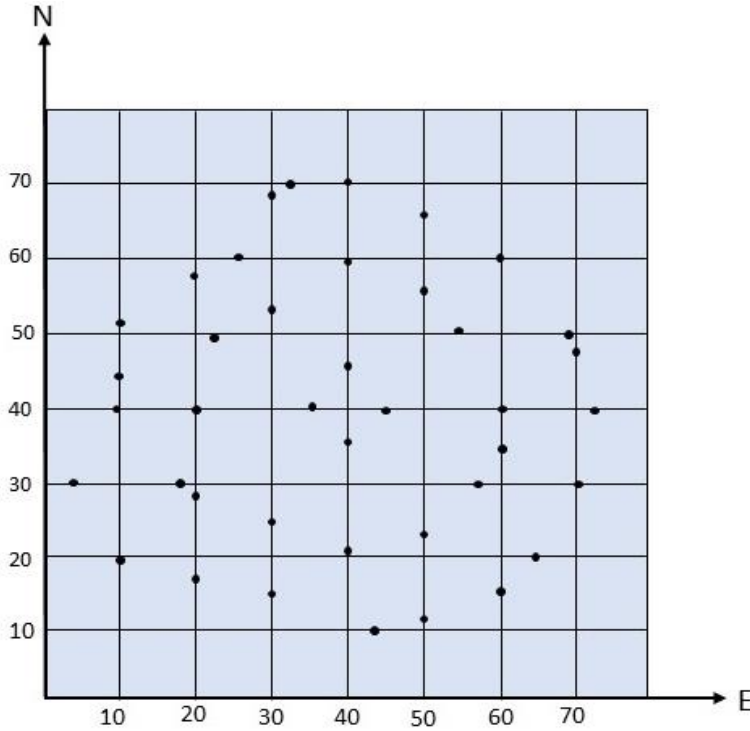
تمرين 4-4: الجدول 3-4 يمثل المسوحات الحقلية لمجموعة من النقاط في منطقة معينة ، المطلوب رسم خارطة كنتورية لهذه المنطقة وبفترة كنتورية مقدارها 5 متر.

الجدول 3-4 يمثل المسوحات الحقلية لمجموعة من النقاط.

E(m)	N(m)	Elv(m)	E(m)	N(m)	Elv(m)	E(m)	N(m)	Elv(m)	E(m)	N(m)	Elv(m)
10	20	100	60	60	100	57	30	105	30	25	105
20	17	100	50	67	100	60	35	105	41	22	105
30	15	100	40	70	100	60	40	105	50	23	105
43	10	100	32	70	100	55	50	105	40	35	110
50	12	100	30	68	100	50	55	105	47	40	110
50	15	100	25	60	100	40	60	105	40	46	110
65	20	100	20	58	100	30	53	105	35	40	110
70	30	100	10	52	100	22	50	105			
72	40	100	10	43	100	20	40	105			
70	48	100	9	40	100	18	30	105			
68	50	100	3	30	100	20	28	105			

الحل:

1. رسم النقاط على ورق المربعات بمقياس رسم مناسب ، حيث يمكن اعتماد المقياس 1:1000 في هذا التمرين وهذا يعني ان كل 1 سم على الرسم يقابل 1000 سم أو 10 متر بالحقيقة ، انظر الشكل 4-14.



الشكل 4-4 رسم النقاط على ورق المربعات.

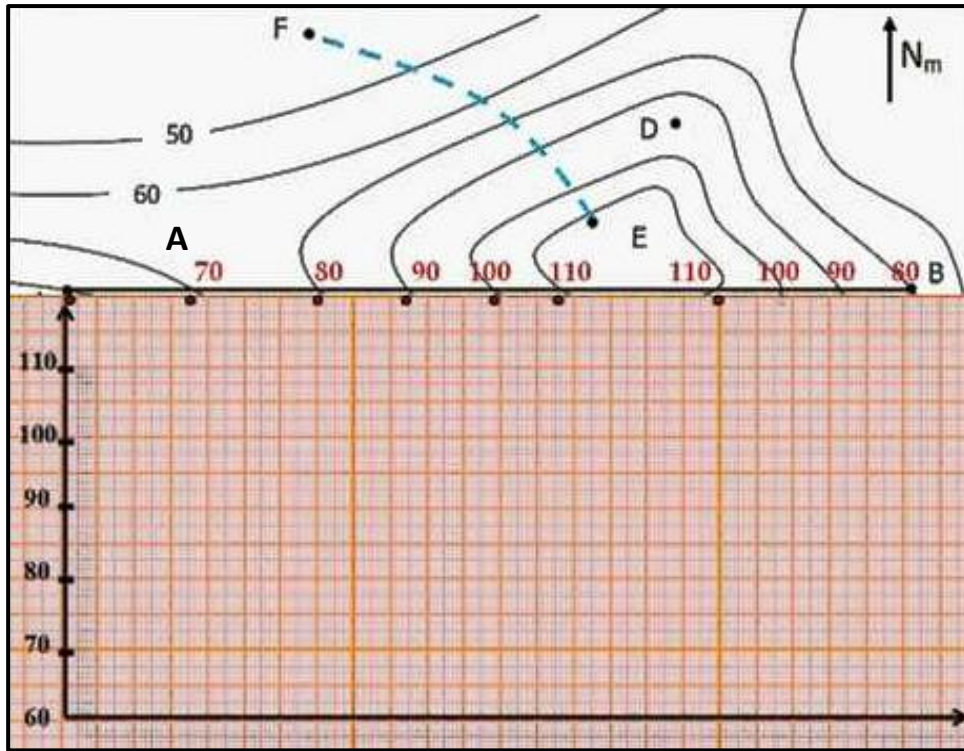
2. لاكمال رسم الخارطة الكنتورية المطلوبة يتم اتباع نفس الخطوات في التمرين 4-3.

4-4 رسم مقطع طولي من خارطة كنتورية

Drawing Profile from Contour Map

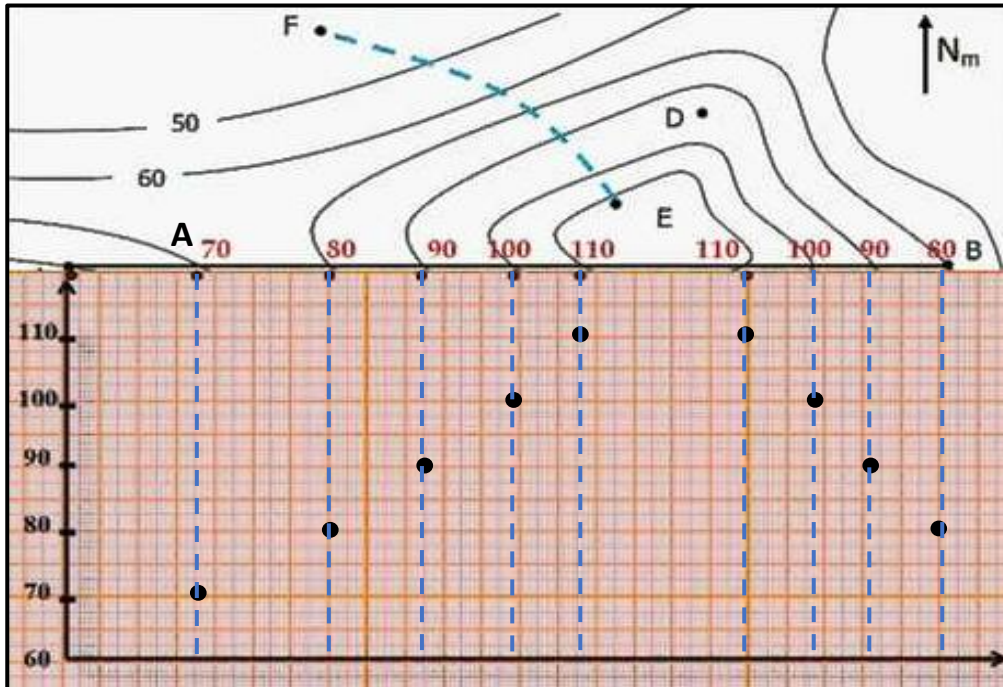
يمكن رسم المقاطع الطولية من الخرائط الكنتورية باتجاهات واطوال مختلفة لاستخدامها في تطبيقات مختلفة مثلاً لمعرفة الطبيعة الطبوغرافية للأرض أو التطبيقات الهندسية مثل أعمال الطرق والسكك والمبازل وغيرها من التطبيقات العملية المختلفة. يمكن اتباع الخطوات التالية لرسم المقاطع الطولية من الخرائط الكنتورية:

1. تعيين نقطتين (بداية ونهاية خط المقطع الطولي) على الخارطة الكنتورية لتحديد عدد ومناسيب الخطوط الكنتورية التي سيتم تحويلها إلى مقطع طولي.
2. تهيئة ورق مربعات أو ورق عادي ورسم محورين متعامدين أسفل الورقة ، حيث يمثل المحور الأفقي المسافة الأفقية الفاصلة بين نقاط المقطع الطولي ، بينما يمثل المحور العمودي فرق المناسيب لخطوط الكنتور المحصورة بين تقطبي المقطع الطولي. يتم رسم المحورين بمقياس رسم مناسب.
3. يتم وضع الحافة العلوية لورقة الرسم على خط المقطع الموشر على الخارطة الكنتورية بحيث تنطبق الورقة عليه تماماً ويتم تأشير نقاط تقاطع خط المقطع والخطوط الكنتورية، كما بالشكل 4-15.



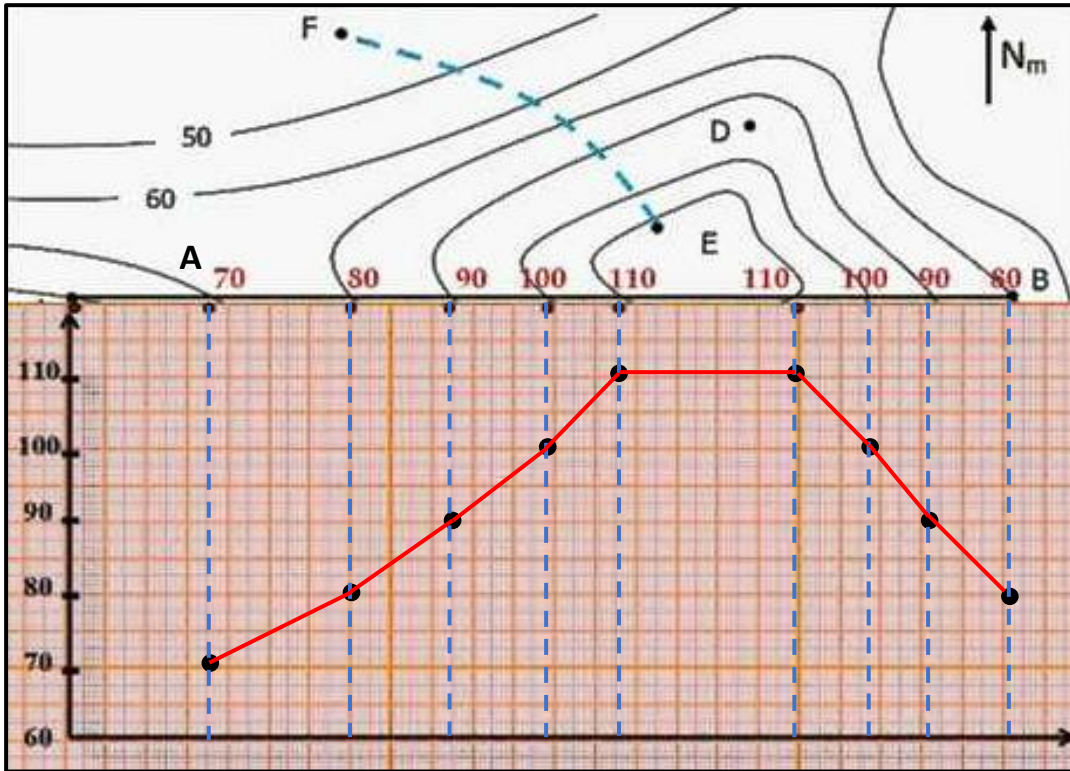
الشكل 4-15 يوضح كيفية وضع حافة الورقة على خط المقطع.

4. نسقط خطوطاً رأسياً من نقاط التقاطع باتجاه المحور الأفقي ، ومن ثم يتم تعيين نقاط على الخطوط الرأسية تمثل منسوب كل خط كنتوري ، حيث يتم الاستعانة بالقيم الممثلة على الخارطة الكنتورية وكما موضح بالشكل 4-16.



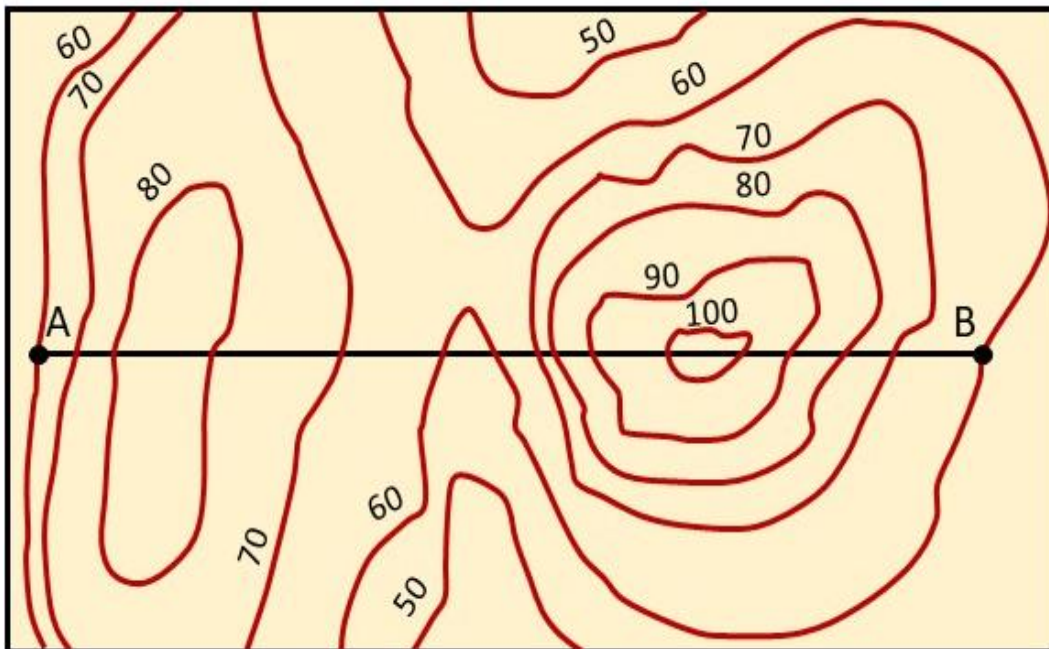
الشكل 4-16 تعيين نقاط تقاطع الخطوط الرأسية مع منسوب كل خط كنتوري.

5. توصيل النقاط التي تم تعيينها على الخطوط الرأسية بعضها ببعض بخطوط مستقيمة (أو متكسرة) فيتم الحصول على المقطع الطولي المطلوب ، انظر الشكل 17-4.



الشكل 17-4 يوضح توصيل النقاط والحصول على المقطع الطولي.

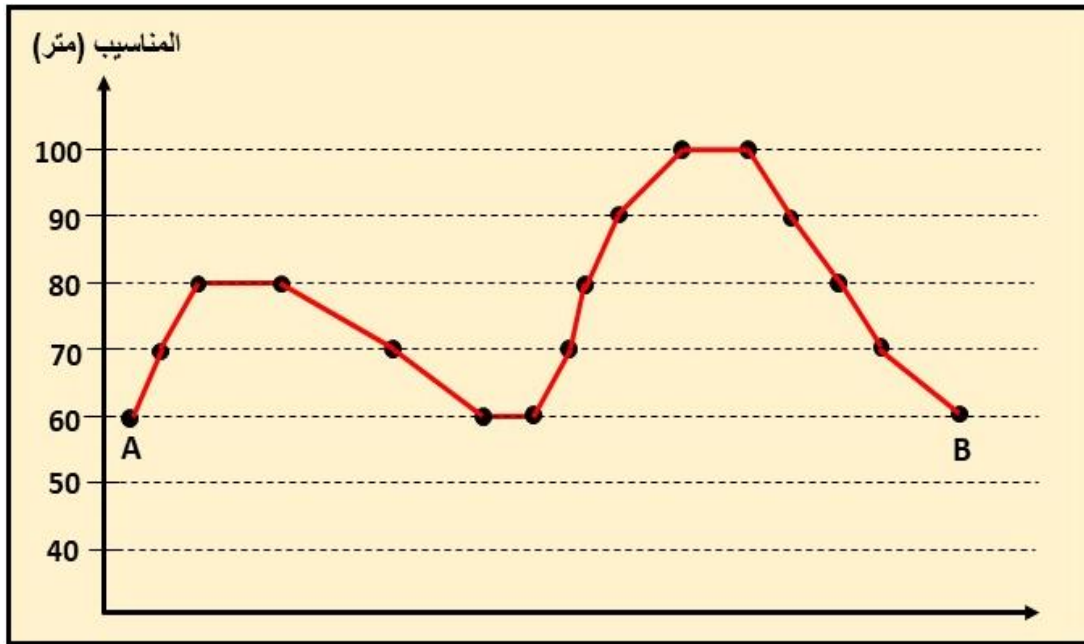
تمرين 5-4: ارسم المقطع الطولي على طول الخط (AB) من الخارطة الكنتورية المبينة بالشكل 18-4.



الشكل 18-4 خارطة كنتورية محدد عليها الخط AB المطلوب رسم المقطع الطولي لها.

الحل:

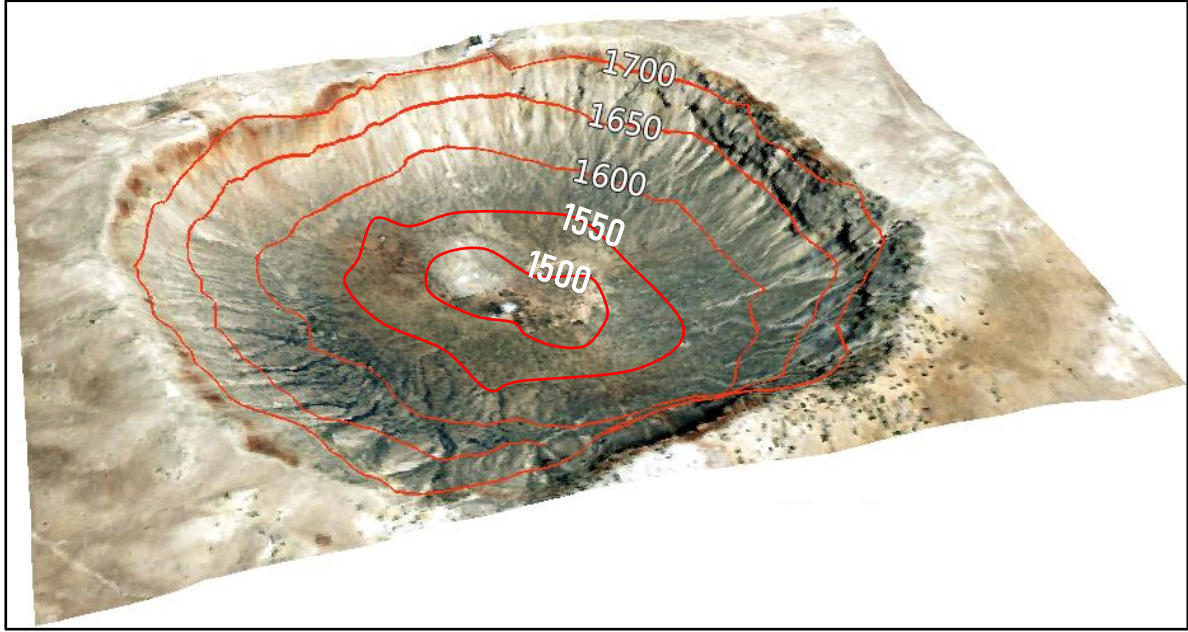
1. رسم محورين متعامدين على ورقة مربعات أو ورقة عادية ، حيث يمثل المحور العمودي مناسب خطوط الكنتور الموضحة في الشكل اعلاه.
2. يتم اتباع نفس الخطوات في الفقرة 4-4 لرسم المقطع الطولي المطلوب والموضح بالشكل 4-19.



الشكل 4-19 المقطع الطولي المطلوب في التمرين 4-5.

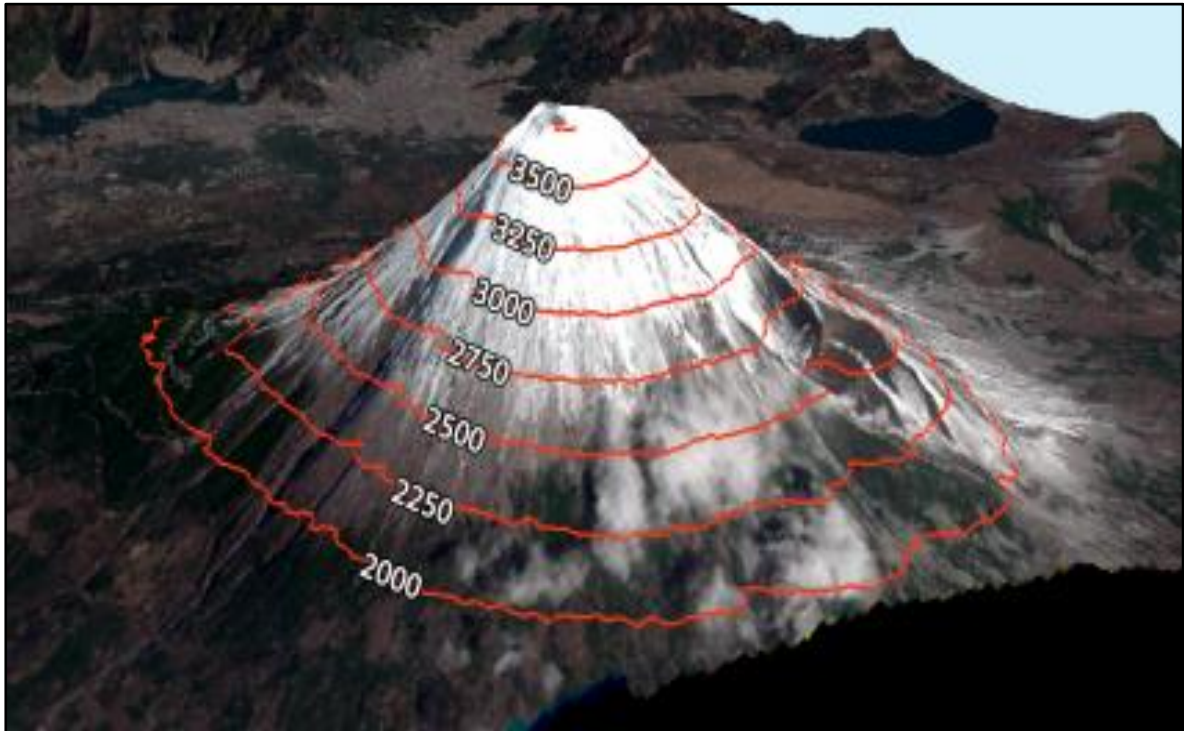
4-5 تمثيل التضاريس على الخارطة الكنتورية**Representing Terrain in a Contour Map**

تتنوع أساليب تمثيل التضاريس المختلفة على سطح الأرض ببيان الانحدارات الممثلة على الخرائط الكنتورية ، وذلك بعدة طرق ، منها التظليل ، التدرج اللوني ، وخطوط الكنتور وغيرها. تُعد خطوط الكنتور أفضل وسيلة لتمثيل سطح الأرض ، لأنها تجسم التضاريس الأرضية وتبرزها وتجعل تصور شكلها أمراً سهلاً. ان تمثيل التضاريس الأرضية بهذه الطريقة له فوائد كثيرة مثل التعرف على نوع التضاريس على الخرائط الكنتورية من دون الحاجة الى رسم المقاطع لها. سيكون هناك اختلاف بشكل الخطوط الكنتورية وقيمة المناسب لها باختلاف الظاهرة التضاريسية ، فمثلا الشكل 4-20 يوضح منخفض معين تتراوح قيم الخطوط الكنتورية الممثلة له ما بين 1500 الى 1700 متر، حيث تتناقص قيم هذه الخطوط من الحافة العليا للمنخفض الى قعره بفترة كنتورية مقدارها 50 متر.



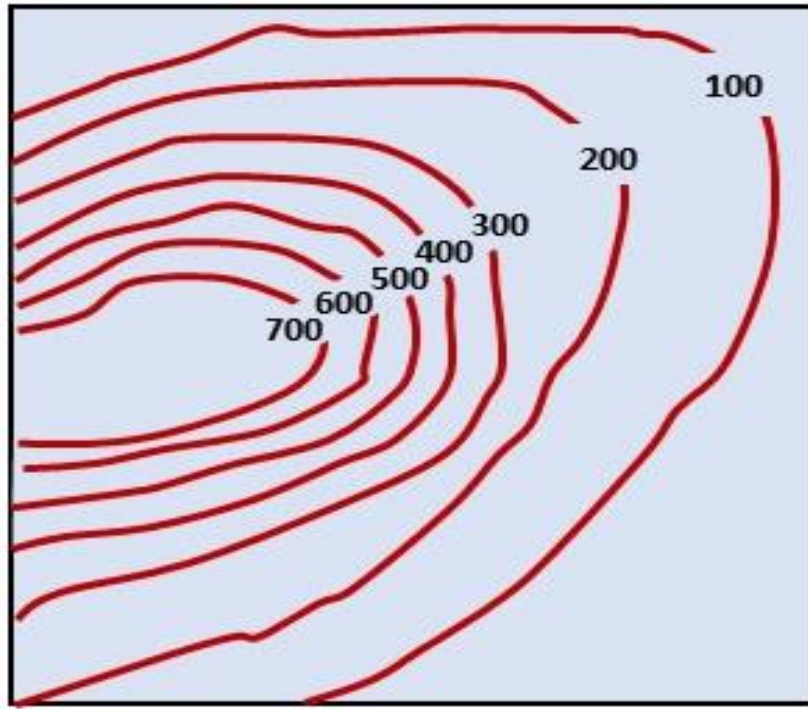
الشكل 4-20 منخفض بمناسيب مختلفة وبفترة كنتورية 50 متر.

بينما يمثل الشكل 4-21 مرتفع عبارة عن تل أو جبل تتراوح قيم الخطوط الكنتورية له ما بين 2000 الى 3500 متر ، حيث تتزايد قيم الخطوط الكنتورية له من قاعدة المرتفع الى قمته بفترة كنتورية مقدارها 250 متر.



الشكل 4-21 مرتفع بمناسيب مختلفة وبفترة كنتورية 250 متر.

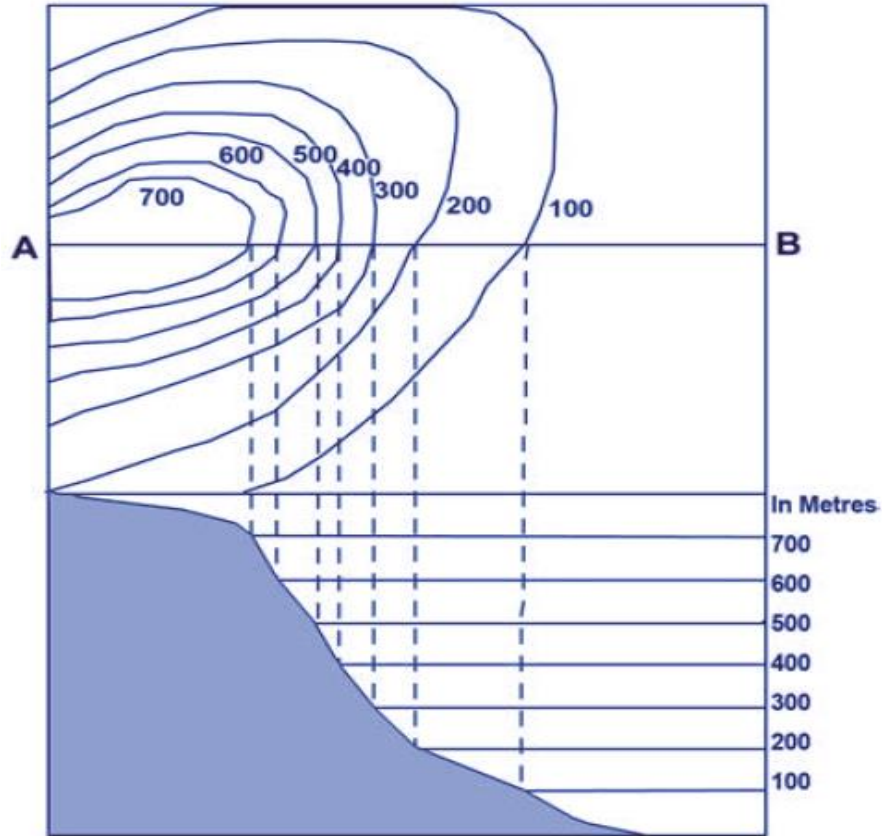
مثال 3-4 : المطلوب رسم التضاريس الأرضية للخارطة الكنتورية في الشكل 4-22 والتي مناسيها تتراوح ما بين 100 الى 700 متر وبفترة كنتورية 100 متر.



الشكل 4-22 خارطة كنتورية.

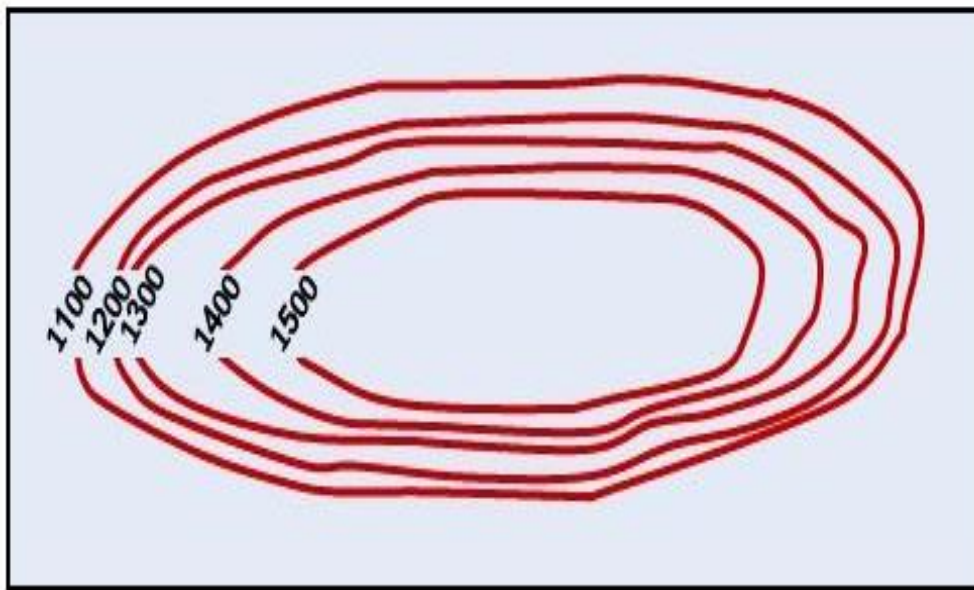
الحل:

1. رسم خط أفقي يتوسط الخارطة الكنتورية قدر الامكان وليكن AB.
2. اسفل الخارطة الكنتورية وبشكل محاذي للجانب الأيسر لها ، يتم تقسيم المحور العمودي للورقة الى اجزاء بمقياس معين تمثل مناسيب الخطوط الكنتورية.
3. إنزال خطوط عمودية من نقاط تقاطع الخط الأفقي AB مع الخطوط الكنتورية باتجاه أسفل الورقة.
4. رسم خطوط أفقية متوازية من المحور العمودي للورقة والذي تم تقسيمه الى اجزاء تمثل مناسيب الخطوط الكنتورية.
5. تحديد نقاط تقاطع الخطوط العمودية مع الخطوط الأفقية.
6. توصيل نقاط التقاطع بخطوط مستقيمة (متكسرة) للحصول على الشكل التضاريسي المطلوب ، وكما موضح في الشكل 4-23.



الشكل 4-23 رسم الشكل التضاريسي من الخارطة الكنتورية.

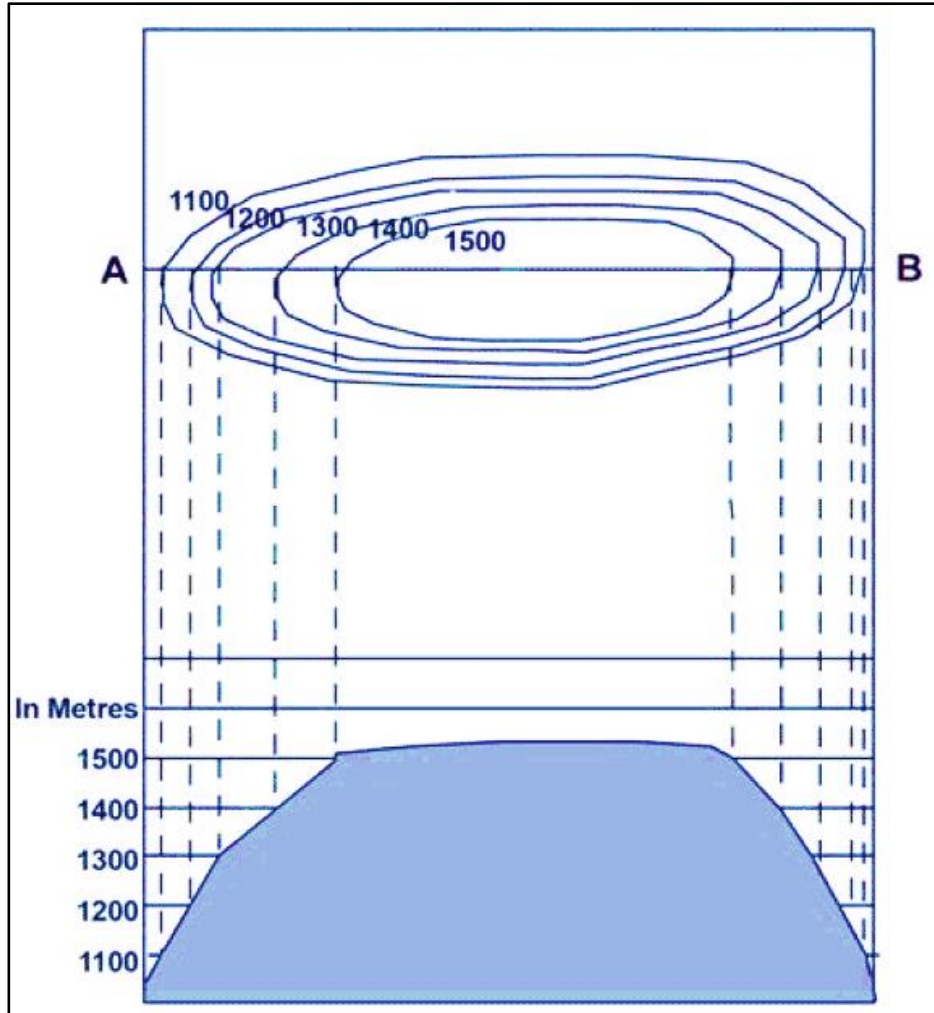
تمرين 4-6 : المطلوب رسم الشكل التضاريسي للخارطة الكنتورية الموضحة في الشكل 4-24 والتي مناسبتها تتراوح ما بين 1100 الى 1500 متر وبفترة كنتورية مقدارها 100 متر.



الشكل 4-24 خارطة كنتورية بمناسيب مختلفة.

الحل:

يتم اتباع نفس الخطوات في المثال 3-4 للحصول على الشكل التضاريسي المطلوب ، وكما في الشكل 25-4.



الشكل 25-4 الشكل التضاريسي المطلوب للتمرين 4-6.

الفصل الخامس

الرسم بالحاسوب

Computer Aided Drawing

اهداف الفصل :

1. أن يتعلم ويفهم الطالب أهمية الرسم المعان بالحاسوب ويتعرف على تنصيب وتهيئة برنامج **AutoCAD** .
2. أن يتعرف الطالب على كيفية استخدام وتوظيف أوامر برنامج **AutoCAD** في الرسم .
3. أن يتعرف الطالب على كيفية رسم حدود قطعة أرض ، ورسم مخطط دار سكنية والمعالم الرئيسية فيهما عن طريق الرسم المعان بالحاسوب باستخدام برنامج الرسم **AutoCAD** .
4. أن يتعرف الطالب على كيفية رسم نموذج خارطة كادسترائية بسيطة باستخدام برنامج الرسم **AutoCAD** .
5. أن يتعرف الطالب على كيفية رسم نموذج خارطة كنتورية بسيطة ورسم مقاطع طولية بسيطة باستخدام أدوات وأوامر برنامج الرسم **AutoCAD** .
6. أن يستشعر الطالب أهمية التعلم وفهم وتطبيق برنامج الرسم المعان بالحاسوب واستخدام برنامج الرسم **AutoCAD** لتسهيل تنفيذ المرتسمات بدقة متناهية والاستثمار الأمثل للوقت عند رسم الرموز والمخططات ورسم الخارطة الكادسترائية والكنتورية ورسم المقاطع الطولية ليتمكن من الاستفادة المثلى في تحسين أداء المؤسسات والشركات المعنية .

الفصل الخامس

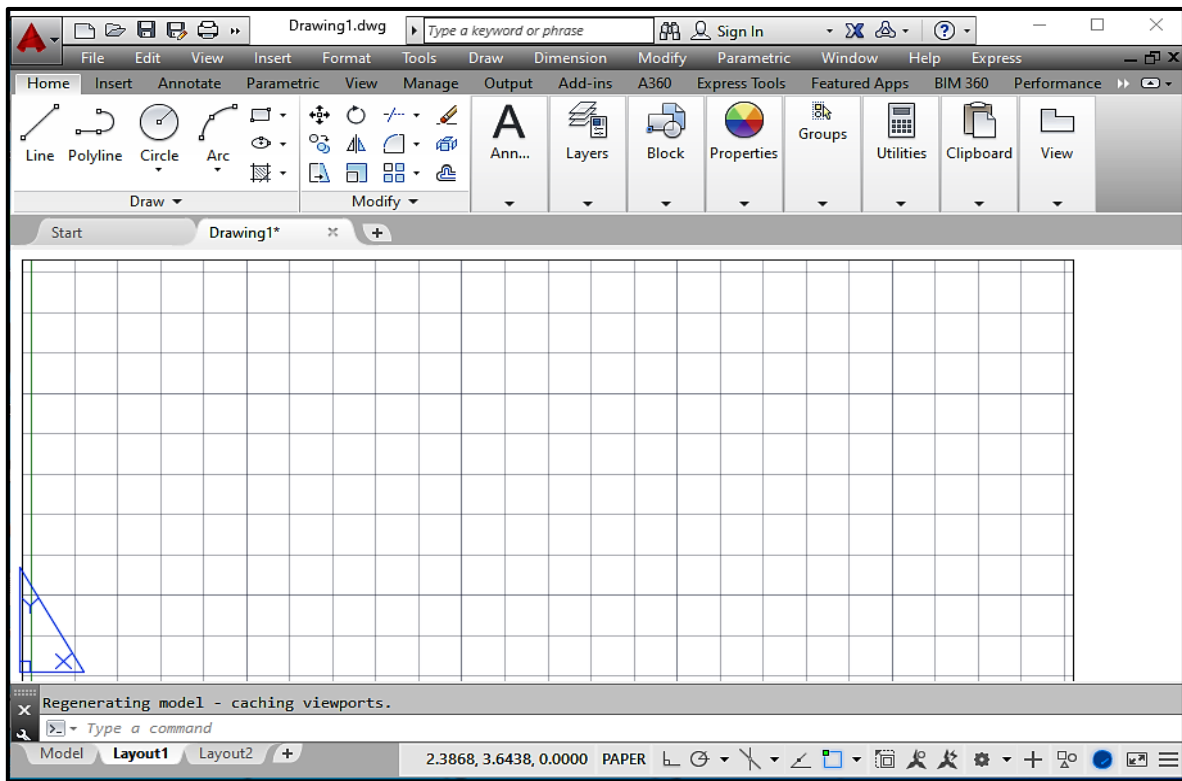
الرسم بالحاسوب

Computer Aided Drawing

AutoCAD Drawing Program

1-5 برنامج الرسم أوتوكاد

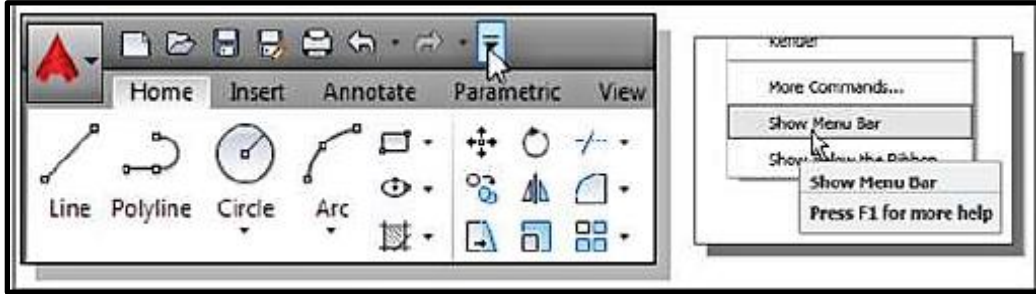
بعد ان تعلمنا على تنصيب وتهيئة برنامج أوتوكاد النسخ الحديثة التي اجري عليها بعض الإضافات والميزات ومنها نسخة أوتوكاد 2016 (في المرحلة الثانية) وما يتطلبه البرنامج من مواصفات لجهاز الحاسوب الذي يعمل عليه , نقوم الآن بفتح البرنامج من الايقونة الخاصة به التي سوف تظهر بمجرد الانتهاء من تحميل البرنامج وكما موضح في الشكل (1-5) .



الشكل (1-5) : الواجهة الرئيسية لبرنامج AutoCAD

في برنامج AutoCAD يتم تعيين الملفات الخاصة بالرسم تلقائيا فعندما يتم فتح البرنامج والعمل عليه يتم تسمية وحفظ الملف تلقائيا مثلا Drawing 1 فمن الممكن تغيير اسم ومكان الملف وخرنه في جهاز الحاسوب.

من الأمور التي يوفرها هذا الإصدار من البرنامج هي شريط الوصول السريع (Quick Access Bar) فبعد أن يتم الضغط عن طريق القائمة المنسدلة اختيار شريط القوائم (Show Menu Bar) والذي من خلاله يمكن الوصول الى جميع أوامر وأدوات AutoCAD ، لاحظ الشكل (2-5) .



الشكل (2-5) شريط الوصول السريع (Quick Access Bar)

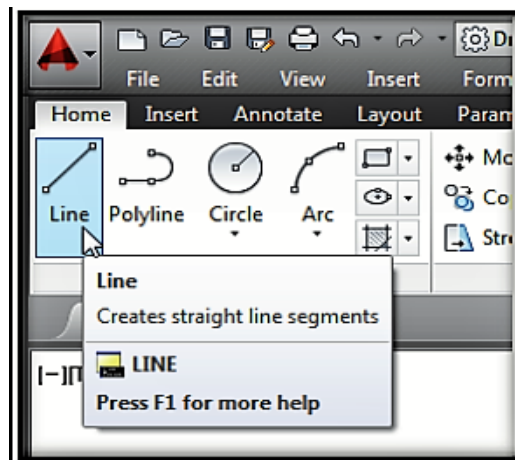
2-5 الأدوات والأوامر شائعة الاستخدام في برنامج الأوتوكاد

Commonly used tools and commands in AutoCAD

لقد تعلمنا في الصف الثاني العديد من الأدوات والأوامر التي تساعدنا في عملية الرسم للعناصر والأشكال في برنامج الأوتوكاد وسنأخذ في هذا الفصل أوامر الرسم والتعديل الأخرى ومنها :

(1) أمر رسم الخط Line :

يمكن رسم الخطوط في برنامج الأوتوكاد عند طريق شريط الأوامر Draw toolbar نختار Line ثم نكتب في شريط الأوامر command حرف L ثم نضغط على مفتاح ال Enter كما موضح في الشكل (3-5) بعد ذلك نقوم بتحديد نقطة البداية على الشاشة ومن ثم نقوم بتحديد اتجاه الخط بالماوس ونحدد طول الخط ثم نضغط على مفتاح Enter .



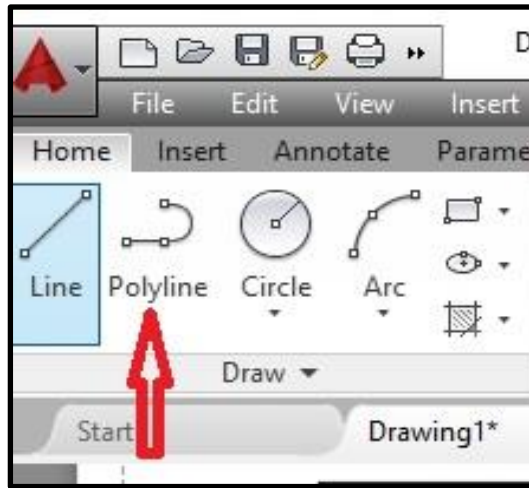
الشكل (3-5) : اختيار أمر رسم الخط Line

ملاحظة:

من الممكن تفعيل رسم الخطوط العمودية والأفقية من خلال Ortho من شريط الحالة Statue bar أو من خلال الضغط على F8 في الكيبورد ، أما في حالة رسم الخطوط المائلة فيمكن استخدام الرمز @ وذلك بالضغط على shift + 2 ثم نحدد طول الخط ونحدد قيمة الزاوية + shift في شريط الأوامر command سواء كانت قيمة الزاوية بالموجب أو السالب ثم الضغط على مفتاح Enter .

(2) الأمر Polyline

يمكن من خلال هذا الامر رسم عدة خطوط أو عناصر مرتبطة مع بعضها وذلك من خلال الضغط على قائمة Draw ثم نختار Polyline كما موضح بالشكل (4-5) :



الشكل (4-5) اختيار أمر الرسم Polyline

ثم نقوم بالضغط بزر الماوس الأيسر ثم نكتب في شريط الأوامر Command حيث ستظهر العبارة الآتية :
PLINE Specify start point :

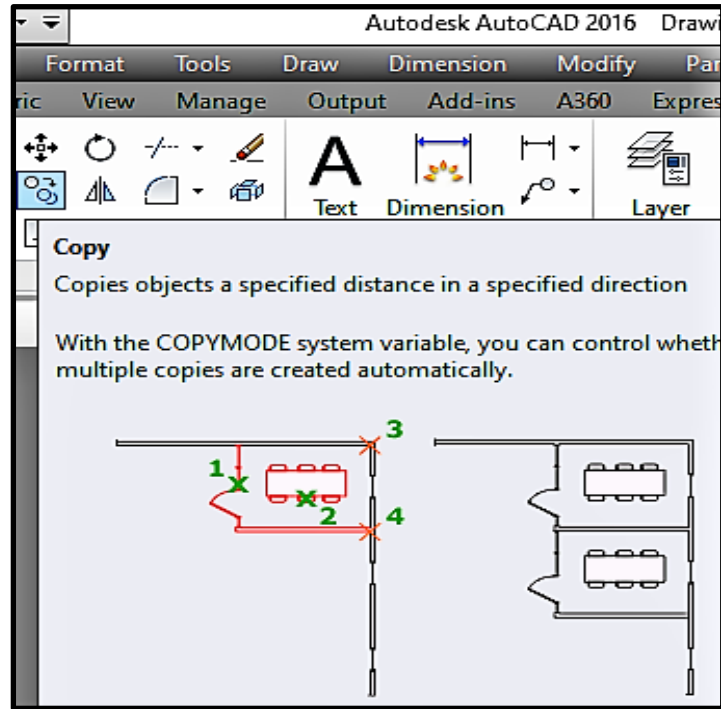
بعدها ندخل قيمة الاحداثيات ونضغط على مفتاح Enter .

(3) الأمر Delete :

يستخدم هذا الأمر لحذف أي خط أو عنصر وذلك من خلال تحديد الكائن المراد مسحه عن طريق زر الماوس الايسر ثم نقوم بالضغط على زر Delete في الكيبورد .

(4) الامر Copy :

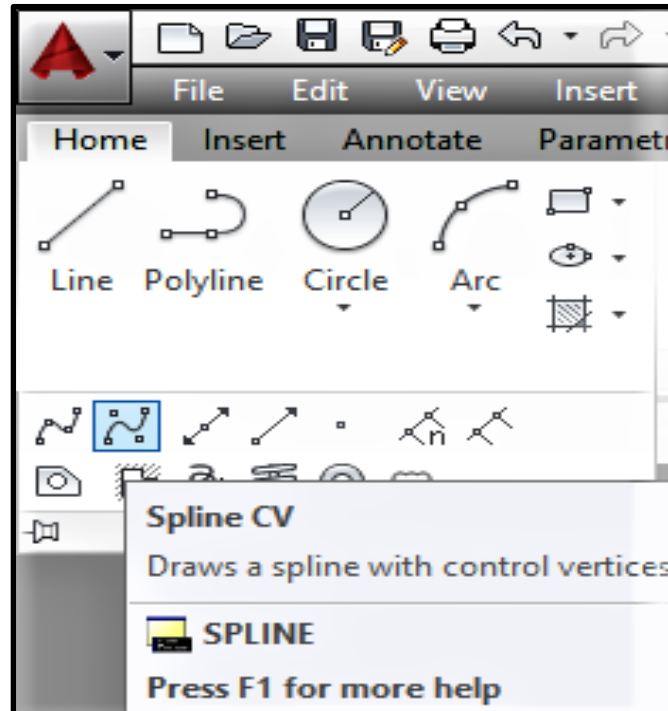
يستخدم هذا الامر لنسخ أي كائن من مكان الى اخر من خلال قائمة Modify نختار Copy كما في الشكل رقم (5-5) ثم نقوم بكتابة Co في شريط الاوامر Command وذلك بعد اختيار العنصر المراد نسخه وكتابة مسافة النسخ ثم الضغط على مفتاح Enter .



الشكل (5-5) اختيار الامر Copy

(5) الامر Spline :

يستخدم هذا الأمر لرسم خطوط منحنية وذلك من خلال قائمة Home ثم من قائمة Draw نختار Spline كما في الشكل (6-5).



الشكل (6-5) اختيار الامر Spline

بعد الضغط على الامر تظهر العبارة الآتية :

Specify the first point or [Object]:

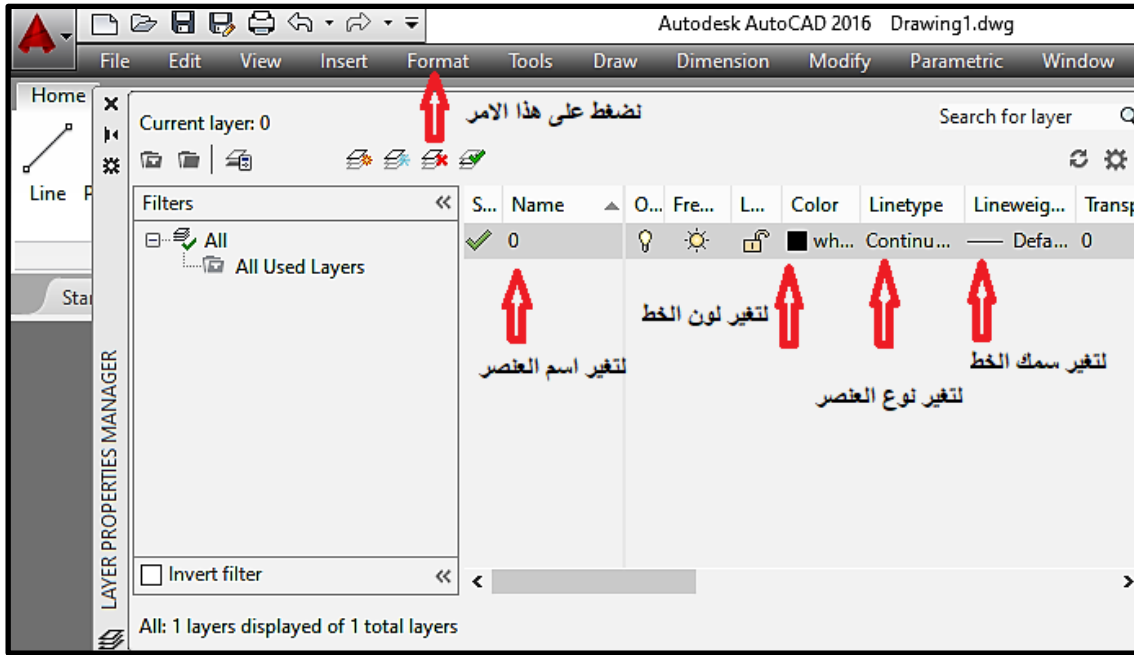
نحدد نقطة البداية ثم الضغط على مفتاح Enter فتظهر العبارة الآتية :

Specify the next point or [Close /Fit tolerance]

لإكمال الرسم والخروج من الأمر نضغط حرف C في شريط الأوامر Command .

(6) الامر layer :

يستخدم هذا الأمر لجعل كل عنصر مختص بذاته من حيث سمك الخط ولون الخط ونوعه ويتم ذلك من خلال الضغط على قائمة Format ثم نختار New Layer كما موضح في الشكل (7-5)

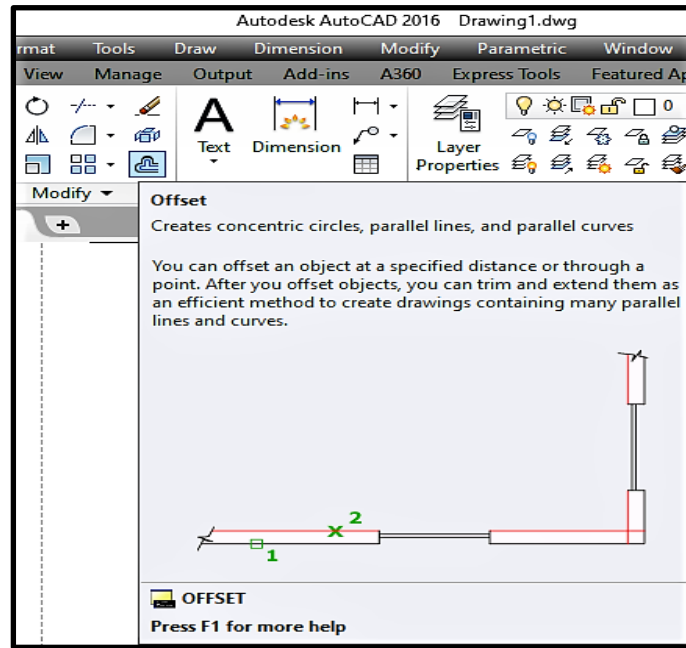


الشكل (7-5) تغيير اعدادات الطبقة Layer

لتغيير لون العنصر نختار العنصر المراد تغيير لونه ثم نختار تغيير لون العنصر ونختار لون مناسب للطبقة الجديدة، أما في حالة لو أردنا تغيير سمك ونوع العنصر نختاره ثم نحدد نوع الخط وسمكه بالنسبة للطبقة التي اخترناها للعنصر.

(7) الأمر Offset :

يستخدم هذا الأمر لرسم عنصر يوازي العنصر المختار بمسافة محددة وذلك من خلال قائمة Modify ثم نختار Offset ، كما موضح في الشكل (8-5) :



الشكل (8-5) : اختيار الامر Offset

نضغط بزر الماوس الأيسر على علامة Offset أو نكتب في شريط الأوامر حرف O وستظهر العبارة الآتية :

Specify offset distance or [Through/Erase/Layer] <Through>:

بعد ذلك سوف يطلب مسافة التوازي للعنصر الجديد نعطيه المسافة مثلا (3) ثم نضغط على Enter سوف تظهر العبارة الآتية :

Specify offset distance or [Through/Erase/Layer] <Through>: 3

بعد ذلك سوف يتحول المؤشر الى مربع ثم نختار العنصر الذي نريد عمل نسخ له ثم نعطيه المسافة 3 وبعد اختيار العنصر سوف تظهر العبارة الآتية :

Specify point on side to offset or [Exit/Multiple/Undo] <Exit>:

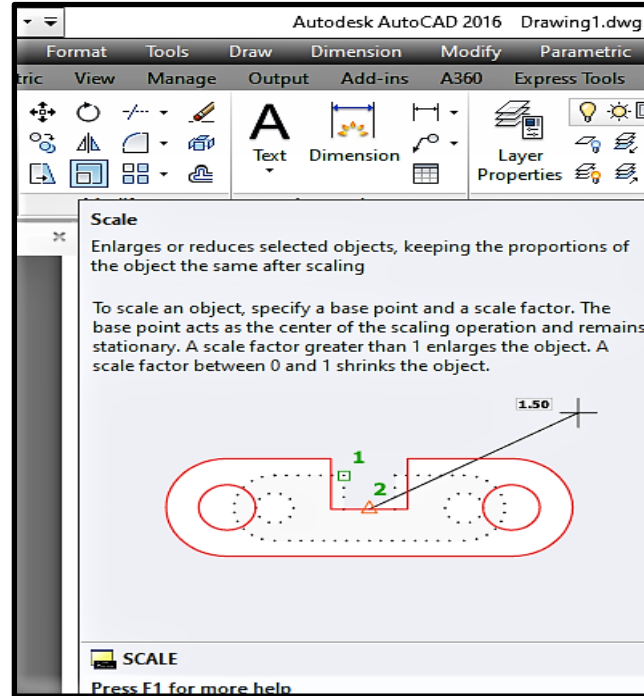
بعدها يتحول مؤشر الماوس الى مربع ومن ثم يطلب تحديد جهة التوازي ثم النقر بزر الماوس الأيسر سوف تظهر العبارة الآتية :

Select object to offset or [Exit/Undo] <Exit>:

ولإنهاء الامر نضغط على Enter .

(8) الامر Scale :

يستخدم هذا الأمر لتكبير أو تصغير العناصر بالاتجاه الطولي او العرضي وذلك من خلال قائمة Modify ثم نختار Scale كما موضح في الشكل (5-9) :



الشكل (5-9) اختيار الامر Scale

بعد اختيار العنصر الذي نريد أن نعمل له Scale والضغط على Enter سوف تظهر العبارة الآتية :

Specify base point:

سيطلب البرنامج نقطة لتكبير أو تصغير العنصر ابتداء منها إذ انه بمجرد تحريك مؤشر الماوس الى العناصر المختارة سوف تكبر او تصغر من هذه النقطة المختارة وتظهر العبارة الآتية :

Specify scale factor or [Copy/Reference]:

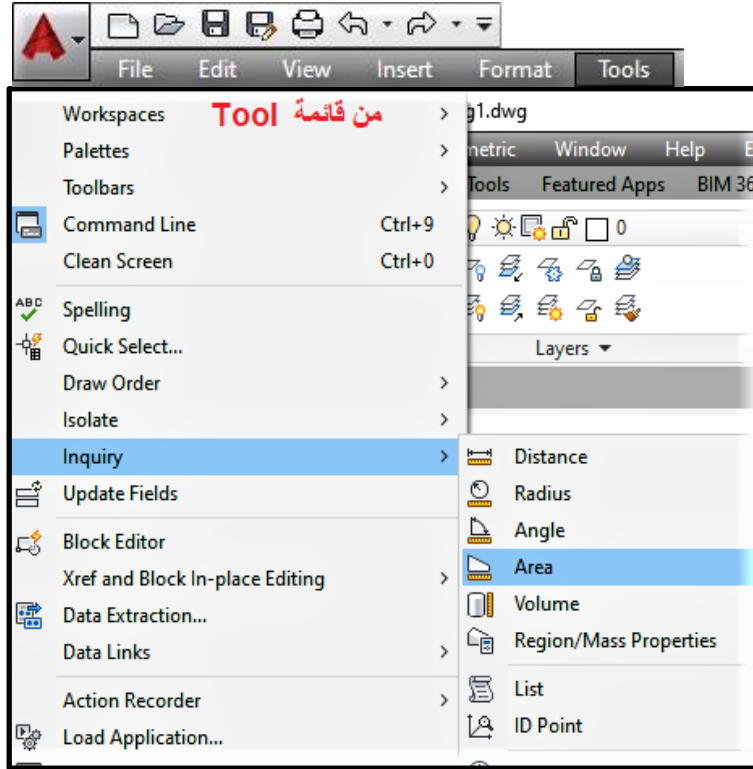
بعدها نحدد نسبة تكبير او تصغير العنصر ام الخيار Copy يستخدم في حال اردنا الإبقاء على العنصر الأصلي بينما الخيار Reference يستخدم لإعطاء طول جديد للعنصر في حالة اختيار نكتب في قائمة ال- Command حرف r ثم نضغط على Enter :

Specify scale factor or [Copy/Reference]: r

ثم نحدد طول العنصر المختار ثم نضغط على Enter .

(9) الامر Area :

يستخدم هذا الامر لحساب مساحة ومحيط كائن في برنامج الأوتوكاد وذلك من خلال قائمة Tool ثم نختار Inquiry ثم نختار Area كما في الشكل (5-10)



الشكل (5-10) : اختيار الامر Area من قائمة Tool

او يمكن ان نكتب حرف aa في قائمة command فتظهر اختيار Area بعدها تظهر العبارة الآتية :

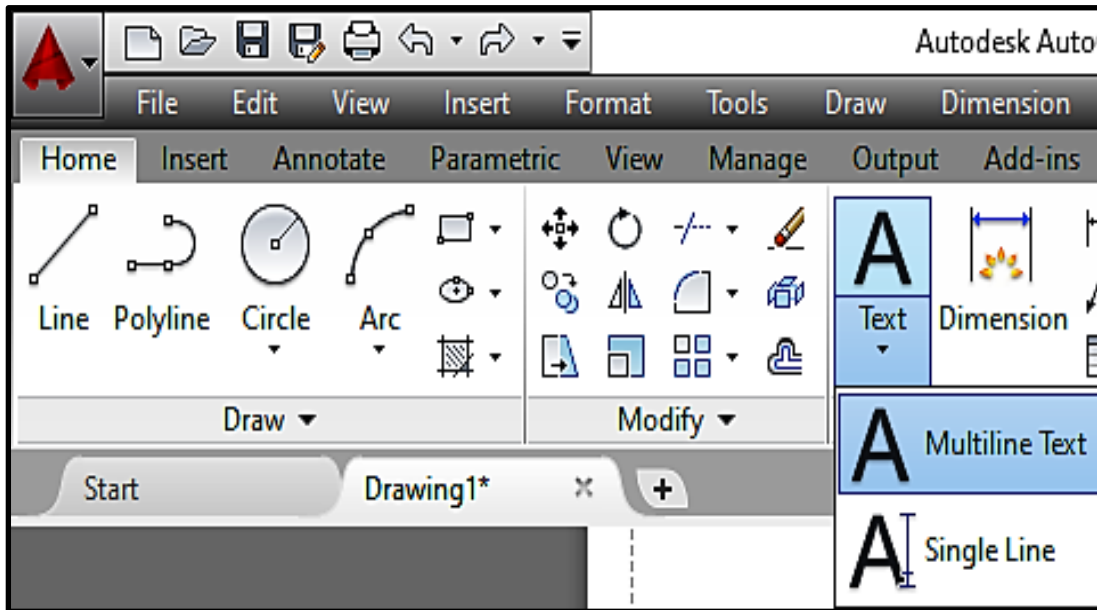
Specify first corner point or [object Add area Subtract area exit] :

بعد ذلك سيكون المؤشر على شكل زائد مع علامة استفهام نقوم بتحديد نقاط الشكل المطلوب حساب مساحته ثم نضغط Enter .

(10) الامر Text :

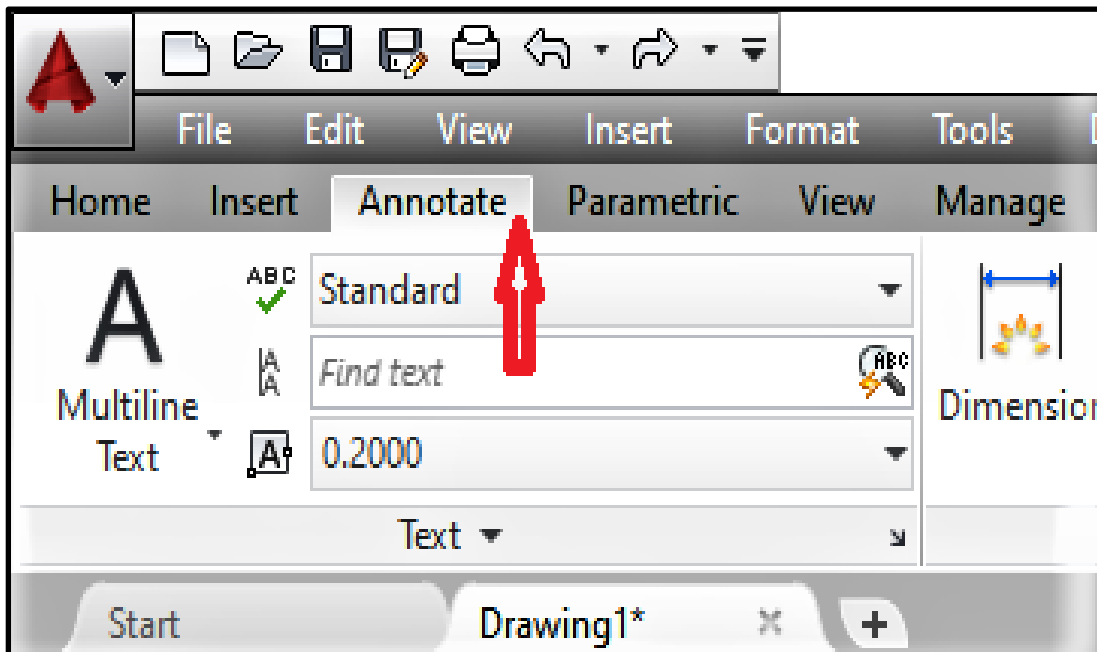
يستخدم الامر Text للكتابة في برنامج الأوتوكاد ويمكن من خلال هذا الامر الكتابة باللغة الإنكليزية واللغة العربية من خلال إضافة الخطوط الى مجلد البرنامج الموجود في القرص الصلب .

ويمكن الكتابة في برنامج الأوتوكاد من خلال شريط الأدوات Home واختبار الامر Text الذي يكون على شكل حرف A وكما موضح في الشكل (5-11) .



الشكل (5-11) : اختيار أمر الكتابة Text

ويوجد نوعان من الكتابة في برنامج الأوتوكاد الأول كتابة نص منفرد Single line text والثاني كتابة نص متعدد الأسطر Multiline Text . ويمكن الدخول على الامر من كتابة DT في شريط الأوامر Command أو من خلال شريط Annotate كما في الشكل (5-12)



الشكل (5-12) : اختيار الامر Text من شريط Annotate

عند الضغط بزر الماوس الايسر على الامر واختيار Single Text تظهر العبارة الآتية :

Specify start point of text or [Justify/Style]:

بعد ذلك نحدد نقطة بداية النص ثم ندخل ارتفاع النص مثلا 2.0 ثم نضغط Enter .

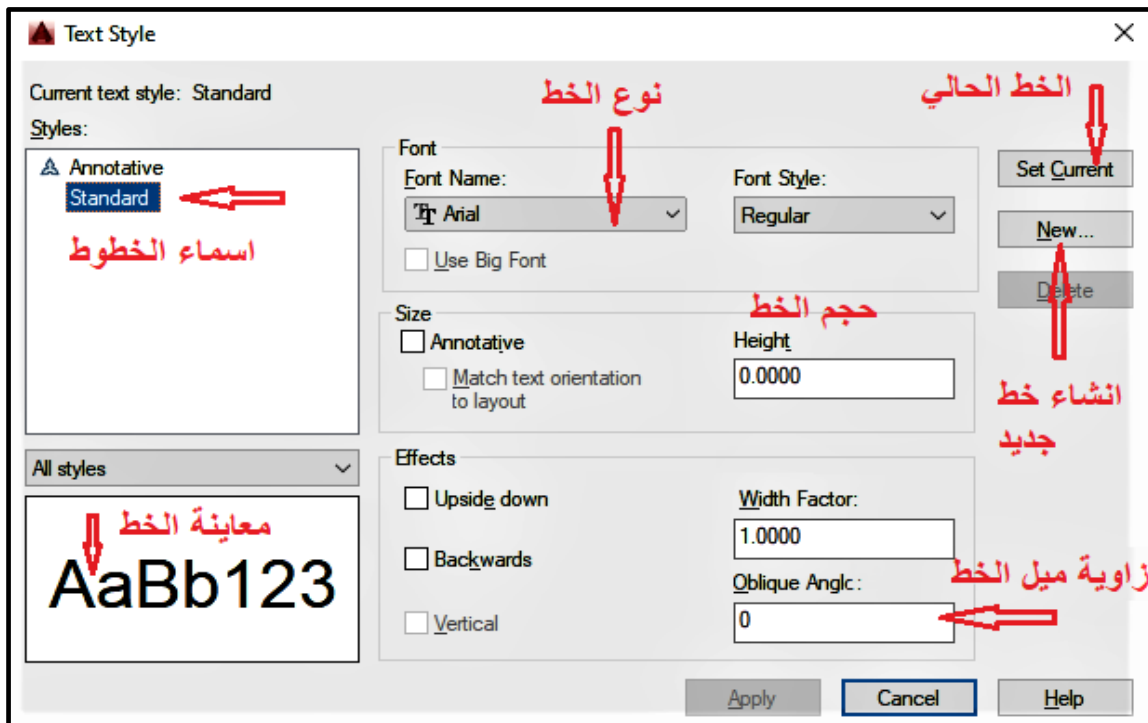
Specify height <0.2000> :

بعدها ندخل زاوية النص ولتكن 0 ثم نضغط Enter .

Specify rotation angle of text <0> :

بينما خيار الكتابة بصيغة Multi line text فنطبق نفس الخطوات بعد الدخول على الامر من خلال كتابة DT في شريط الاوامر Command أو من خلال شريط Annotate نحدد نقطة بداية مستطيل الكتابة وزاوية الكتابة ثم نضغط Enter .

أما اذا اردنا التعديل على الكتابة فنضغط على ST في شريط ال Command أو من خلال الضغط على Text Style في شريط Annotate فتظهر القائمة الآتية كما في الشكل (5-13) .



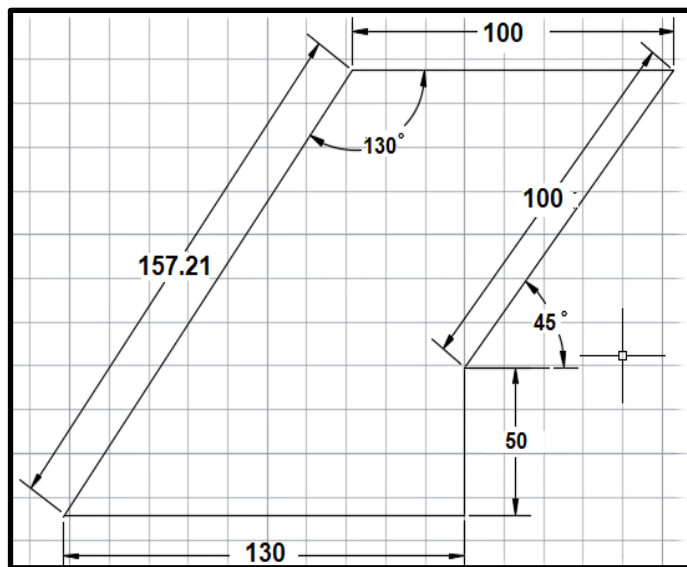
الشكل (5-13): اختيار أمر تعديل الكتابة Text Style من شريط Annotate

3-5 رسم حدود قطعة أرض باستخدام برنامج أوتوكاد

Drawing Boundaries of a Land Using AutoCAD

يتم رسم حدود قطعة أرض في برنامج الأوتوكاد (AutoCAD) من خلال الأوامر والايجازات الخاصة بالرسم التي تعلمناها سابقا ومنها الأمر Line والامر Spline وأوامر أخرى . وهناك عدة طرق لحساب حدود قطعة أرض ومنها :

1- رسم حدود قطعة أرض بمعلومية أطوال أضلاع القطعة عند طريق شريط القياس في برنامج اوتوكاد كما في الشكل (14-5) :



الشكل (14-5) : رسم حدود قطعة أرض بمعلومية أطوال أضلاع القطعة

لكي يتم رسم اضلاع القطعة التي تم استخراج اضلاعها بشريط القياس واستخراج الزاوية من عملية التثليث يتم فتح البرنامج والضغط على أمر Line في شريط أدوات الرسم Draw toolbar ويتم تحديده من خلال الضغط عليه بزر الماوس الايسر كما في الشكل (15-5) :



الشكل (15-5) اختيار الامر Line من قائمة Home

أو الضغط في لوحة المفاتيح على حرف L ثم الضغط على Enter سوف تظهر في شاشة الأوامر في أسفل البرنامج command prompt area الرسالة النصية الآتية :

" Specify First Point"

هنا يتم ادخال احداثيات نقطة البداية للضلع الأول مثلا 10,10 والضغط على مفتاح Enter في الكيبورد بعدها سوف تظهر في شريط الأوامر command الرسالة النصية الآتية :

“To point “

بعدها سوف ندخل طول الضلع الاول والذي ستكون احداثياته 130,0 .

To point : 130,0

او يمكن ان نكتبه في شريط الأوامر Command بالصيغة الآتية :

Enter @ 130 < 0 ثم الضغط على

بعدها يتم رسم الضلع الثاني وذلك بإدخال طوله ومقدار الزاوية كما في المثال أعلاه :

Enter @ 130 < 90 ثم الضغط على مفتاح

بعد ذلك يتم رسم الضلع الثالث وذلك بكتابة @ 100 < 45 ثم الضغط على مفتاح Enter .

ثم نقوم بإدخال الضلع الرابع وذلك بكتابة @ -100 < 0 ثم الضغط على مفتاح Enter .

وأخيرا نرسم الضلع الأخير وهو حسب المثال @ 157.21 < -130 ثم الضغط على مفتاح Enter.

ملاحظة / لإنهاء أمر Line نقوم بالضغط على زر Esc أو Spacebar في لوحة المفاتيح .

2- رسم حدود قطعة أرض بمعلومية احداثيات النقاط التي تم ايجادها باستخدام جهاز المحطة المتكاملة
. Total Station

تمرين 1-5 : تم إيجاد احداثيات القطعة وعمل مضلع مغلق باستخدام جهاز المحطة المتكاملة Total Station وكانت النتائج كما مبينة في جدول (1-5) ، المطلوب رسم حدود القطعة ABCDE باستخدام برنامج الأوتوكاد .

الجدول (1-5) : احداثيات القطعة

الاحداثي Y	الاحداثي X	النقطة
1110.72	1050.32	A
1070.41	1160.33	B
1080.79	1320.60	C
1185.29	1300.34	D
1195.40	1065.90	E

الحل : من شريط الأوامر في القائمة العليا لبرنامج أوتوكاد نختار الامر Line سوف تظهر العبارة الآتية في شريط Command :

LINE Specify first point

- نقوم بإدخال احداثيات النقطة الأولى A ونضغط على مفتاح Enter :

LINE Specify first point : 1050.32, 1110.72

- سوف تظهر عبارة "To Point" لإدخال الاحداثي التالي :

- نقوم بعدها بإدخال احداثي النقطة B ونضغط على مفتاح Enter .

Specify next point or [Undo] : 1160.33, 1070.41

- بعد ذلك تظهر رسالة نصية لتحديد النقطة الآتية , نقوم بإدخال احداثيات النقطة C ونضغط على مفتاح Enter :

Specify next point or [Undo] : 1320.60, 1080.79

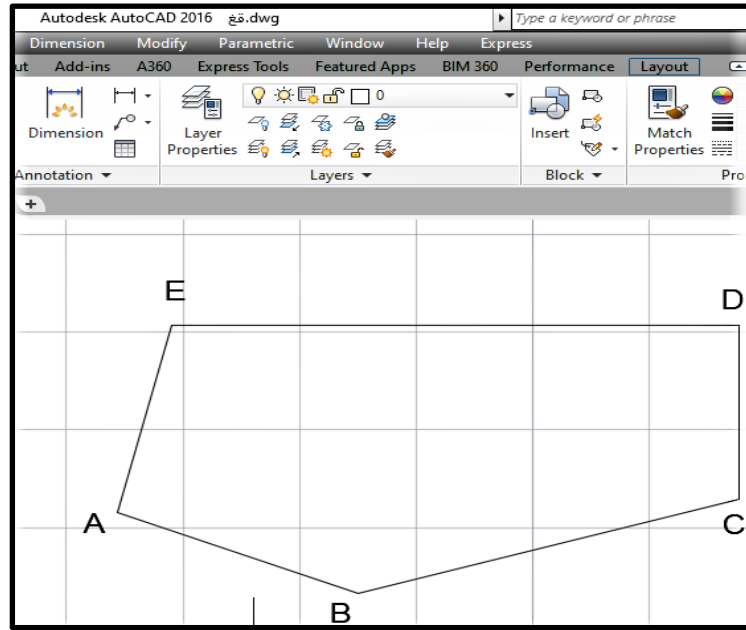
- بعدها نقوم بإدخال احداثيات النقطة D ونضغط على مفتاح Enter :

Specify next point or [Undo] : 1300.34, 1185.29

- بعد الضغط على مفتاح Enter ندخل احداثيات النقطة الأخيرة E ونضغط على مفتاح Enter :

Specify next point or [Undo] : 1065.90, 1195.40

- بعد ذلك سوف تظهر عبارة لتحديد النقطة الآتية نكتب C لإغلاق المضلع ويكون الرسم النهائي كما في الشكل (16-5).



الشكل (16-5) : رسم حدود قطعة الارض ABCDE باستخدام برنامج الأوتوكاد

- تمرين 2-5 : (واجب) باستخدام أوامر الرسم في برنامج أوتوكاد ارسم حدود القطعة المبينة إحداثياتها في الجدول (2-5) ادناه :

الجدول (2-5) : احداثيات قطعة الارض

النقطة	الاحداثي X	الاحداثي Y
A	422.50	24.25
B	581.86	250.31
C	548.13	496.75
D	464.50	519.50
E	308.13	381.46

4-5 رسم نموذج خارطة كادستراية بسيطة باستخدام برنامج أوتوكاد

Drawing a Cadastral Map Using AutoCAD

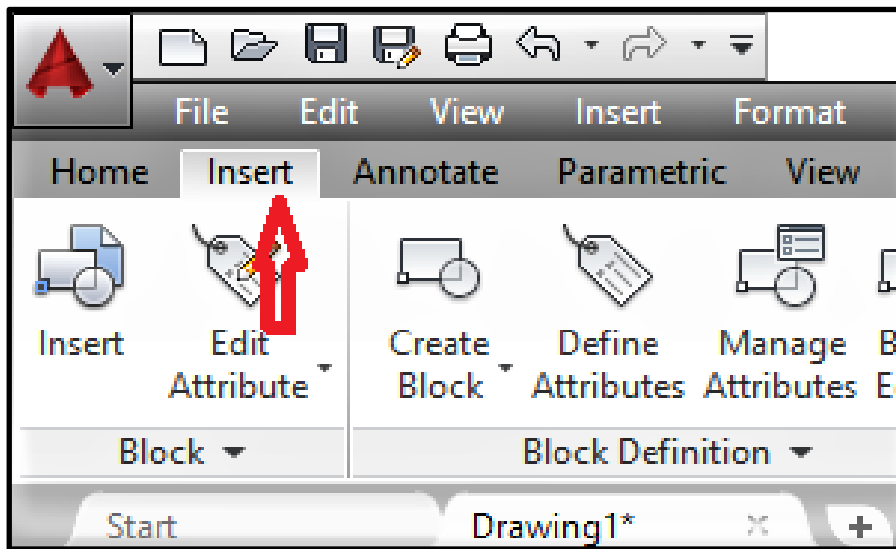
يمكن رسم الخارطة الكادستراية (Cadastral Map) أو خرائط الملكية أما عن طريق ادخال صورة الخارطة الكادستراية الى برنامج الأوتوكاد أو عن طريق رسم الخارطة من خلال احداثيات النقاط.

1-4-5 رسم الخارطة الكادسترائية (Cadastral Map) من خلال صورة الخارطة الكادسترائية :

من الممكن من خلال هذه الطريقة انتاج خارطة كادسترائية بالاعتماد على صورة الخارطة الكادسترائية التي تم تنزيلها مسبقا على شكل صورة ومن ثم رسم الخارطة الكادسترائية بواسطة أوامر الرسم الموجودة في برنامج أوتوكاد وكما في التمرين الاتي :

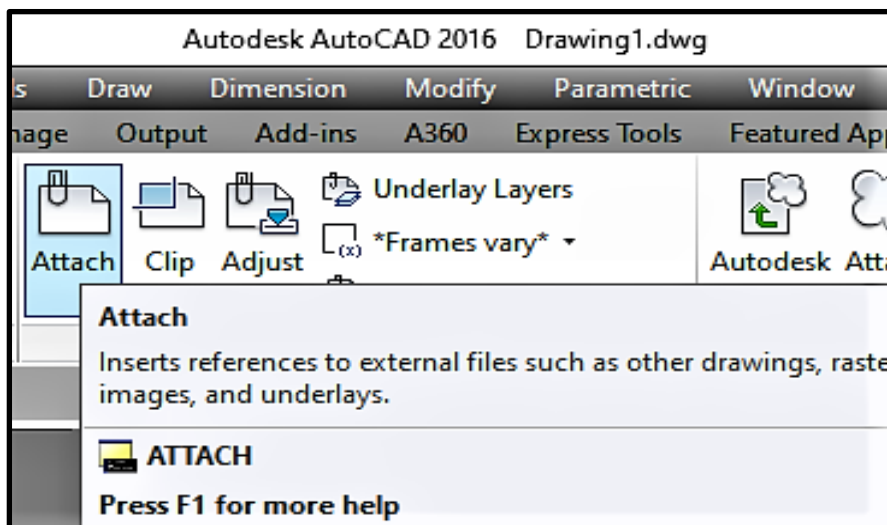
تمرين 3-5 : رسم خارطة كادسترائية من خلال صورة الخارطة الكادسترائية باستخدام برنامج الأتوكاد .

الحل : 1- يتم استدعاء الصورة الخاصة بالخارطة الكادسترائية من خلال الضغط على الامر Insert الموجود في شريط المهام وكما موضح بالشكل (5-17) :



شكل 5-17 : استدعاء خارطة كادسترائية من خلال الامر Insert

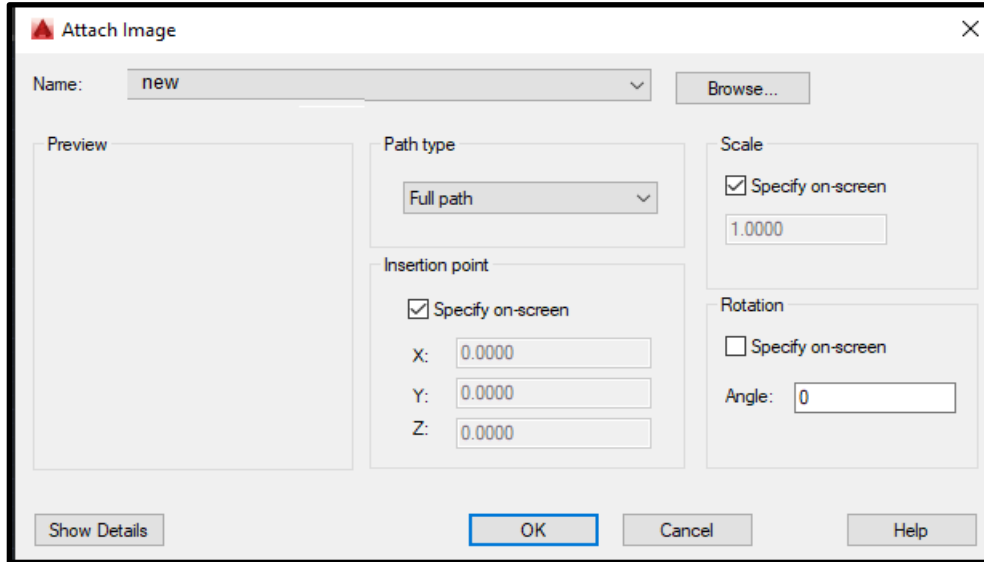
2- بعد ذلك يتم الضغط على أمر Attach الموجود في قائمة Insert وكما موضح في الشكل (5-18) :



شكل 5-18 : اختيار الامر Attach من خلال الامر Insert

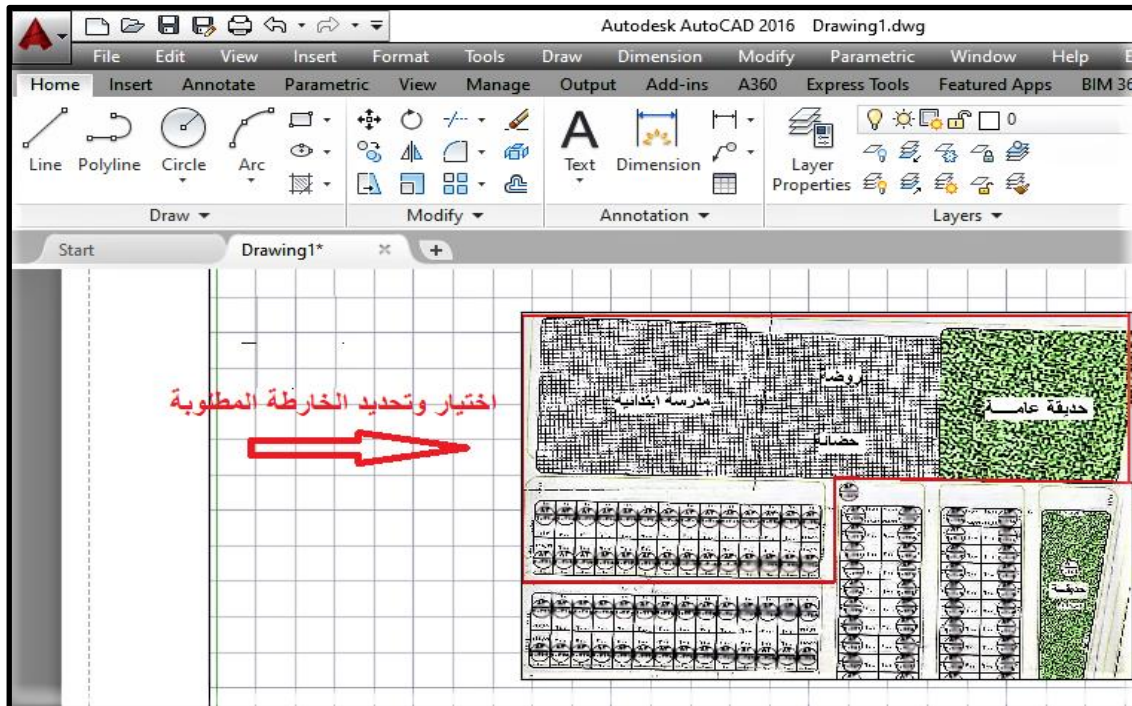
3- بعد ذلك سوف تظهر نافذة لاختيار الملف الخاص بصورة الخارطة الكادسترائية نقوم باختيارها ثم نضغط على open .

4- بعدها ستظهر القائمة الآتية نختار منها صور الخارطة ثم نضغط على Ok كما في الشكل (19-5) .



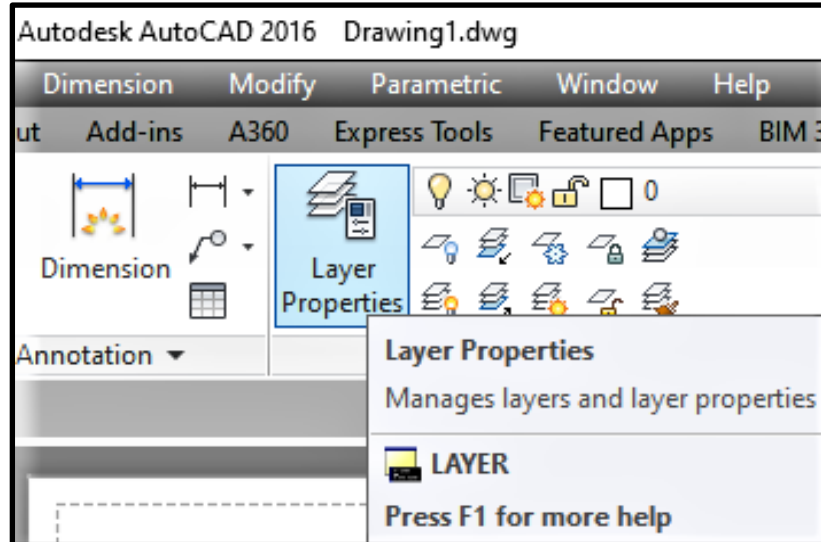
الشكل (19-5) : اختيار صورة الخارطة الكادسترائية من قائمة Name

5- بعد الضغط على زر الماوس في أي مكان لتحديد موقع صورة الخارطة الكادسترائية ومن ثم اختيار حجم الصورة المناسبة ستظهر على شاشة البرنامج كما موضح بالشكل (20-5):

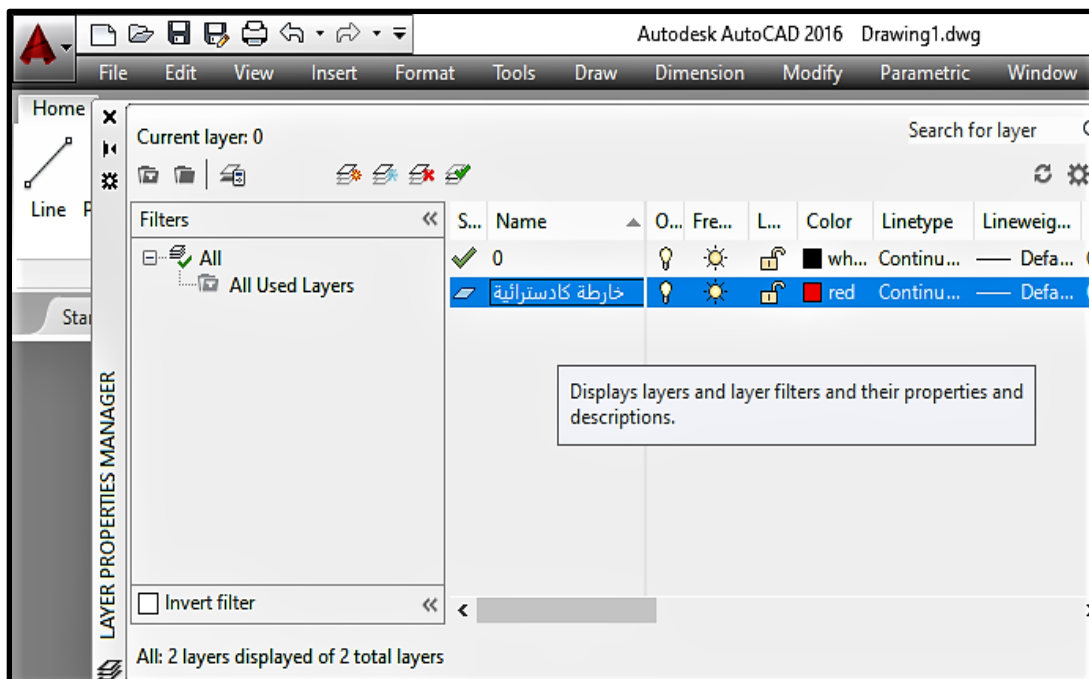


الشكل (20-5): إدراج صورة الخارطة الكادسترائية في برنامج الأوتوكاد

6- بعد ذلك نذهب الى الامر Layer في قائمة Home ثم نعمل new layer ، كما في الشكل رقم (21-5) ونقوم بتسمية الطبقة الجديدة ثم نحدد سمك ولون الخط المناسب ونحدد الخارطة الكادستراتية المطلوبة كما في الشكل (22-5) :

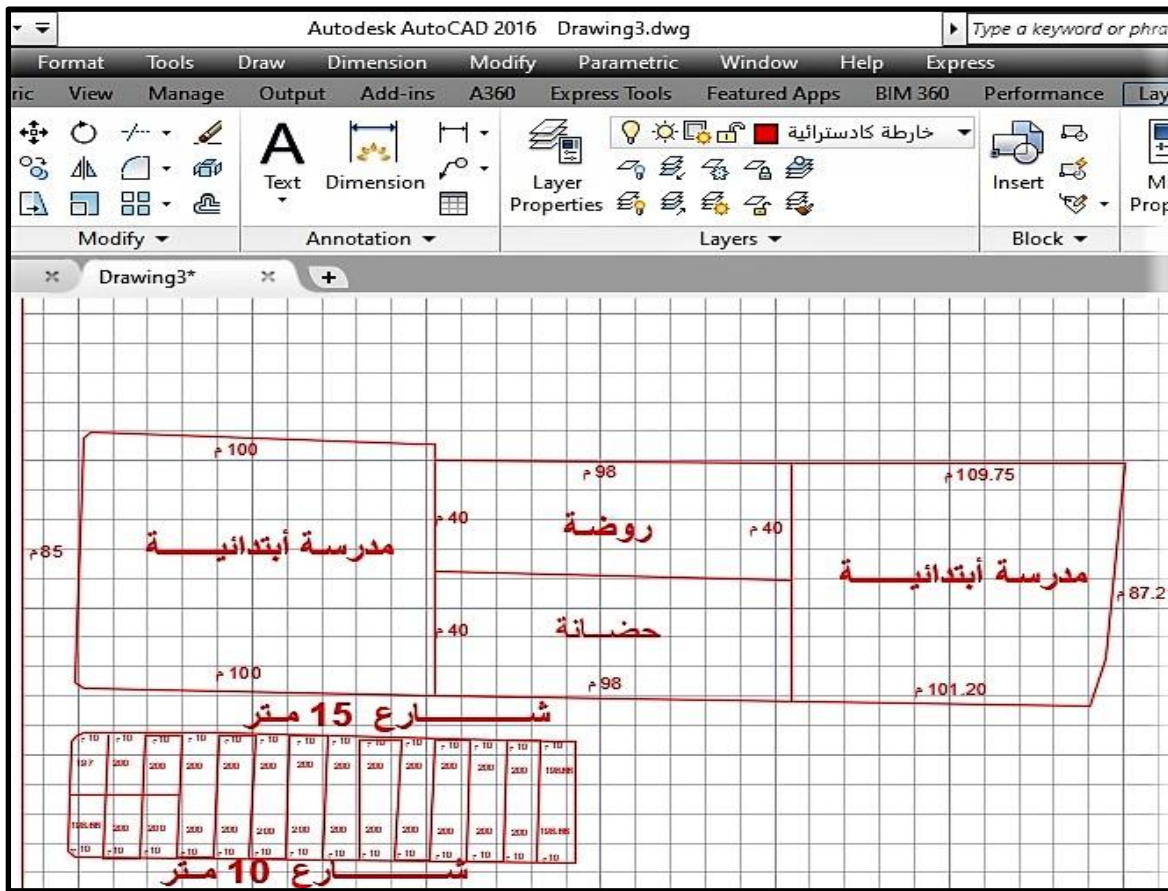


الشكل (21-5): اختيار الامر Layer في قائمة Home



الشكل (22-5): تسمية طبقة جديدة في قائمة Layer وتغيير لون وسمك الخط

7- بعد اختيار الخارطة المطلوبة وتحديدها نكتب المعلومات الموجودة على الخارطة ثم نقوم بإزالة صورة الخارطة الكادستراتية ويبقى رسمها كما في الشكل (23-5):



شكل (5-23): رسم الخارطة الكادسترائية من خلال استدعاء صورة الخارطة الكادسترائية

2-4-5 رسم الخارطة الكادسترائية (Cadastral Map) أو خرائط الملكية من خلال إحداثيات النقاط

: جهاز الرفع المساحي Total Station

يمكن رسم خرائط الكادسترائية عن طريق حساب الاحداثيات بجهاز المساحة Total Station بعد معرفة مقياس الرسم وشبكة الإحداثيات كما تعلمنا ذلك في الفصل الثاني وكما في التمرين الآتي :

تمرين 4-5 : تم رفع النقاط لمنطقة معينة باستخدام جهاز المساحة Total Station وكانت النتائج كما مبين في الجدول (3-5) المرفق ادناه.

المطلوب : رسم الخارطة الكادسترائية على برنامج الأوتوكاد باستخدام احداثيات النقاط الموجودة بالجدول (3-5) المرفق .

الجدول (3-5) : احداثيات النقاط المرفوعة لمنطقة معينة

170	540	40
170	460	41
140	460	42
140	380	43
170	380	44
170	290	45
160	290	46
160	210	47
170	210	48
170	160	49
200	160	50
200	220	51
310	220	52
310	160	53
290	160	54
290	200	55
280	210	56
220	210	57
290	200	58
210	160	59
360	160	60
370	160	61
370	240	62
360	260	63
370	240	64
390	260	65
420	260	66
420	240	67
440	240	68
310	340	69
390	160	70
360	280	71
360	340	72
440	340	73
440	280	74
440	380	75
440	390	76
390	390	77
370	410	78
360	380	79
370	540	80
360	540	81

الاحداثي الصادي y	الاحداثي السيني X	النقطة
440	160	1
440	540	2
140	540	3
140	160	4
280	280	5
280	310	6
310	310	7
190	540	8
190	540	9
190	280	10
210	280	11
210	350	12
190	350	13
190	440	14
310	440	15
260	440	16
260	410	17
310	410	18
260	320	19
260	340	20
250	340	21
250	410	22
240	410	23
230	410	24
220	420	25
220	360	26
230	420	27
220	490	28
220	510	29
230	360	30
240	420	31
270	490	32
270	510	33
280	510	34
280	540	35
220	540	36
220	510	37
230	510	38
230	490	39

الحل :

1- نرسم شبكة الاحداثيات في برنامج أوتوكاد بعد ان نفرض فترة شبكة الاحداثيات = 100 m

و نفرض مقياس رسم مناسب مثلا $\frac{1}{1000}$

2- نضغط على مفتاح الادخال ونختار الامر Line ثم نضغط Enter .

3- نقوم الان بإدخال احداثيات النقطة الأولى وهي 160 , 440 في شريط الأوامر Command فستظهر العبارة الآتية :

Specify first point: 160 ,440

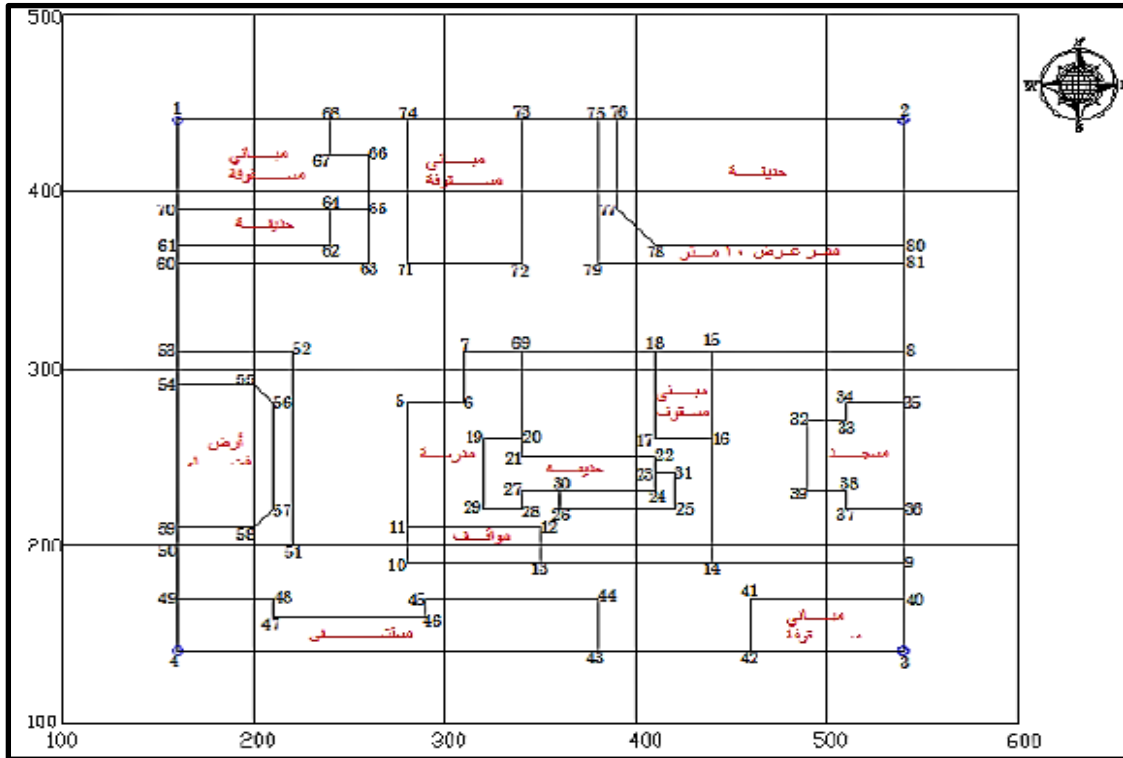
4- بعدها نقوم بإدخال النقطة الآتية في شريط الأوامر Command ونضغط على مفتاح Enter :

Specify next point or [Undo]: 540 ,440

5- بعدها نقوم بنفس الأسلوب بإدخال جميع احداثيات النقاط وفي نهاية نكتب حرف C لإغلاق المضلع والضغط على مفتاح Enter للخروج من الامر .

Specify next point or [Close/Undo]: c

وفي النهاية سوف يكون الشكل النهائي للخارطة الكادسترائية كما في الشكل (5-24) .



شكل (5-24): رسم الخارطة الكادسترائية من شبكة الإحداثيات

5-5 رسم مقطع طولي بسيط Using AutoCAD

بعد ان تعلمنا سابقا كيفية إيجاد مقطع طولي (Profile) لأي مشروع عن طريق معرفة المسافة الأفقية للمشروع عن طريق شريط القياس والتي يتم تمثيلها بالمحور الأفقي (X) بعد ان نختار مقياس رسم صغير له مثلا (1/500) أو (1/1000) و المحور الرأسي (Y) الذي يمثل مناسيب النقاط التي ترسم بمقاييس رسم اكبر من مقياس الرسم للمسافات الأفقية مثل (1/50) أو (1/100). نقوم الآن برسم المقطع الطولي (Profile) بالأوتوكاد عن طريق رسم شبكة الاحداثيات (شبكة مربعات) بالاعتماد على المعطيات في جدول الاحداثيات .

تمرين 5-5 : أرسم المقطع الطولي لطريق مقترح لاحد المشاريع باستخدام برنامج أوتوكاد بالاعتماد على المعطيات المبينة في الجدول (4-5) , بحيث تكون فيه النقطتان الأولى والأخيرة للمشروع بنفس منسوب الأرض الطبيعية ، وارسم عليه خط الانشاء المقترح للطريق باستخدام القياسات الحقلية .

جدول (4-5) : المحطات ومناسيب النقاط على الأرض الطبيعية ومناسيب خط الأنشاء

النقطة Point	المحطات Stations	مناسيب الأرض الطبيعية Ground Elevation	مناسيب خط الانشاء Grade Elevation
1	0+00	15	15
2	1+00	30	20
3	2+00	10	25
4	3+00	25	30
5	4+00	45	35
6	5+00	40	40

يمكن اتباع الخطوات الآتية لحل هذا التمرين:

1- يتم رسم خط أفقي باستخدام الامر Line من شريط الأدوات الرئيسي ثم ندخل احداثيات نقطة البداية ولتكن (0,0) ثم نضغط Enter .

LINE Specify first point : 0,0

يتم الضغط بالماوس في أي مكان من الشاشة فتظهر العبارة الآتية :

To point :

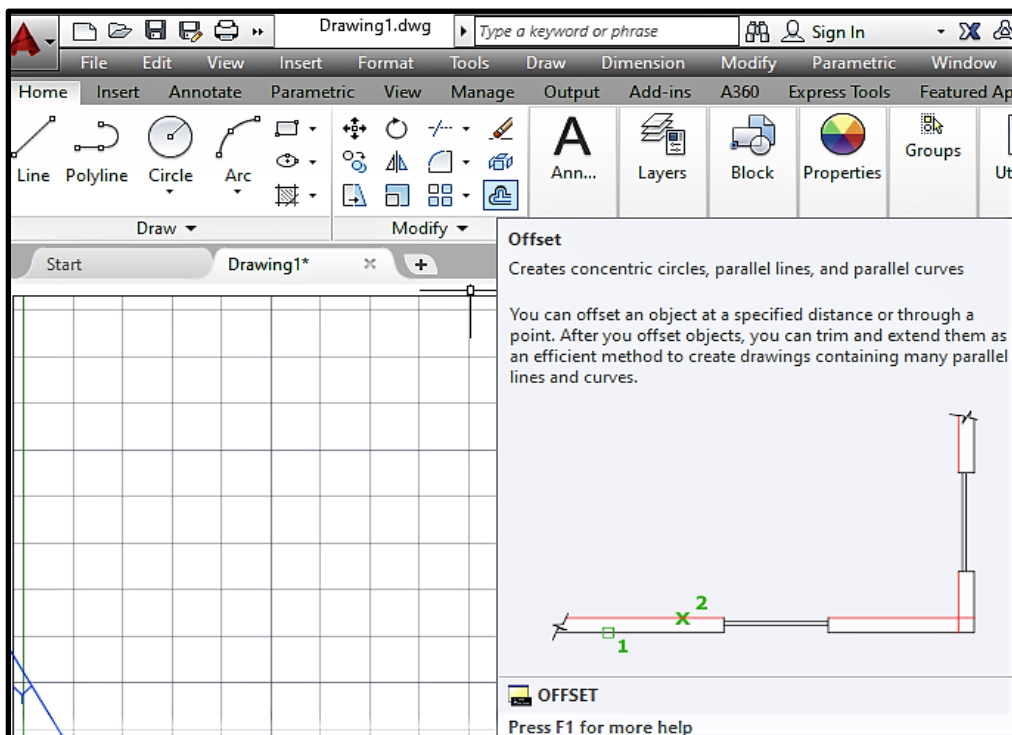
فيتم ادخال الاحداثي الأفقي والذي يمثل المحطات بعد ان نختار مقياس مناسب فيتم ادخال @ 50,0 حسب المعطى بالتمرين ثم الضغط على مفتاح Enter فيظهر الخط المطلوب وكالاتي:



2- يتم ادخال الخط العمودي بنفس الطريقة والذي يمثل مناسب النقاط على وفق الجدول المرفق وبالطول المحدد @ 0,50 والضغط على مفتاح Enter فيظهر الخط المطلوب وكالاتي:



3- نكرر الخط الافقي والعمودي باستخدام الامر offset من شريط الأدوات لرسم خطوط الشبكة بعد ان نختار المسافة بين الخطوط ولتكن 50 وحدة ، وكما في الشكل (5-25)



شكل (5-25): اختيار الامر offset من قائمة Home

بعدها سوف تظهر العبارة الآتية :

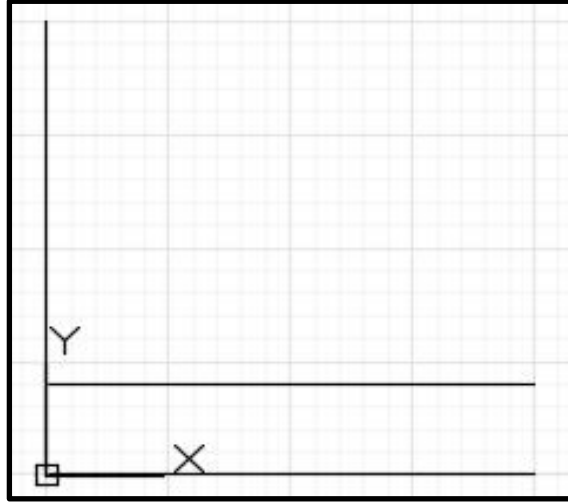
Specify offset distance or [Through/Erase/Layer] <Through>: 50

نقوم باختيار الخط الافقي الذي يمثل المحطات .

بعد ذلك تظهر عبارة لتحديد الجهة التي نريد نسخ الخط الافقي اليها :

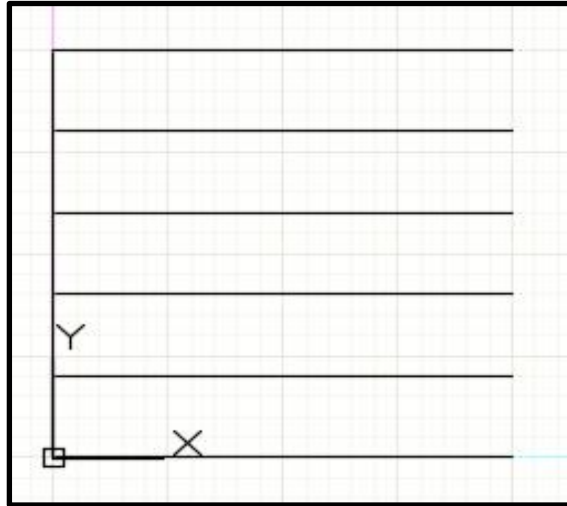
Specify point on side to offset or [Exit/Multiple/Undo] <Exit>:

نضغط على الجهة التي أعلى الخط الافقي فسيتم إنشاء خط افقي جديد كما في الشكل (5-26)



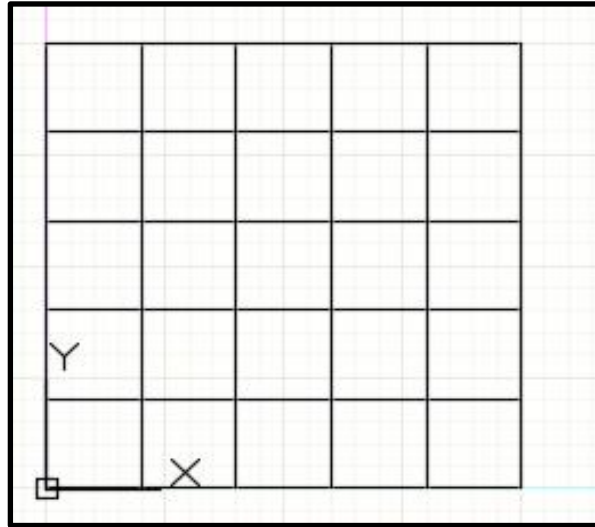
شكل (5-26) : إنشاء خط افقي جديد

بعدها نقوم بتكرار نسخ الخط لحين رسم جميع الخطوط الافقية وكما موضح بالشكل (5-27) :



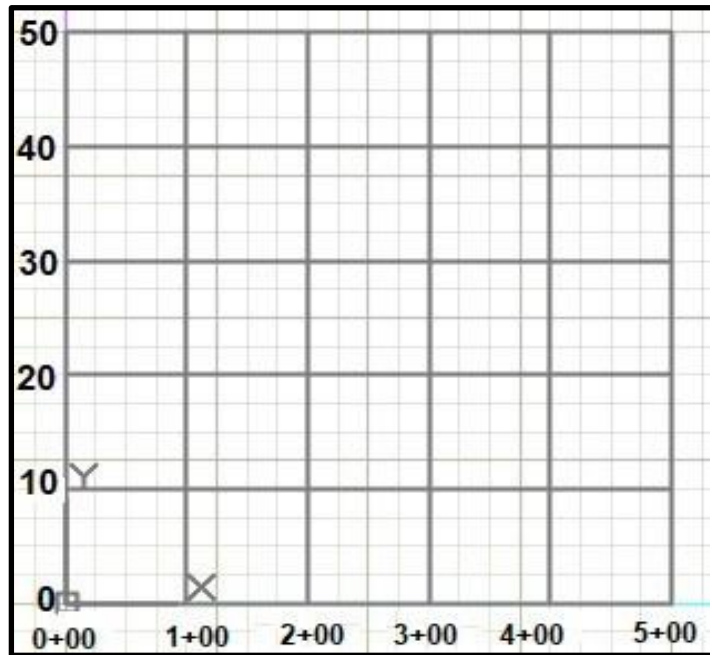
شكل (5-27) : رسم جميع الخطوط الافقية باستخدام أمر النسخ

4- لرسم الخط العمودي نختاره وبنفس الطريقة نكرر الخط العمودي بالاعتماد على المسافات الفاصلة الموضحة بالجدول المرفق، نحصل على الشكل (5-28):



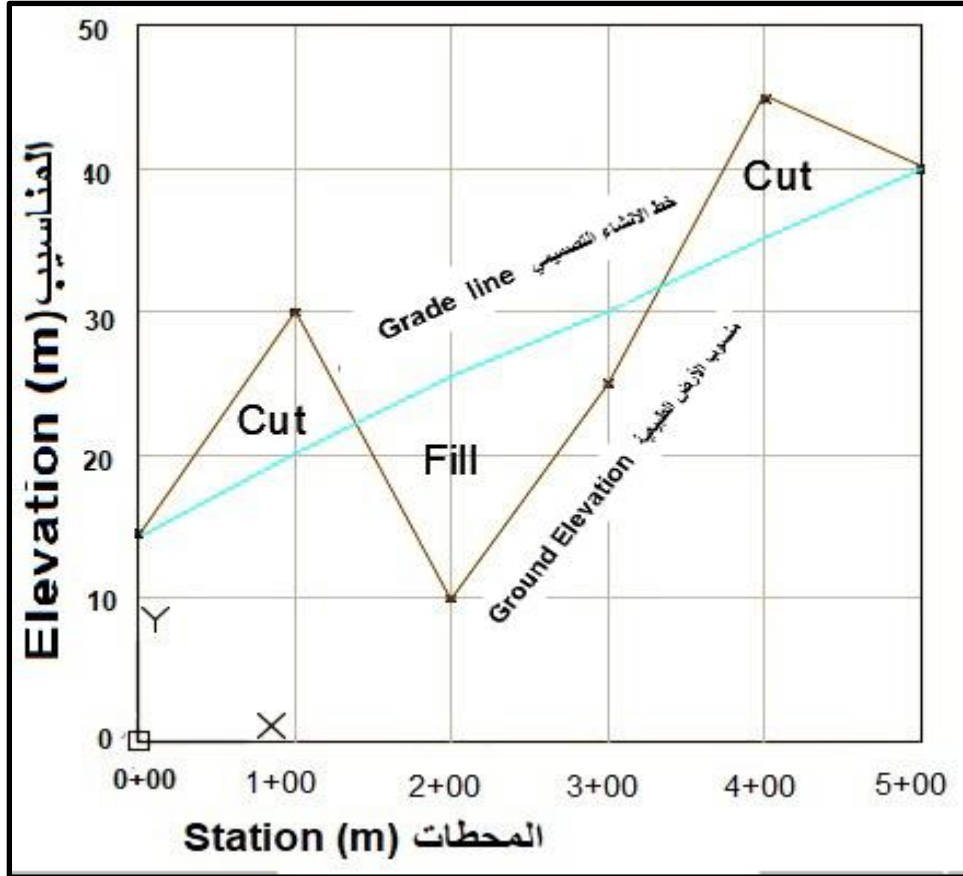
شكل (5-28): رسم جميع الخطوط العمودية باستخدام أمر النسخ

5- بعد ان رسمنا الاحداثيات من الجدول أعلاه نقوم بإدخال قيم الاحداثي الافقي والذي يمثل المحطات والاحداثي العمودي والذي يمثل المناسيب كما في الشكل (5-29) .



شكل (5-29) : وضع المناسيب والمحطات على الاحداثي السيني والصادي

6- بعدها يتم ادخال قيم الاحداثي الافقي والاحداثي العمودي للمقطع الطولي من الجدول المرفق لرسم مناسيب الارض الطبيعية وخط الانشاء التصميمي وكتابة تفاصيل الرسم وكما مبين في الشكل (5-30) .



شكل (5-30): رسم المقطع الطولي وخط الانشاء التصميبي للمشروع

تمرين 5-6 : (واجب) باستخدام أوامر الرسم لبرنامج الأوتوكاد وحسب القراءات المدونة في الجدول (5-5) ، ارسم المقطع الطولي لطريق بحيث تكون المسافات متساوية وهي (100 m) للمشروع بنفس منسوب الأرض الطبيعية وارسم خط الانشاء التصميبي للطريق.

جدول (5-5) : المحطات ومناسيب النقاط على الأرض الطبيعية ومناسيب خط الانشاء

المحطة Station	منسوب الأرض الطبيعية Ground Elevation	منسوب خط الانشاء Grade Elevation
0+00	75.0	75
1+00	72.0	73
2+00	70.5	72
3+00	69.0	67
4+00	65.0	63
5+00	61.5	62

5-6 رسم خارطة كنتورية بسيطة

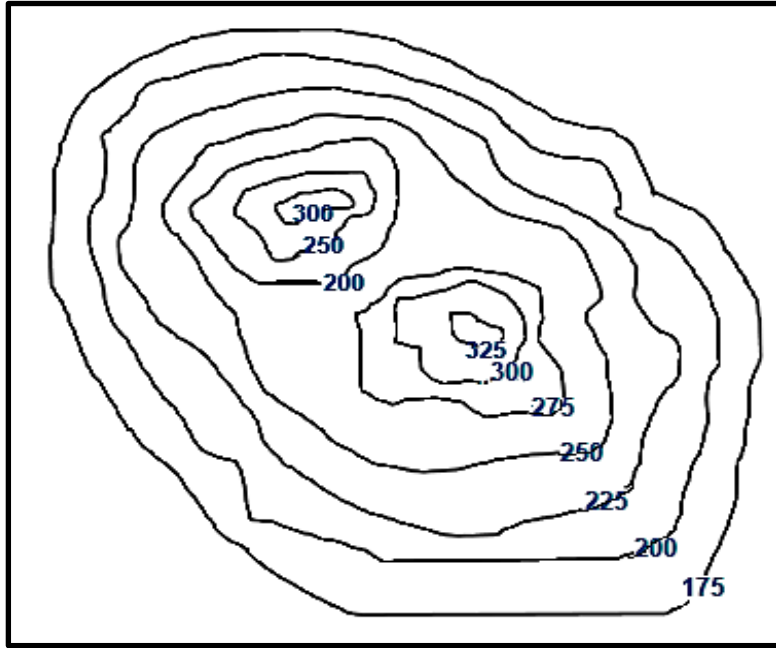
Drawing Contour Map Using AutoCAD

يمكن رسم الخارطة الكنتورية باستخدام برنامج أوتوكاد بعدة طرق منها طريقة ادراج صورة الخارطة الكنتورية في البرنامج أو عن طريق رسم الخطوط الكنتورية بالاعتماد على مناسب النقاط وإدخال قيم الاحداثيات.

5-6-1 رسم الخطوط الكنتورية من أدرج صورة الخارطة الكنتورية :

يمكن انتاج خطوط الكنتور بالاعتماد على صورة الخارطة الكنتورية التي تم ادراجها سابقا بنفس الطريقة التي تم اتباعها في رسم الخارطة الكادسترائية وكالاتي :

1- يتم استدعاء الخارطة الكنتورية من خلال الضغط على الامر Insert الموجود في شريط المهام ثم الذهاب الى الامر Attach ثم استدعاء الصورة وتحديد حجم الصورة المناسب ثم الضغط على ok كما في الشكل (5-31) .



شكل (5-31) : صور الخارطة الكنتورية

2- يتم الضغط على الامر Spline فسوف تظهر العبارة الآتية في شاشة Command :

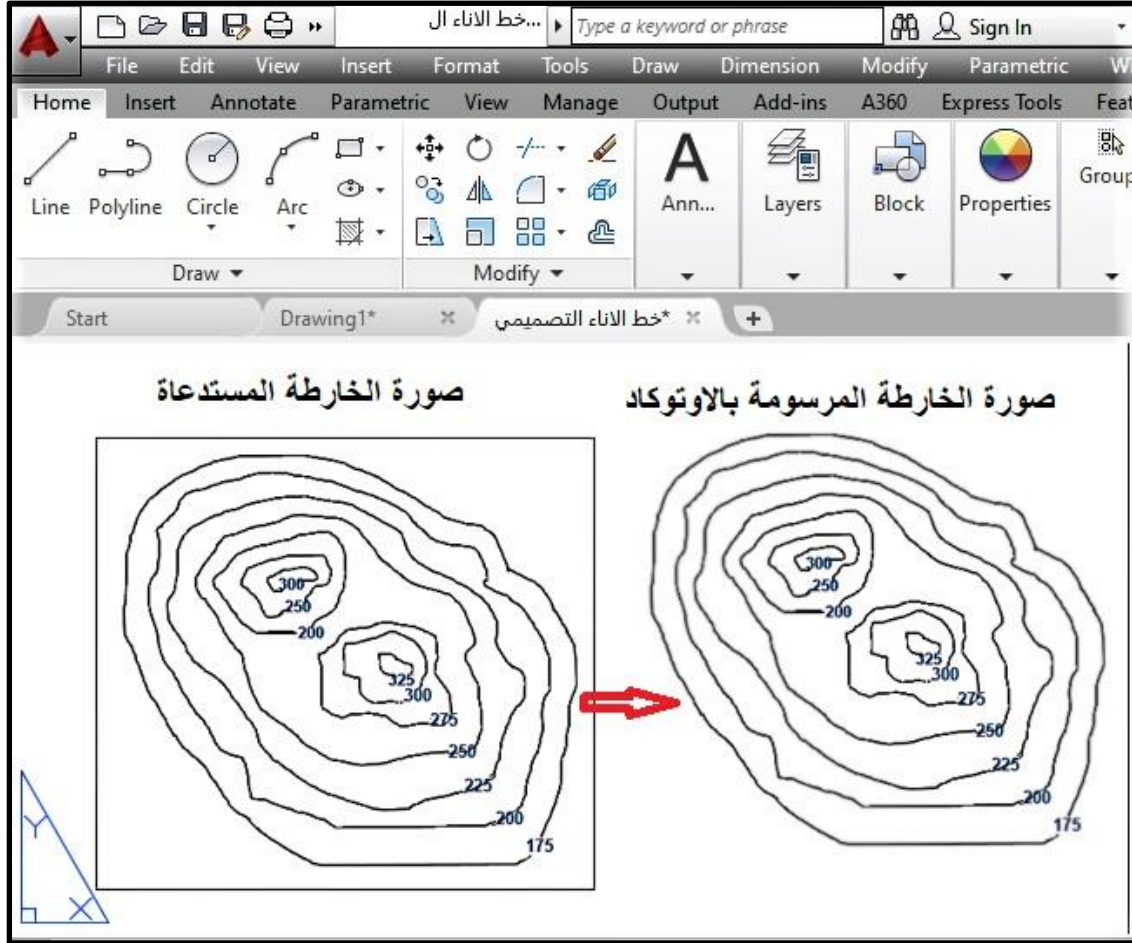
Specify first point of the spline :

يتم الضغط على النقطة الأولى في الخط الكنتوري الأول ذي المنسوب (3000) :

Specify next point of the spline :

بعدها وبنفس الطريقة يتم اختيار خط الكنتور الثاني والثالث لحين اكمال جميع الخطوط المطلوبة ثم كتابة رقم المنسوب عليها .

3- بعد ذلك نقوم بإزالة صورة الخارطة الكنتورية لتبقى الخطوط الكنتورية التي رسمناها باستخدام الامر Spline وكما في الشكل رقم (5-32) :



الشكل (5-32): صورة الخارطة الكنتورية المستدعاة ورسمها في برنامج أوتوكاد

5-6-2 رسم الخطوط الكنتورية عن طريق احداثيات النقاط والمناسيب :

من الممكن رسم الخارطة الكنتورية باستخدام برنامج أوتوكاد عن طريق انشاء شبكة المناسيب للنقاط باستخدام الأجهزة المساحية وشريط القياس (كما تعلمنا ذلك سابقا) حيث يتم ادخال قيم احداثيات كل خط كنتور باستخدام اوامر الرسم في أوتوكاد وكما موضح في التمرين ادناه :

تمرين 5-7 : (واجب) يطلب مدرس المادة المختص من كل طالب رسم الخارطة الكنتورية اعتماداً على احداثيات ومنسوب النقاط المبينة في الجدول (5-6) المرفق .

جدول (5-6) حادثيات خطوط الكنتور

احداثيات خط الكنتور الاول			احداثيات خط الكنتور الثاني			احداثيات خط الكنتور الثالث			احداثيات خط الكنتور الرابع		
الاحداثي X	الاحداثي Y	منسوب النقطة	الاحداثي X	الاحداثي Y	منسوب النقطة	الاحداثي X	الاحداثي Y	منسوب النقطة	الاحداثي X	الاحداثي Y	منسوب النقطة
5	30	212	17	30	225	25	40	235	33	40	240
10	20	212	25	27	225	30	35	235	40	37	240
20	17	212	30	26	225	40	28	235	43	40	240
30	19	212	40	20	225	45	32	235	40	43	240
42	10	212	53	22	225	50	37	235			
50	12	212	56	30	225	47	49	235			
60	14	212	60	35	225	34	50	235			
64	20	212	62	42	225						
70	30	212	55	50	225						
72	40	212	50	54	225						
68	44	212	40	60	225						
66	48	212	30	53	225						
60	62	212	24	47	225						
50	66	212	20	40	225						
40	70	212									
30	67	212									
25	60	212									
20	57	212									
10	50	212									
12	45	212									

يتم اتباع الخطوات الآتية لحل هذا التمرين وكالاتي :

يحتوي الجدول (5-6) على إحداثيات ومناسيب أربعة خطوط كنتورية متتالية ، يمكن رسم هذه الخارطة الكنتورية ببرنامج أوتوكاد عن طريق استخدام الامر Spline لرسم هذه الخطوط وكالاتي :

1- يتم الضغط على الامر Spline في شريط المهام Draw وستظهر العبارة الآتية في شريط الأوامر
: Command “Specify the first point of the spline “ :

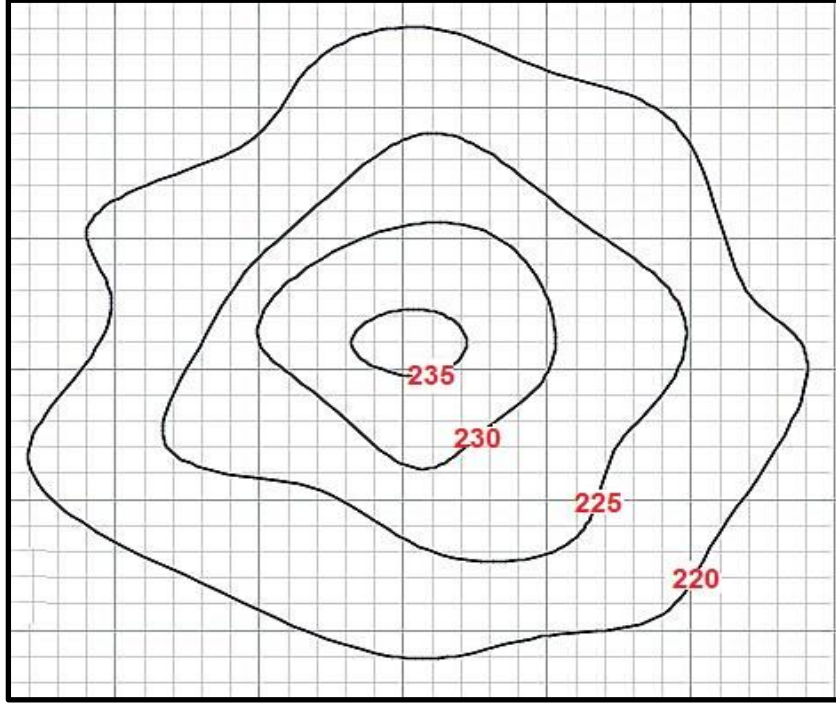
اذ سنقوم بإدخال احداثيات النقطة الأولى لخط الكنتور الأول ذو المنسوب 212 :

“Specify the first point of the spline “ : 5,30

2- بعدها نقوم بالضغط على مفتاح Enter فسوف تظهر العبارة الآتية :

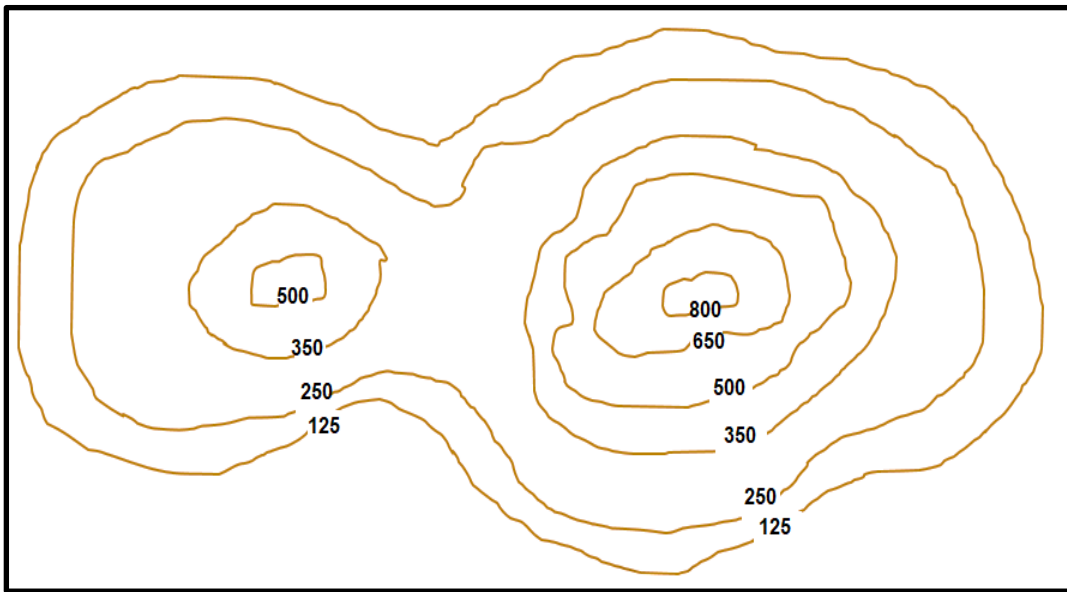
“Specify the next point of the spline “ :

- 3- بعد ذلك يتم ادخال النقطة الآتية لخط الكنتور الأول وهكذا الى ان يتم اكمال وغلق خط الكنتور الأول .
- 4- يعاد نفس الأسلوب لرسم خط الكنتور الثاني والثالث والرابع لحين اكمال جميع خطوط الخارطة الكنتورية المطلوبة وكما في الشكل رقم (5-33) .



الشكل (5-33): رسم الخارطة الكنتورية في برنامج أوتوكاد عن طريق الاحداثيات والمناسيب

- تمرين 5-8: **(واجب)** باستخدام الأمر Spline أرسم الخارطة الكنتورية الموضحة في الشكل (5-34) ادناه بعد خزنها كصورة خارطة كنتورية واستدعائها بواسطة الامر Insert .



الشكل (5-34): صورة الخارطة الكنتورية

المصادر

المصادر العربية :

1. ضياء عبد علي ، "خرائط الكادسترو العراقية في "نظم المعلومات الجغرافية" ، 2007.
2. دائرة الأراضي والمساحة ، "المواصفات الفنية المساحية" ، 2007 ، عمان ، الأردن .
3. عباس زيدان خلف ، "هندسة المساحة" ، وزارة التعليم العالي والبحث العلمي العراقية ، الجامعة التكنولوجية .
4. الهيئة المصرية للمساحة، "دليل الخرائط الطبوغرافية، جمهورية مصر العربية، وزارة الموارد المائية والري .
5. زياد عبدالجبار البكر، المسح الهندسي والكادسترائي، معهد التكنولوجيا، بغداد .
6. المهندس جورج مواس ، 2009 ، شرح جميع أوامر Auto CAD .

المصادر الاجنبية :

1. Updating Urban Cadastral Map and Database Designing by GIS Using Aerial Photos , Dr. Abbas Z. Khalfa , Dr. Imzahim Abdul Kareem Alwan, Noor Hashim .

تم بعونه تعالى